	PROCESO SG-SST	Código	P-SIG-PESV-PROC -06
		Versión	02
	PRUEBA TEORICA PARA CONDUCTORES	Actualización	12/01/2025

TALLER MANEJO

Ingreso _____

Seguimiento _____

Anual _____

Nombre: _____

Identificación No.: _____ Fecha: _____ Ciudad: _____

TEMA	MANEJO
CALIFICACIÓN	
PUNTAJE TOTAL	Aprobó


Referente de Calificación

TEMA	MANEJO
PUNTAJE APROBADO	27

EN LAS SIGUIENTES PREGUNTAS MARCA CON UNA X LA RESPUESTA ADECUADA

1. Líneas discontinuas blancas en el pavimento quieren decir...

- A-Que se permite cruzar la línea con precaución
- B-Que el carril izquierdo es para ciclistas y motoristas
- C-Que el tráfico se mueve en ambas direcciones
- D-Que no se permite cambiar de carril
- E-Puedes cambiar de carril cuando sea seguro hacerlo


	PROCESO SG-SST	Código	P-SIG-PESV-PROC -06
		Versión	02
	PRUEBA TEORICA PARA CONDUCTORES	Actualización	12/01/2025

2. **Si ves esta señal mientras manejas, debes:**
 - A-Reducir la velocidad de tu vehículo
 - B-Incrementar la velocidad de tu vehículo
 - C-Dar vuelta a la izquierda y después a la derecha
 - D-Dar vuelta a la derecha y después a la izquierda

3. **Ante una sola línea amarilla discontinua separando dos carriles de tránsito que se mueven en direcciones opuestas...**
 - A-Puedo cruzar la línea siempre para cambiar de carril
 - B-No puedo cruzar la línea en ningún caso
 - C-Puedo cruzar temporalmente la línea cuando rebaso un vehículo que se encuentra frente a mí
 - D-Debo mantenerme a la izquierda de la línea

4. **Si al aproximarte a una intersección ves esta señal y no hay una línea de detención. ¿Qué debes hacer?**
 - A-No avanzar y dar vuelta de inmediato
 - B-Avanzar lentamente sin detenerte
 - C-Detenerme antes de ingresar en la intersección
 - D-Detenerme justo después ingresar en la intersección

5. **El límite legal de concentración de alcohol en sangre (BAC) por encima del cual puedes ser acusado de Conducir Bajo la Influencia (DUI) es...**
 - A-0.10%

	PROCESO SG-SST	Código	P-SIG-PESV-PROC -06
		Versión	02
	PRUEBA TEORICA PARA CONDUCTORES	Actualización	12/01/2025

B-0.08%

C-0.07%

D-0.05%

6. ¿Qué significa esta señal?

A-Vuelta en U no permitida

B-Vuelta en U permitida

C-Curva cerrada a la izquierda más adelante

D-Giro hacia la izquierda obligatorio

7. Si estás en una intersección y escuchas la sirena de algún vehículo de emergencia, debes...

A-No avanzar y detenerte de inmediato en la intersección

B-Avanzar lentamente y detenerte en la intersección

C-Continuar a través de la intersección y detenerte

D-Continuar a través de la intersección y avanzar lentamente

8. Si el conductor frente a ti está señalando con su mano y brazo apuntando hacia arriba, esto significa que el conductor quiere...

A-Doblar a la derecha

B-Doblar a la izquierda

C-Disminuir su velocidad Detenerse


9. Esta señal representa...

A-Zona escolar

B-Zona de juegos

C-Paso de peatones

D-Una biblioteca

	PROCESO SG-SST	Código	P-SIG-PESV-PROC -06
		Versión	02
	PRUEBA TEORICA PARA CONDUCTORES	Actualización	12/01/2025

10. Esta señal te advierte de...


- A-Un camino resbaladizo
- B-Un camino sinuoso
- C-Un camino cuesta arriba
- D-Un camino de doble sentido

11. Mientras conduces en la neblina, debes usar tus...

- A-Luces bajas
- B-Luces de emergencia
- C-Luces altas
- D-Luces de estacionamiento

12. Cuando haya una línea amarilla sólida y una discontinua en carriles opuestos de tráfico, no debes rebasar...

- A-Si la línea discontinua está de tu lado
- B-Si la línea sólida no está de tu lado
- C-Si la línea sólida está de tu lado
- D-Ninguna de las anteriores

	PROCESO SG-SST	Código	P-SIG-PESV-PROC -06
		Versión	02
	PRUEBA TEORICA PARA CONDUCTORES	Actualización	12/01/2025

13. Esta señal de advertencia representa...


- A**-Inicio de carretera dividida
- B**-Inicio de carril con doble sentido
- C**-Fin de carretera dividida
- D**-Fin de carril de doble sentido

14. Si quieres dar vuelta a la derecha en una intersección con esta señal

- A**-No tienes permitido dar vuelta a la derecha en esta intersección
- B**-Lo puedes hacer mientras la carretera esté despejada
- C**-Debes detenerte y continuar con precaución
- D**-Debes esperar a la luz verde

15. este letrero azul indica...

- A**-Un hospital adelante

	PROCESO SG-SST	Código	P-SIG-PESV-PROC -06
		Versión	02
	PRUEBA TEORICA PARA CONDUCTORES	Actualización	12/01/2025

- B-Una carretera interestatal adelante
- C-Un hotel adelante
- D-Un estacionamiento para personas con discapacidad adelante

16. **Si ves un animal en tu camino, debes...**


- A-Aumentar la velocidad y pasar al animal rápidamente
- B-Usar el claxon y mantener tu velocidad
- C-Reducir la velocidad
- D-Abrir la ventana y gritarle al animal

17. **¿Qué significa este panel de flechas intermitentes?**

- A-El carril adelante está abierto al tráfico
- B-obreros con banderines delante
- C-El carril izquierdo está curándose adelante
- D-El carril adelante está cerrado

18. **Esta figura octagonal es...**

- A-Una señal de no entrar
- B-Una señal de ceder el paso
- C-Una señal de detención
- D-Una señal de camino en construcción

	PROCESO SG-SST	Código	P-SIG-PESV-PROC -06
		Versión	02
	PRUEBA TEORICA PARA CONDUCTORES	Actualización	12/01/2025

19. Si ves dos líneas amarillas sólidas en tu camino, esto significa que...

- A-Rebasar está permitido en cualquier momento
- B-Rebasar está prohibido
- C-Rebasar está permitido durante el día
- D-Rebasar está permitido durante la noche

20. Las señales amarillas y con forma de diamante, con letras o símbolos negros...


- A-Son señales de detención
- B-Son señales de destino
- C-Son señales de advertencia
- D-Son señales de servicio

21. ¿Qué debe hacer en condiciones climatológicas inusuales?

- A-Aumentar la velocidad
- B-Aumentar la intensidad de las luces
- C-Aumentar la distancia entre el vehículo de delante y el mío
- D-Cambiar de carril frecuentemente

22. Si pierdes el control del volante, debes...

- A-Quitar el pie de los frenos
- B-Quitar el pie del acelerador

	PROCESO SG-SST	Código	P-SIG-PESV-PROC -06
		Versión	02
	PRUEBA TEORICA PARA CONDUCTORES	Actualización	12/01/2025

C-Cambiar de velocidad

D-Aplicar el freno de mano

23. Cuál de las siguientes señales indica al conductor que se aproxima a una glorieta

SP56



A

SP56A



B

SP24



C

SP20



D

24. Cuál de las siguientes señales indica al conductor que la vía está cerrada



25. ¿Cuál de las siguientes señales es una señal de tránsito vertical reglamentaria?



A




B



C

26. Cuando usted ve la siguiente señal usted debe:


	PROCESO SG-SST	Código	P-SIG-PESV-PROC -06
		Versión	02
	PRUEBA TEORICA PARA CONDUCTORES	Actualización	12/01/2025



- A-Conservar el espacio reglamentario
- B-Girar hacia la derecha
- C-Girar hacia la izquierda
- D-Adelantar el vehículo que va adelante

27. Escribe el nombre de las señales, que debes hacer al verlas:



	PROCESO SG-SST	Código	P-SIG-PESV-PROC -06
		Versión	02
	PRUEBA TEORICA PARA CONDUCTORES	Actualización	12/01/2025




COMPETENCIA DE MECANICA GENERAL

TEMA	MECÁNICA GENERAL
CALIFICACIÓN	
PUNTAJE TOTAL	Aprobó
TEMA	MECÁNICA GENERAL
PUNTAJE APROBADO	10

Referente de calificación

EN LAS SIGUIENTES PREGUNTAS MARCA CON UNA X LA RESPUESTA ADECUADA

	PROCESO SG-SST	Código	P-SIG-PESV-PROC -06
		Versión	02
	PRUEBA TEORICA PARA CONDUCTORES	Actualización	12/01/2025

Mecánica General

- 1. El nombre que recibe el marcador de revoluciones del motor es:**

 - A. Manómetro
 - B. Tacómetro
 - C. Pluviómetro

- 2. La función del embrague es:**

 - A. Frenar el motor del vehículo
 - B. Darle fuerza al motor del vehículo
 - C. Conectar y desconectar "la fuerza" del motor a la caja de velocidades

- 3. la función del filtro de aceite es:**

 - A. Marque una respuesta
 - B. Restituir la viscosidad del aceite
 - C. Retener las partículas gruesas del aceite
 - D. Separar el combustible del aceite


- 4. La función del carburador es:**

 - A. Marque una respuesta
 - B. Refinar el combustible
 - C. Realizar la explosión en el motor
 - D. Realizar la mezcla exacta del aire con el combustible


- 5. La función del filtro de aire es:**

 - A. Separar el aire del aceite
 - B. Separar el aire del combustible
 - C. Retener las partículas contenidas en el aire, antes de entrar al carburador

- 6. Si durante la marcha del vehículo (carro) se desconecta un cable de bujía:**

	PROCESO SG-SST	Código	P-SIG-PESV-PROC -06
		Versión	02
	PRUEBA TEORICA PARA CONDUCTORES	Actualización	12/01/2025

- A. El motor no funciona
B. El motor pierde fuerza
C. El motor gira a la mitad de las revoluciones normales
- 7. Cuál de los siguientes líquidos, al llegar a un nivel bajo puede ocasionar accidentes**
- A. Líquido anticoagulante
B. Líquido de frenos
C. Líquido de batería
D. Líquido refrigerante
- 8. El alto consumo de combustible se debe a:**
- A. Fallas en el sistema de dirección
B. Aceleraciones excesivas en las curvas
C. Frecuentes frenadas y aceleraciones
D. Todas las anteriores
- 9. ¿cómo nota un conductor que hay fuga en el líquido de frenos?**
- A. El pedal del freno llega hasta el fondo
B. El pedal del freno está muy duro
C. El pedal del freno tiene poco recorrido
D. El pedal del freno oscila
- 10. El motor de un automóvil se puede sobrecalentar, entre otras cosas, por:**
- A. Insuficiente paso de agua caliente al radiador de calefacción
B. Por no colocar aditivo al combustible
C. Carga de batería baja
D. Sistema de refrigeración obstruido

	PROCESO SG-SST	Código	P-SIG-PESV-PROC -06
		Versión	02
	PRUEBA TEORICA PARA CONDUCTORES	Actualización	12/01/2025

COMPETENCIA NORMATIVIDAD, COMPORTAMIENTO VIAL Y SEGURIDAD VIAL

TEMA	NORMATIVIDAD	COMPORTAMIENTO VIAL	SEGURIDAD VIAL
CALIFICACIÓN			
PUNTAJE TOTAL		Próxima evaluación	Reprobó

Referente de calificación


TEMA	NORMATIVIDAD	COMPORTAMIENTO VIAL	SEGURIDAD VIAL
PUNTAJE APROBADO	8	11	15

EN LAS SIGUIENTES PREGUNTAS MARCA CON UNA X LA RESPUESTA ADECUADA

Seguridad Vial

1. Intersección es

- A.** El área común de calzadas que no se cruzan o divergen
- B.** El área común de las calzadas que cruzan o convergen
- C.** Ninguna de las anteriores

	PROCESO SG-SST	Código	P-SIG-PESV-PROC -06
		Versión	02
	PRUEBA TEORICA PARA CONDUCTORES	Actualización	12/01/2025

2. No se debe adelantar en ninguna circunstancia a otro vehículo en:

- A. En intersecciones
- B. En los tramos de la vía donde exista línea separadores central continua o prohibición de adelantamiento
- C. En las vías de doble carril
- D. En curvas o pendientes

3. ¿qué información le proporciona la siguiente señal y como se clasifica?




- A. Servicio telefónico / Informativa
- B. Estación de servicios / reglamentaria
- C. Servicio mecánico / informativa

4. ¿qué información le proporciona la siguiente señal y como se clasifica?



- A. Solo tránsito liviano / preventiva
- B. Prohibido doble columna / informativa
- C. Prohibido adelantar o rebasar / Reglamentaria

	PROCESO SG-SST	Código	P-SIG-PESV-PROC -06
		Versión	02
	PRUEBA TEORICA PARA CONDUCTORES	Actualización	12/01/2025

5. ¿qué significa esta señal y como se clasifica?



- A. Más adelante incorporación de tránsito lateral derecho / preventiva
- B. Más adelante camino lateral / Informativa
- C. Más adelante empalmes contrarios consecutivos / preventiva

6. El adelantamiento se deberá hacer por:

- A. La izquierda
- B. La derecha
- C. Cualquier pista

7. ¿qué debe usted hacer al ser adelantado por otro vehículo?:

- A. Encender las luces bajas
- B. Frenar bruscamente
- C. Mantener su velocidad o disminuirla para permitir el adelantamiento

8. Al acercarse a una señal "zona de escuela", ¿qué debe hacer?


- A. Disminuir la velocidad
- B. Tocar la bocina
- C. Aumentar la velocidad

9. Cómo se debe estacionar un vehículo cuando la vía es en subida:

- A. Con las ruedas delanteras hacia la cuneta
- B. Con las ruedas traseras hacia la calzada
- C. Con las ruedas delanteras hacia la calzada

10. ¿qué significa doble línea amarilla continua en el centro de una vía?

- A. Se usa para dividir los sentidos de circulación
- B. Que el asfalto está en mal estado
- C. Para ambos sentidos de circulación, que no debe ser traspasada ni se puede circular sobre ella
- D. Que solo pueden circular vehículos particulares

	PROCESO SG-SST	Código	P-SIG-PESV-PROC -06
		Versión	02
	PRUEBA TEORICA PARA CONDUCTORES	Actualización	12/01/2025

11. cuando hay involucradas víctimas en un accidente de tránsito, ¿a cuál autoridad le corresponde conocer el siniestro

- A. El Ministerio de Transporte
- B. La autoridad de tránsito
- C. Las aseguradoras
- D. Las autoridades judiciales
- E. b y d son correctas

12. Líneas discontinuas en el pavimento quiere decir:

- A. Que se permite cruzar la línea con precaución
- B. Que el carril izquierdo es para ciclistas y motoristas
- C. Que el tráfico se mueve en ambas direcciones
- D. Que no se permite cambiar de carril
- E. Puedes cambiar de carril cuando sea seguro hacerlo.

13. Cuando haya una línea amarilla sólida y una discontinua en carriles opuestos de tráfico, no debes rebasar

- A. Si la línea discontinua está de tu lado
- B. Si la línea sólida no está de tu lado
- C. Si la línea sólida está de tu lado
- D. Ninguna de las anteriores

14. Cuando hay agua en el camino, debes reducir tu velocidad para evitar

- A. Desgastar las llantas
- B. Sobrecalentar las llantas
- C. La tracción de las llantas con el camino
- D. Hidro planeación


15. ¿las señales amarillas y con forma de diamante, con letras o símbolos negros?

- A. Son señales de detención
- B. Son señales de destino
- C. Son señales de advertencia
- D. Son señales de servicio

SP-36



PUENTE ANGOSTO

	PROCESO SG-SST	Código	P-SIG-PESV-PROC -06
		Versión	02
	PRUEBA TEORICA PARA CONDUCTORES	Actualización	12/01/2025

Comportamiento Vial

16. ¿un conductor al enfrentar un signo “pare” deberá

- A. Proseguir su marcha
- B. Detenerse y permitir el paso de los vehículos que circulan por la otra vía
- C. Encender luces altas

17. Cuando se aproxima un vehículo de emergencia en el mismo sentido, el conductor deberá:

- A. Acelerar y circular delante del vehículo de emergencia
- B. Frenar, bruscamente
- C. Conducir el vehículo lo más a la izquierda o a la derecha posible, con el objeto de despejar la vía


18. ¿Dónde Puede Efectuar El Viraje En " U" Cuando Circula En Su Vehículo?

- A. En pasos peatonales
- B. A mitad de cuadra, si no está prohibido
- C. En la intersección

19. Qué maniobra debe realizar a la circular por una vía de dos sentidos si va a girar a la izquierda

- A. Situarse al costado derecho de la calzada
- B. Situarse progresivamente al costado derecho del eje de la calzada
- C. Situarse al costado izquierdo de la calzada

20. Si en un caso de emergencia un conductor debe hacer uso de las señales corporales para cruzar a la derecha deberá:

	PROCESO SG-SST	Código	P-SIG-PESV-PROC -06
		Versión	02
	PRUEBA TEORICA PARA CONDUCTORES	Actualización	12/01/2025

- A. Sacar el brazo izquierdo y extenderlo horizontalmente
- B. Sacar el brazo izquierdo formando escuadra con la mano hacia arriba
- C. Sacar el brazo izquierdo formando escuadra con la mano hacia abajo

21. ¿qué se entiende por conducir a la defensiva?

- A. Hacer valer sus derechos en todo momento
- B. Frenar antes de cada cruce
- C. Tomar en cuenta los posibles errores de los demás
- D. Hacer ver a los demás sus errores al conducir

22. Que Debe Hacer Usted Cuando Desea Cambiarse De Carril:


- A. Fijarse en el tránsito que le va siguiendo
- B. Frenar fuerte antes de cambiarse
- C. Anunciar oportunamente su intención de cambiarse a través de la direccional
- D. Acelerar lo más rápido que pueda

23. Como Señala Usted Con El Brazo Cuando Va A Girar Hacia La Izquierda:

- A. Saca el brazo izquierdo y lo extiende hacia arriba
- B. Saca el brazo izquierdo formando escuadra hacia abajo
- C. Saca el brazo izquierdo y lo extiende horizontalmente
- D. Saca el brazo izquierdo formando escuadra con la mano hacia arriba

24. Usted llega a una intersección regulada por semáforo que se encuentra en rojo y, al mismo tiempo, un policía o agente de tránsito le indica que avance, ¿qué debe hacer usted?

- A. Detenerse, porque la luz roja se lo está indicando
- B. Avanzar, porque las instrucciones de un agente, prevalecen sobre las señales del tránsito
- C. Avanzar, sólo si detrás suyo no vienen otros vehículos
- D. Avanzar, sólo si está seguro que la luz roja está próxima a cambiar

	PROCESO SG-SST	Código	P-SIG-PESV-PROC -06
		Versión	02
	PRUEBA TEORICA PARA CONDUCTORES	Actualización	12/01/2025

25. Qué debe hacer para evitar colisiones en carretera:

- A. Permanecer en el lado izquierdo de tu carril mientras manejas
- B. Mantener una distancia de seguimiento suficiente
- C. Cambiar de carril frecuentemente
- D. Seguir a los otros vehículos de cerca

26. ¿en una carretera de doble sentido con un carril central especial, los conductores de cualquier dirección pueden usar este carril para?

- A. Dar vuelta a la derecha
- B. Dar vuelta en U
- C. Rebasar
- D. Dar vuelta a la izquierda

Normatividad

27. La velocidad máxima permitida en carretera es:

- A. 105 km/ hr.
- B. 100 km/ hr.
- C. 90 km/ hr.


28. ¿Qué vigencia tiene el seguro obligatorio soat?

- A. Dos (2) años para los vehículos de servicio público
- B. Tres (3) años para los vehículos de servicio particular
- C. Un (1) año para todos los vehículos que circulan en las vías nacionales

29. Las señales verticales se clasifican en:

- A. Reglamentarias, informativas y preventivas
- B. Longitudinales y transversales
- C. Blancas, amarillas y rojas

30. En ocasiones la autoridad de tránsito podrá retirar con grúa vehículos de las calles:

	PROCESO SG-SST	Código	P-SIG-PESV-PROC -06
		Versión	02
	PRUEBA TEORICA PARA CONDUCTORES	Actualización	12/01/2025

- A. Cuando el vehículo se encuentre estacionado en zonas prohibidas y su conductor no se encuentra cerca del vehículo
- B. Cuando el vehículo se encuentra abandonado con áreas destinadas al espacio público y su conductor no se encuentra cerca al vehículo
- C. Cuando se encuentra el vehículo bloqueando una vía principal y su conductor no está cerca del vehículo
- D. Todas las anteriores

31. ¿Cuál es la distancia que debe mantener un conductor con respecto al vehículo de adelante?

- A. Treinta (30) metros
- B. Cien (100) metros
- C. Una distancia razonable y prudent

32. Los vehículos (carro) deberán llevar encendidas las luces reglamentarias desde:

- A. 1/2 hora antes de la puesta del sol, hasta 1/2 hora antes de su salida
- B. 1/2 hora después de la puesta del sol, hasta 1/2 hora antes de su salida
- C. Ninguna de las anteriores

33. ¿En cuál caso puede un agente de policía o de tránsito suspender la licencia de conducción a un conductor?

- A. Cuando ocurre un accidente
- B. Cuando el conductor infringe una norma de tránsito
- C. Cuando el conductor se encuentre en estado de embriaguez
- D. En ningún caso, solamente la puede suspender o cancelar una decisión judicial

34. Para conducir vehículos de servicio público, la edad mínima para expedir la licencia de conducción es:

- A. Veinte (20) años cumplidos
- B. Dieciséis (16) años cumplidos
- C. Dieciocho (18) años cumplidos