

TEST DE CONOCIMIENTO DE CONDUCTORES

NOMBRE Y APELLIDOS: Carlos Antonio Chalarca Lopez
FECHA: 17/ Mayo/ 2022 PLACA: N 5 R 653













1. ¿A quién cubre el seguro obligatorio de Accidentes de Tránsito?
 - A. Solo a los pasajeros del vehículo asegurado
 - B. Solo al conductor y pasajeros del vehículo asegurado
 - ☒ C. Al conductor, a los pasajeros y a cualquier otra persona afectada en un accidente en el que participe el vehículo asegurado.
2. Cuales son los documentos que usted debe portar en todo momento dentro del vehículo
 - ☒ A. Cedula, Matricula, soat, gases
 - ☒ B. Licencia de conducción, Matricula, soat, certificado de gases, Pólizas RCC- RCE- Tarjeta de operación
 - ☒ C. Cedula, Licencia de conducción, Matricula, soat, certificado de gases, Pólizas RCC- RCE- Tarjeta de operación, formato único de extracto de contrato
3. Que es lo mas importante para evitar chocar a un vehículo que va adelante?
 - A. Asegurar su sistema de frenos
 - B. Conducir a una velocidad reducida y constante
 - ☒ C. Mantener una distancia segura entre vehículos
4. Conducir cansado es
 - A. Algo inevitable
 - B. Necesario
 - ☒ C. Peligroso
 - D. Rutinario
5. Que caracteriza a un excelente conductor
 - A. Capacidad de autocontrol
 - B. Capacidad de no reaccionar agresivamente ante el mal comportamiento de otros usuarios de la vía
 - ☒ C. Conciencia plena de la responsabilidad que tiene como conductor
 - D. Todas las anteriores
6. De los siguientes factores ¿Cuál es el que con mayor frecuencia se presenta en los accidentes de tránsito?
 - ☒ A. Fallas humanas
 - B. Inadecuadas señales de tránsito
 - C. Fallas mecánicas
 - D. A y C
7. Cual es una posible causa del sobrecalentamiento del motor

- A. Sistema de refrigeración obstruido
 - B. Batería con baja carga
 - C. Insuficiente paso de agua caliente al radiador de calefacción
 - D. Bajo nivel de agua en la batería
8. Como se debe comprobar el nivel de aceite?
- A. Con el motor en marcha
 - B. b. Con el motor parado
 - C. con el vehículo inclinado
 - D. Ninguna de las anteriores
9. La revisión preventiva de los vehículos de servicio público se debe realizar
- A. Cada dos meses
 - B. Cada tres meses
 - C. cada seis meses
 - D. cada año
10. El cardan se debe sostener con:
- A. una cadena
 - B. un lazo
 - C. una correa
 - D. No requiere sostenerse
11. son lugares prohibidos para estacionar:
- A. Sobre andenes, zonas verdes o sobre espacio público destinado para peatones, recreación o conservación.
 - B. En vías arterias, autopistas, zonas de seguridad, o dentro de un cruce.
 - C. En una bahía
 - D. A Y B
12. El uso del cinturón de seguridad es obligatorio para:
- A. todos los ocupantes del vehículo
 - B. Conductor y pasajeros ubicados en los asientos delanteros
 - C. El conductor
 - D. Ninguna de las anteriores
13. Cuando se requiere tanquear del vehículo se debe:
- A. Hacer descender a los pasajeros
 - B. Encender las luces
 - C. Apagar el motor
 - D. A y C
14. En que bases de datos se pueden observar los comparendos de los conductores

21. Que medidas se deben tomar para realizar cruce o pasar de un carril a otro
- ☒ A. las luces direccionales y señales ópticas o audibles y efectuar la maniobra
 - B. Luz de reversa y efectuar la maniobra
 - C. Pitar y efectuar la maniobra
 - D. Luces altas y efectuar la maniobra

22. Marque con la inicial de la señal a que grupo corresponde

(R): Reglamentarias (P): Preventiva (I): Informativa

 PRIMEROS AUXILIOS (X)	 DESCENSO PELIGROSO (X)	 PARE ()	 SEMAFORO ()
 CURVA PELIGROSA A LA IZQUIERDA ()	 CEDA EL PASO ()	 PREVENCIÓN DE PARE ()	 ESTACION DE SERVICIO ()
 PROHIBIDO GIRAR A LA IZQUIERDA ()	 VIA PARA CICLISTAS ()	 VELOCIDAD MAXIMA ()	 DISCAPACITADOS (X)

23.

- A. Runt y Simit
- B. Runt y Fosyga
- C. Simit y procuraduría
- D. Lista Clinton

15. Los vehículos de servicio especial de pasajeros requieren una autorización para realizar un viaje:

- A. Planillas
- B. Abandono de ruta
- C. Tarjeta de operación
- ☒ D. Formato Único de extracto de contrato

16. Relacione los límites de velocidad de acuerdo a las vías

Vía	Limite
Zonas urbanas	80 kms
Autopistas	60 kms/h
Zonas Residencial	30 kms/h <input checked="" type="checkbox"/>

17. Un resalto en la vía significa que debes:

- A. Acelerar
- B. Detener el vehículo
- ☒ C. Reducir la velocidad
- D. Hacer caso omiso y seguir

18. Las sanciones por infracciones de tránsito son:

- A. Amonestación, multa, suspensión de la licencia
- B. Inmovilización del vehículo, cancelación de la licencia
- ☒ C. A y B
- D. Ninguna de las anteriores

19. Cuales de los siguientes elementos hacen parte del equipo de carreteras.

- A. Un gato con capacidad para elevar el vehículo, Una cruceta, Dos señales de carretera en forma de triángulo en material reflectivo
- B. Un botiquín de primeros auxilios, Un extintor, Dos tacos para bloquear el vehículo.
- C. Caja de herramienta básica que como mínimo deberá contener: Alicates, destornilladores, llave de expansión y llaves fijas, Llanta de repuesto, Linterna.
- ☒ D. Todas las anteriores

20. Para los vehículos de transporte especial es obligatorio portar en el vehículo

- A. El celular del conductor
- B. El número telefónico del taller
- ☒ C. Como conduzco, número telefónico de la empresa y #767
- D. Número telefónico de policía de carretera