



NIT: 98650170-9


*¡Comprometidos con la cultura
y la seguridad vial!*

La institución de educación para el TRABAJO y EL desarrollo humano, con Licencia de Funcionamiento de la SECRETARIA DE EDUCACION de Antioquia con radicado No. S 2017060111583 del 30 de noviembre de 2.017 y Resolución de habilitación del MINISTERIO DE TRANSPORTE No. 0003275 del 06 de agosto de 2.018

Certifica que:

El señor **ELIAN ACOSTA MONTIEL** identificado con la cédula de ciudadanía No. 1.007.845.181 expedida en Caucaasia - Antioquia y Licencia de Conducción No. 1007845181 categoría C1 – B1 expedida el 04 de septiembre de 2023 en la Secretaría de Tránsito y Transporte de Caucaasia, **ASISTIÓ** a la capacitación de **MANEJO DEFENSIVO**, el día 18 de septiembre del 2023, con una duración de 04 horas.

El presente certificado se expide en Caucaasia a los 18 días del mes de septiembre de 2023.


EDINSON JOSE MORENO GOMEZ

C.C: 1.038.112.872 de Caucaasia Ant.

Lic. Instructor No. 45081 del Min. Transporte


6839 9643 • 311 323 3423

Dir. Calle 20 N. 9-17 Barrio Loma Fresca
transitarconduccion@hotmail.com



GOBERNACIÓN DE ANTIOQUIA

Res. Lic. Fun. • Secretaria de Educación
N° S 2017060111583 del 30 de nov. de 2017
Res. Reg. Prog. • Secretaria de Educación
N° S 2017060112932 del 14 de dic. de 2017

 **MINTRANSPORTE**

Res. Ministerio de Transporte
N° 0003275 del 06 de agosto de 2018



COMPANHIA DE CERTIFICACIÓN
DE COLOMBIA S.A.S
Certificación de Calidad
C.C.C. • del 27 de marzo de 2018



NIT: 98650170-9

*¡Comprometidos con la cultura
y la seguridad vial!*

FECHA: 18/09/23

TIPO DE LICENCIA: C1

NOMBRE: Enzo Acosta Mantiel

CEDULA: 1003845181

Escoja la opción de respuesta que considere correcta:


1. De noche en zona rural, Ud. va con sus luces altas por una carretera de calzada de doble tránsito, ¿cuándo debe bajar las luces?

- a. Cuando se aproxima por atrás a otro vehículo.
- b. Cuando se encuentra con peatones que avanzan en el mismo sentido suyo.
- c. Cuando viene tráfico en contra.
- d. Cuando se encuentre con peatones que vienen en contra.

- a) a y b
- b) Sólo c
- ☒ c) a y c
- d) Todas las anteriores

C=40

2. La figura muestra una calzada bidireccional. ¿Es correcto el adelantamiento?



- a) Sí
- ☒ b) No

3. Sólo los vehículos de emergencia pueden utilizar en servicio de carácter urgente, dispositivos de sonido especial adecuado a sus funciones. De los siguientes vehículos, ¿cuál no pueden usar tales dispositivos?

- a) Los vehículos policiales.
- b) Los carros de bomberos
- ☒ c) Los camiones recolectores de basura.
- d) Las ambulancias

4. ¿En qué vehículos es obligatorio portar un botiquín con elementos de primeros auxilios?

- ☒ a) En todos los vehículos motorizados, con excepción de los de 2 ó 3 ruedas.
- b) Sólo en buses y vehículos de transporte escolar.
- c) Sólo en vehículos de locomoción colectiva y de carga.
- d) En vehículos de locomoción colectiva, de carga y de transporte escolar

839 9643 • 311 323 3423



GOBIERNO DE COLOMBIA

Res. Lic. Fun. - Secretaría de Educación
17 S 2017080111563 del 30 de nov. de 2017



MINTRANSPORTE



COMPAÑÍA DE CERTIFICACIÓN
DE COLOMBIA S.A.S.



NIT: 98650170-9

*¡Comprometidos con la cultura
y la seguridad vial!*

5. ¿Qué significa esta señal?



- a) Que a partir de la señal la velocidad máxima permitida es la establecida en la Ley de Tránsito.
- ☒ b) Que a partir de la señal se puede adelantar.
- c) Que a partir de la señal se puede adelantar y el límite de velocidad máxima es el establecido en la Ley de Tránsito.
- d) Que a partir de la señal no se puede adelantar.

6. ¿Qué es lo más importante para evitar chocar a un vehículo que va adelante?

- a) Asegurarse de que sus frenos sean eficientes.
- b) Tener neumáticos en muy buen estado.
- c) Conducir a una velocidad reducida y constante.
- ☒ d) Mantener una distancia segura entre vehículos

7. Por la vía van ciclistas a los que va a sobrepasar. ¿Qué espacio lateral, como mínimo, mantiene Ud. respecto de ellos al hacerlo?

- a) Poco menos de 1.0 m, y al pasarlos toca la bocina.
- b) Sólo unos 50 cm, porque los ciclistas no circulan muy rápido.
- ☒ c) A lo menos 1.5 m.
- d) Sólo unos 50 cm, porque los ciclistas ocupan poco espacio.

8. Causar la muerte de una persona a consecuencia de conducir en estado de ebriedad se sanciona con:

- a) Una multa
- b) La suspensión de licencia por un período de entre 2 y 4 años.
- c) Una pena de presidio que puede llegar a los 5 años.
- ☒ d) Todas las anteriores

9. El color de la línea que se emplea para hacer separación en calzada de doble sentido de circulación es:

- a. Verde
- ☒ b. Blanco
- c. Amarillo
- d. Rojo

10. Es un acto inseguro socialmente inaceptable que provoca gran cantidad de accidentes.


- a. Conducir un vehículo potente
- ☒ b. Conducir en estado de embriaguez
- c. Conducir con una mano
- d. Todas las anteriores

839 9643 • 311 323 3423

Dir. Calle 20 N. 2-17 Barrio La Cruz, Bogotá




Res. Lic. Fun. • Secretaría de Educación
N° S 2017060111583 del 30 de nov. de 2017



MINTRANSPORTE



COMPAÑÍA DE CERTIFICACIÓN
DE COLOMBIA S.A.S.
Continuando la Calidad



Fecha: 18 de septiembre de 2023

Empresa: TRANSRUMBO GROUP S.A.S

Instructor: EDINSON JOSE MORENO GOMEZ

EPP 0 - 5

[illegible]



Empresa: **TRANSRUMBO GROUP S.A.S**

Instructor: EDINSON JOSE MORENO GOMEZ

[illegible]



NIT: 98650170-9

Fecha: 18 de septiembre de 2023

Empresa: TRANSRUMBO GROUP S.A.S

Instructor: EDINSON JOSE MORENO GOMEZ

EPP 0 - 5

utilizacion de calzada	giros	conocimiento de señales preventivas	conocimiento de señales reglamentarias	conocimiento de señales informativas	conocimiento de señales transitorias	conduccion en area urbana	conduccion en carretera abierta	uso del celular mientras maneja	capacidad de concentracion
5,0	5,0	4,5	5,0	5,0	4,2	5,0	3,0	5,8	5,0

CALIFICACION: 4.3

APROBO: SI ☒ NO ☐

FIRMA DEL INSTRUCTOR:

C.C:

Edinson Moreno
1038112872

NIT. 98.650.170-9
T.E. 929 9643 • C. 914 • A. 1

EVIDENCIAS

