	EVALUACION TEORICA DE CONDUCTORES		CÓDIGO:	FPGT-12
			VERSIÓN:	05
			FECHA:	16/01/2019
			PÁGINA:	Página 1 de 6

Fecha: 30 mayo 19 Nombre del Evaluador: \_\_\_\_\_  
 Nombre del evaluado: Carlos Govea Cedula: 1020458012  
 Licencia de conducción: 1020458012 Categoría: C2 Fecha de Vencimiento: 11 NOV -19  
 Resultado de la prueba: \_\_\_\_\_

### PRUEBA TEÓRICA

27  
35

#### 1. Los canales en las llantas sirven para:

- ☒ a. Evacuar agua
- b. Tener mejor vida útil
- c. Guardar piedras
- d. Contener aire

#### 2.Cuál es el elemento que no es obligatorio en el equipo de carreteras.

- a. Extintor
- b. Conos
- ☒ c. Cables de inicio
- d. Gato

#### 3. Cuando el indicador de temperatura en un equipo de transporte indica 200°F o 104°C

- ☒ a. Apagamos el motor
- b. No nos preocupamos
- c. La temperatura es correcta
- d. Ninguna de las anteriores

#### 4. La técnica que deben utilizar los usuarios de la vía en su labor diaria es la de:



- a. Leer la vía
- ☒ b. Concentración
- c. Relajación
- d. Comer bien

#### 5. Las señales reglamentarias, tiene por objeto:

- a. Advertir al usuario de la vía, la existencia de un peligro
- b. Guiar al usuario, proporcionándole información que pueda necesitar
- ☒ c. Indicar las limitaciones, prohibiciones o restricciones sobre su uso
- d. Modificar transitoriamente el régimen normal de la utilización de la vía

#### 6. Las señales preventivas tienen por objeto

- ☒ a. Advertir al usuario de la vía, la existencia de un peligro
- b. Guiar al usuario, proporcionándole información que pueda necesitar
- c. Indicar las limitaciones, prohibiciones o restricciones sobre su uso
- d. Modificar transitoriamente el régimen normal de la utilización de la vía

 	EVALUACION TEORICA DE CONDUCTORES	CÓDIGO:	FPGT-12
		VERSIÓN:	05
		FECHA:	16/01/2019
		PÁGINA:	Página 2 de 6

**7. Los documentos que debe portar todo conductor de un vehículo son:**

- ☒ a. Cedula y licencia de conducción
- b. Carnet de la EPS
- c. Manejo defensivo y carnet de vacunas
- d. Afiliación a seguridad social

**8. Cuál es la Ley por la cual se expide el Código Nacional de Tránsito Terrestre**

- a. 106 de 2002
- ☒ b. 769 de 2002
- c. 2556 de 2001
- d. 173 de 2002

**9. De acuerdo al Código Nacional de Tránsito, la separación que debe existir entre dos vehículos que circulan, uno detrás del otro en un mismo carril a 70 km/h, es de:**

- a. 10 metros
- ☒ b. 25 metros
- c. 20 metros
- d. 1 metro

**10. Cuando me encuentre en alguna condición adversa como conductor debo:**

- a. Subir el vidrio
- ☒ b. Reducir la marcha o detener el vehículo
- c. Aumentar la intensidad de la luz
- d. Aumentar RPM

**11. Para aprovechar mejor la potencia del motor debemos tener en cuenta:**



- a. La velocidad
- ☒ b. Selección del cambio más seguido
- c. Las revoluciones del motor
- d. Subir en un cambio pesado

**12. Los frenos no responden adecuadamente cuando:**

- a. Están nuevos
- b. Las llantas son radiales
- c. El vehículo pesa lo reglamentario
- ☒ d. Se frena demasiado

**13. La velocidad máxima en carretera para vehículos públicos es:**

- a. 70 km/h
- b. 90 km/h
- ☒ c. 80 km/h
- d. 65 km/h

 	EVALUACION TEORICA DE CONDUCTORES	CÓDIGO:	FPGT-12
		VERSIÓN:	05
		FECHA:	16/01/2019
		PÁGINA:	Página 3 de 6

14. El límite de velocidad para zonas escolares es:

- a. 60 km/h
- b. 50 km/h
- c. 40 km/h
- ☒ d. 30 km/h

15. Escriba el significado de cada señal de tránsito: (Responder como mínimo 5 correctamente)



✓



✓



✓



✓

Puedo parquear mi vehículo por 5 minutos	<input checked="" type="radio"/>	<input checked="" type="radio"/>	Prohibido adelantar	<input type="radio"/>	<input checked="" type="radio"/>	Ancho de carril 3.20 metros	<input type="radio"/>	<input checked="" type="radio"/>	Circulación con luces altas	<input checked="" type="radio"/>	<input checked="" type="radio"/>
--	----------------------------------	----------------------------------	---------------------	-----------------------	----------------------------------	-----------------------------	-----------------------	----------------------------------	-----------------------------	----------------------------------	----------------------------------



✓



✓



✓



✓

Permitido girar a la derecha	<input checked="" type="radio"/>	<input checked="" type="radio"/>	Puedo detener el vehículo, pero no más de 5 minutos	<input checked="" type="radio"/>	<input checked="" type="radio"/>	Prohibida la circulación de vehículos de carga	<input type="radio"/>	<input checked="" type="radio"/>	Siga adelante	<input checked="" type="radio"/>	<input checked="" type="radio"/>
------------------------------	----------------------------------	----------------------------------	---	----------------------------------	----------------------------------	--	-----------------------	----------------------------------	---------------	----------------------------------	----------------------------------

16. Escriba el significado de cada señal de tránsito: (Responder como mínimo 5 correctamente)



✓



X



X



✓

No puedo girar a la izquierda	<input checked="" type="radio"/>	<input checked="" type="radio"/>	Puente angosto	<input type="radio"/>	<input checked="" type="radio"/>	Precaución zona montañosa	<input type="radio"/>	<input checked="" type="radio"/>	Zona escolar	<input type="radio"/>	<input checked="" type="radio"/>
-------------------------------	----------------------------------	----------------------------------	----------------	-----------------------	----------------------------------	---------------------------	-----------------------	----------------------------------	--------------	-----------------------	----------------------------------



X



✓



✓











✓

Ampliación simétrica de la calzada	<input type="radio"/>	<input checked="" type="radio"/>	Niños en la vía	<input checked="" type="radio"/>	<input checked="" type="radio"/>	Zonas de derrumbe	<input type="radio"/>	<input checked="" type="radio"/>	Descenso peligroso	<input type="radio"/>	<input checked="" type="radio"/>
------------------------------------	-----------------------	----------------------------------	-----------------	----------------------------------	----------------------------------	-------------------	-----------------------	----------------------------------	--------------------	-----------------------	----------------------------------



17. Según la señal de tránsito marque falso o verdadero. El aspirante deberá responder correctamente como mínimo 7 de las 10 señales de tránsito.

	✓		✗		✓		✗				
Puedo adelantar en cualquier sentido	✓	V	Ningún sentido puede adelantar	✗	V	Doble sentido y no puedo adelantar	✗	V	Puedo adelantar en cualquier sentido	✗	V
	✗		✓		✓		✓				
Puedo adelantar al lado izquierdo	F	✗	Separa cada fila de vehículos	F	✗	Línea límite para adelantar vehículo	✗	V	Cebra o zona peatonal, línea de pare	F	✗

18. La arrancada en un ascenso se realiza con la ayuda del freno estacionario

F ( ) V (✓) ✗

19. El odómetro del tablero de instrumentos, tiene la función de determinar la velocidad

F (✗) V ( ) ✓

20. La barra estabilizadora hace parte de la dirección del vehículo.

F ( ) V (✗) ✗

21. Los semáforos, son dispositivos de seguridad activa.

F ( ) V (✓) ✓

22. La función del aceite en el motor es:

- a. Lubricar y llenar los conductos, mantener la distancia en las moléculas.
- ✗ b. Lubricar, enfriar, limpiar y proteger, mantener una película de aceite entre los dos metales en movimiento. ✓
- c. Limpia, cuida el motor y lo protege de la humedad y el calor.
- d. Mantener los metales en perfecto alineamiento.



EVALUACION TEORICA  
DE  
CONDUCTORES

CÓDIGO:	FPGT-12
VERSIÓN:	05
FECHA:	16/01/2019
PÁGINA:	Página 5 de 6

23. Se realiza una revisión pre-operacional, con el fin de determinar las condiciones de:

- ☒ a. El buen estado del vehículo.
- b. Para evitar fallas en el trabajo. X
- c. Para mejorar el servicio.
- d. Todas las anteriores.

24. Cuando detectamos que el embrague entra en contacto:

- a. Cuando el vehículo se acelera.
- b. Cuando el vehículo se apaga.
- ☒ c. Cuando el vehículo se mueve. ✓
- d. Cuando el vehículo vibra.

25. Al atender una novedad durante la prestación del servicio se debe actuar:

- a. Alejándose de los problemas del pasajero.
- b. Escuchando la versión o la inquietud del pasajero.
- ☒ c. De acuerdo con la gravedad de la novedad presentada. X
- d. Dependiendo del conflicto.

26. Prestar un servicio de calidad, seguro y responsable por parte del conductor amable, es:

- a. Crítica fuerte del cliente.
- ☒ b. Satisfacción del usuario. ✓
- c. Cumplimiento de la ruta
- d. Daños de los equipajes.

27. La especificación SAE 15w – 40 corresponde a:

- ☒ a. Un aceite para motor multigrado. ✓
- b. Un aceite para motor monogrado
- c. Un aceite para motor ATF
- d. Un aceite para motor hidráulico

28. Las vías urbanas se clasifican en:



- a. Metro vía, troncal, férreas, autopistas, arterias principales y secundarias.
- ☒ b. Férreas, autopistas, carreras principales, privadas y peatones. X
- c. De uso exclusivo, troncales, ciclo vías, peatonales.
- d. Carreteras secundarias, autopistas, arterias, principales y recolectoras.

29. Transitar a la defensiva es:

- ☒ a. Conducir con seguridad adelantándonos a los hechos y a los actos inseguros. ✓
- b. Conducir con agresividad adelantándonos a los demás
- c. Conducir de tal manera que estemos lejos de los que intervienen en la vía
- d. Ninguna de las anteriores.

30. Un accidente es:

- a. Cuando los demás no respetan el tránsito. ✓
- b. El resultado de manejar a la defensiva
- ☒ c. Hecho inesperado que ocurre en la vía por acción de uno o más usuarios.

 	EVALUACION TEORICA DE CONDUCTORES	CÓDIGO:	FPGT-12
		VERSIÓN:	05
		FECHA:	16/01/2019
		PÁGINA:	Página 6 de 6

d. Todas las anteriores.

**31. Algunas de las causas de los accidentes por factor humano son:**

- a. Vehículos, vías, señalización
- ☒ b. Cansancio, distracción e imprudencia ✓
- c. Clima, obras, señales
- d. Ninguna de las anteriores.

**32. Las decisiones que tomamos al conducir son producto de:**

- a. Lo que los demás nos dejan hacer
- b. Lo que imaginamos, lo que queremos
- ☒ c. Lo que se ve, lo que se oye, lo que se siente ✓
- d. Ninguna de las anteriores.

**33. la velocidad adecuada es:**

- a. La que las señales nos indiquen en cada lugar
- ☒ b. La que el entorno y el medio nos permitan para transitar seguros ✗
- c. La que el vehículo pueda alcanzar.
- d. Ninguna de las anteriores.

**34. Distancia de reacción más distancia de frenado es igual a:**

- a. Distancia total para detenerse
- b. Distancia que recorremos
- ☒ c. Distancia para actuar ✗
- d. Distancia de reacción

**35. Un conductor profesional integral es el que:**

- a. Se comporta como mejor le parezca
- ☒ b. Tiene en cuenta el ser, el hacer y el saber ✓
- c. Conduce de acuerdo a la necesidad
- d. No respeta las normas

FIRMA DEL EVALUADO

NOMBRE: Ortiz A196250 GARCIA

CEDULA: 1020 458012

FIRMA DEL EVALUADOR

NOMBRE:

CEDULA: