



|   |  |          |               |
|---|--|----------|---------------|
|   | <b>EVALUACION<br/>TEORICA<br/>DE<br/>CONDUCTORES</b> | CÓDIGO:  | FPGT-12       |
|   |  | VERSIÓN: | 06            |
|   |  | FECHA:   | 15/05/2022    |
|   |  | PÁGINA:  | Página 1 de 7 |

Fecha: 30-07-2025 Nombre del Evaluador: JUAN JOSÉ PULIDO T.

Nombre del evaluado: Martin Olipon Cedula: 79508135

Licencia de conducción: 79508137 Categoría: C1 Fecha de Vencimiento: 21-10-26

Resultado de la prueba: \_\_\_\_\_

### PRUEBA TEÓRICA

**1. Los canales en las llantas sirven para:**

- ☒ a. Evacuar agua
- ☐ b. Tener mejor vida útil
- ☐ c. Guardar piedras
- ☐ d. Contener aire



46  
56

**2.Cuál es el elemento que no es obligatorio en el equipo de carreteras.**

- ☐ a. Extintor
- ☐ b. Conos
- ☒ c. Cables de inicio
- ☐ d. Gato



**3. Cuando el indicador de temperatura en un equipo de transporte indica 200°F o 104°C**

- ☐ a. Apagamos el motor
- ☐ b. No nos preocupamos
- ☐ c. La temperatura es correcta
- ☒ d. Ninguna de las anteriores



**4. La técnica que deben utilizar los usuarios de la vía en su labor diaria es la de:**

- ☐ a. Leer la vía
- ☒ b. Concentración
- ☐ c. Relajación
- ☐ d. Comer bien



**5. Las señales reglamentarias, tiene por objeto:**



- ☐ a. Advertir al usuario de la vía, la existencia de un peligro
- ☐ b. Guiar al usuario, proporcionándole información que pueda necesitar
- ☒ c. Indicar las limitaciones, prohibiciones o restricciones sobre su uso
- ☐ d. Modificar transitoriamente el régimen normal de la utilización de la vía



**6. Las señales preventivas tienen por objeto**

- ☒ a. Advertir al usuario de la vía, la existencia de un peligro
- ☐ b. Guiar al usuario, proporcionándole información que pueda necesitar
- ☐ c. Indicar las limitaciones, prohibiciones o restricciones sobre su uso
- ☐ d. Modificar transitoriamente el régimen normal de la utilización de la vía



|   |          |               |
|---|----------|---------------|
|   | CÓDIGO:  | FPGT-12       |
|   | VERSIÓN: | 06            |
|   | FECHA:   | 15/05/2022    |
|   | PÁGINA:  | Página 2 de 7 |

EVALUACION  
TEORICA  
DE  
CONDUCTORES

7. Los documentos que debe portar todo conductor de un vehículo son:

- ☒ a. Cedula y licencia de conducción
- b. Carnet de la EPS
- c. Manejo defensivo y carnet de vacunas
- d. Afiliación a seguridad social

8.Cuál es la Ley por la cual se expide el Código Nacional de Tránsito Terrestre

- a. 106 de 2002
- ☒ b. 769 de 2002
- c. 2556 de 2001
- d. 173 de 2002

9. De acuerdo al Código Nacional de Tránsito, la separación que debe existir entre dos vehículos que circulan, uno detrás del otro en un mismo carril a 70 km/h, es de:

- a. 10 metros
- ☒ b. 25 metros
- c. 20 metros
- d. 1 metro

10. Cuando me encuentre en alguna condición adversa como conductor debo:

- a. Subir el vidrio
- ☒ b. Reducir la marcha o detener el vehículo
- c. Aumentar la intensidad de la luz
- d. Aumentar RPM

11. Para aprovechar mejor la potencia del motor debemos tener en cuenta:


- a. La velocidad
- b. Selección del cambio más seguido
- ☒ c. Las revoluciones del motor
- d. Subir en un cambio pesado

12. Los frenos no responden adecuadamente cuando:

- a. Están nuevos
- b. Las llantas son radiales
- c. El vehículo pesa lo reglamentario
- ☒ d. Se frena demasiado

13. La velocidad máxima en carretera para vehículos públicos es:

- a. 70 km/h
- b. 90 km/h
- ☒ c. 80 km/h
- d. 65 km/h

|   |                                   |  |          |               |
|---|-----------------------------------|--|----------|---------------|
|  | EVALUACION TEORICA DE CONDUCTORES |  | CÓDIGO:  | FPGT-12       |
|   |                                   |  | VERSIÓN: | 06            |
|   |                                   |  | FECHA:   | 15/05/2022    |
|   |                                   |  | PÁGINA:  | Página 3 de 7 |

14. El límite de velocidad para zonas escolares es:

- a. 60 km/h
- b. 50 km/h
- c. 40 km/h
- ☒ d. 30 km/h

15. Escriba el significado de cada señal de tránsito: (Responder como mínimo 5 correctamente)



Puedo parquear mi vehículo por 5 minutos

☐ F ☐ V

Prohibido adelantar

☐ F ☒ V

Ancho de carril 3.20 metros

☐ F ☒ V

Circulación con luces altas

☐ F ☒ V



Permitido girar a la derecha

☐ F ☒ V

Puedo detener el vehículo, pero no más de 5 minutos

☐ F ☒ V

Prohibida la circulación de vehículo de carga

☐ F ☒ V

Siga adelante

☐ F ☒ V

16. Escriba el significado de cada señal de tránsito: (Responder como mínimo 5 correctamente)



No puedo girar a la izquierda

☐ F ☒ V



Puente angosto

☐ F ☒ V



Precaución zona montañosa

☐ F ☒ V



Zona escolar

☐ F ☒ V





|                                    |                         |                                    |                 |                         |                                    |                   |                         |                                    |                    |                         |                                    |
|------------------------------------|-------------------------|------------------------------------|-----------------|-------------------------|------------------------------------|-------------------|-------------------------|------------------------------------|--------------------|-------------------------|------------------------------------|
| Ampliación simétrica de la calzada | <input type="radio"/> F | <input checked="" type="radio"/> V | Niños en la vía | <input type="radio"/> F | <input checked="" type="radio"/> V | Zonas de derrumbe | <input type="radio"/> F | <input checked="" type="radio"/> V | Descenso peligroso | <input type="radio"/> F | <input checked="" type="radio"/> V |
|------------------------------------|-------------------------|------------------------------------|-----------------|-------------------------|------------------------------------|-------------------|-------------------------|------------------------------------|--------------------|-------------------------|------------------------------------|

17. Según la señal de tránsito marque falso o verdadero. El aspirante deberá responder correctamente como mínimo 7 de las 10 señales de tránsito.



|                                      |                         |                                    |                                |                         |                                    |                                    |                         |                                    |                                      |                         |                                    |
|--------------------------------------|-------------------------|------------------------------------|--------------------------------|-------------------------|------------------------------------|------------------------------------|-------------------------|------------------------------------|--------------------------------------|-------------------------|------------------------------------|
| Puedo adelantar en cualquier sentido | <input type="radio"/> F | <input checked="" type="radio"/> V | Ningún sentido puede adelantar | <input type="radio"/> F | <input checked="" type="radio"/> V | Doble sentido y no puedo adelantar | <input type="radio"/> F | <input checked="" type="radio"/> V | Puedo adelantar en cualquier sentido | <input type="radio"/> F | <input checked="" type="radio"/> V |
|--------------------------------------|-------------------------|------------------------------------|--------------------------------|-------------------------|------------------------------------|------------------------------------|-------------------------|------------------------------------|--------------------------------------|-------------------------|------------------------------------|



|                                   |                         |                                    |                               |                         |                                    |                                      |                         |                                    |                                      |                         |                                    |
|-----------------------------------|-------------------------|------------------------------------|-------------------------------|-------------------------|------------------------------------|--------------------------------------|-------------------------|------------------------------------|--------------------------------------|-------------------------|------------------------------------|
| Puedo adelantar al lado izquierdo | <input type="radio"/> F | <input checked="" type="radio"/> V | Separa cada fila de vehículos | <input type="radio"/> F | <input checked="" type="radio"/> V | Línea límite para adelantar vehículo | <input type="radio"/> F | <input checked="" type="radio"/> V | Cebra o zona peatonal, línea de pare | <input type="radio"/> F | <input checked="" type="radio"/> V |
|-----------------------------------|-------------------------|------------------------------------|-------------------------------|-------------------------|------------------------------------|--------------------------------------|-------------------------|------------------------------------|--------------------------------------|-------------------------|------------------------------------|

18. La arrancada en un ascenso se realiza con la ayuda del freno estacionario

F ( ) V (X)

19. El odómetro del tablero de instrumentos, tiene la función de determinar la velocidad

F ( ) V (X)

20. La barra estabilizadora hace parte de la dirección del vehículo.

F ( ) V (X)

21. Los semáforos, son dispositivos de seguridad activa.

F ( ) V (X)

EVALUACION  
TEORICA  
DE  
CONDUCTORES

|          |               |
|----------|---------------|
| CÓDIGO:  | FPGT-12       |
| VERSIÓN: | 06            |
| FECHA:   | 15/05/2022    |
| PÁGINA:  | Página 5 de 7 |

**22. La función del aceite en el motor es:**

- ☒ a. Lubricar y llenar los conductos, mantener la distancia en las moléculas.
- b. Lubricar, enfriar, limpiar y proteger, mantener una película de aceite entre los dos metales en movimiento.
- c. Limpiar, cuida el motor y lo protege de la humedad y el calor.
- d. Mantener los metales en perfecto alineamiento.

**23. Se realiza una revisión pre-operacional, con el fin de determinar las condiciones de:**

- ☒ a. El buen estado del vehículo.
- b. Para evitar fallas en el trabajo.
- c. Para mejorar el servicio.
- d. Todas las anteriores.

**24. Cuando detectamos que el embrague entra en contacto:**

- ☒ a. Cuando el vehículo se acelera.
- b. Cuando el vehículo se apaga.
- c. Cuando el vehículo se mueve.
- d. Cuando el vehículo vibra.

**25. Al atender una novedad durante la prestación del servicio se debe actuar:**

- a. Alejándose de los problemas del pasajero.
- b. Escuchando la versión o la inquietud del pasajero.
- c. De acuerdo con la gravedad de la novedad presentada.
- ☒ d. Dependiendo del conflicto.

**26. Prestar un servicio de calidad, seguro y responsable por parte del conductor amable, es:**

- a. Crítica fuerte del cliente.
- ☒ b. Satisfacción del usuario.
- c. Cumplimiento de la ruta
- d. Daños de los equipajes.

**27. La especificación SAE 15w – 40 corresponde a:**

- ☒ a. Un aceite para motor multigrado
- b. Un aceite para motor monogrado
- c. Un aceite para motor ATF
- d. Un aceite para motor hidráulico



**28. Las vías urbanas se clasifican en:**

- a. Metro vía, troncal, férreas, autopistas, arterias principales y secundarias.
- b. Férreas, autopistas, carreras principales, privadas y peatones.
- c. De uso exclusivo, troncales, ciclo vías, peatonales.
- ☒ d. Carreteras secundarias, autopistas, arterias, principales y recolectoras.

**29. Transitar a la defensiva es:**

- ☒ a. Conducir con seguridad adelantándonos a los hechos y a los actos inseguros
- b. Conducir con agresividad adelantándonos a los demás



|   |          |               |
|---|----------|---------------|
|   | CÓDIGO:  | FPGT-12       |
|   | VERSIÓN: | 06            |
|   | FECHA:   | 15/05/2022    |
|   | PÁGINA:  | Página 6 de 7 |

- c. Conducir de tal manera que estemos lejos de los que intervienen en la vía
- d. Ninguna de las anteriores.

**30. Un accidente es:**

- a. Cuando los demás no respetan el tránsito
- b. El resultado de manejar a la defensiva
- ☒ c. Hecho inesperado que ocurre en la vía por acción de uno o más usuarios.
- d. Todas las anteriores.

**31. Algunas de las causas de los accidentes por factor humano son:**

- a. Vehículos, vías, señalización
- ☒ b. Cansancio, distracción e imprudencia
- c. Clima, obras, señales
- d. Ninguna de las anteriores.

**32. Las decisiones que tomamos al conducir son producto de:**

- a. Lo que los demás nos dejan hacer
- b. Lo que imaginamos, lo que queremos
- ☒ c. Lo que se ve, lo que se oye, lo que se siente
- d. Ninguna de las anteriores.

**33. La velocidad adecuada es:**

- ☒ a. La que las señales nos indiquen en cada lugar
- b. La que el entorno y el medio nos permitan para transitar seguros
- c. La que el vehículo pueda alcanzar.
- d. Ninguna de las anteriores.

**34. Distancia de reacción más distancia de frenado es igual a:**

- ☒ a. Distancia total para detenerse
- b. Distancia que recorremos
- c. Distancia para actuar
- d. Distancia de reacción

**35. Un conductor profesional integral es el que:**


- a. Se comporta como mejor le parezca
- ☒ b. Tiene en cuenta el ser, el hacer y el saber
- c. Conduce de acuerdo a la necesidad
- d. No respeta las normas


METS

EVALUACION  
TEORICA  
DE  
CONDUCTORES

|          |               |
|----------|---------------|
| CÓDIGO:  | FPGT-12       |
| VERSIÓN: | 06            |
| FECHA:   | 15/05/2022    |
| PÁGINA:  | Página 7 de 7 |

FIRMA DEL EVALUADO  
NOMBRE:  
CEDULA:

  
FIRMA DEL EVALUADOR  
NOMBRE: *María Ortiz*  
CEDULA: *79309133*

  
JUAN JOSE PULZAO TOVAR  
1072700830