


| | | |
|---|----------|---------------|
|  | CÓDIGO: | FPGT-12 |
| | VERSIÓN: | 06 |
| | FECHA: | 15/05/2022 |
| | PÁGINA: | Página 1 de 7 |
| EVALUACION TEORICA DE CONDUCTORES | | |

Fecha: 21-MAYO-2025 Nombre del Evaluador: _____

Nombre del evaluado: FRANCISCO CORTES Cedula: 80415573

Licencia de conducción: 80415573 Categoría: C2 Fecha de Vencimiento: 26-10-2026

Resultado de la prueba: _____

PRUEBA TEÓRICA

1. Los canales en las llantas sirven para:

- ☒ a. Evacuar agua
- ☐ b. Tener mejor vida útil
- ☐ c. Guardar piedras
- ☐ d. Contener aire

2.Cuál es el elemento que no es obligatorio en el equipo de carreteras.

- ☐ a. Extintor
- ☐ b. Conos
- ☒ c. Cables de inicio
- ☐ d. Gato

3. Cuando el indicador de temperatura en un equipo de transporte indica 200°F o 104°C

- ☒ a. Apagamos el motor
- ☐ b. No nos preocupamos
- ☐ c. La temperatura es correcta
- ☐ d. Ninguna de las anteriores

4. La técnica que deben utilizar los usuarios de la vía en su labor diaria es la de:

- ☐ a. Leer la vía
- ☒ b. Concentración
- ☐ c. Relajación
- ☐ d. Comer bien

5. Las señales reglamentarias, tiene por objeto:

- ☐ a. Advertir al usuario de la vía, la existencia de un peligro
- ☐ b. Guiar al usuario, proporcionándole información que pueda necesitar
- ☒ c. Indicar las limitaciones, prohibiciones o restricciones sobre su uso
- ☐ d. Modificar transitoriamente el régimen normal de la utilización de la vía

6. Las señales preventivas tienen por objeto

- ☐ a. Advertir al usuario de la vía, la existencia de un peligro
- ☐ b. Guiar al usuario, proporcionándole información que pueda necesitar
- ☒ c. Indicar las limitaciones, prohibiciones o restricciones sobre su uso
- ☐ d. Modificar transitoriamente el régimen normal de la utilización de la vía

7. Los documentos que debe portar todo conductor de un vehículo son:

- ☒ a. Cedula y licencia de conducción
- b. Carnet de la EPS
- c. Manejo defensivo y carnet de vacunas
- d. Afiliación a seguridad social

8.Cuál es la Ley por la cual se expide el Código Nacional de Tránsito Terrestre

- a. 106 de 2002
- ☒ b. 769 de 2002
- c. 2556 de 2001
- d. 173 de 2002

9. De acuerdo al Código Nacional de Tránsito, la separación que debe existir entre dos vehículos que circulan, uno detrás del otro en un mismo carril a 70 km/h, es de:

- a. 10 metros
- ☒ b. 25 metros
- c. 20 metros
- d. 1 metro

10. Cuando me encuentre en alguna condición adversa como conductor debo:

- a. Subir el vidrio
- ☒ b. Reducir la marcha o detener el vehículo
- c. Aumentar la intensidad de la luz
- d. Aumentar RPM

11. Para aprovechar mejor la potencia del motor debemos tener en cuenta:

- a. La velocidad
- b. Selección del cambio más seguido
- ☒ c. Las revoluciones del motor
- d. Subir en un cambio pesado

12. Los frenos no responden adecuadamente cuando:

- ☒ a. Están nuevos
- b. Las llantas son radiales
- c. El vehículo pesa lo reglamentario
- d. Se frena demasiado

13. La velocidad máxima en carretera para vehículos públicos es:

- a. 70 km/h
- b. 90 km/h
- ☒ c. 80 km/h
- d. 65 km/h

14. El límite de velocidad para zonas escolares es:

- a. 60 km/h
- b. 50 km/h
- c. 40 km/h
- ☒ d. 30 km/h

15. Escriba el significado de cada señal de tránsito: (Responder como mínimo 5 correctamente)



| | | | | | | | | | | | |
|--|---|-------------------------------------|---------------------|---|-------------------------------------|-----------------------------|---|-------------------------------------|-----------------------------|-------------------------------------|---|
| Puedo parquear mi vehículo por 5 minutos | F | <input checked="" type="checkbox"/> | Prohibido adelantar | F | <input checked="" type="checkbox"/> | Ancho de carril 3.20 metros | F | <input checked="" type="checkbox"/> | Circulación con luces altas | <input checked="" type="checkbox"/> | V |
|--|---|-------------------------------------|---------------------|---|-------------------------------------|-----------------------------|---|-------------------------------------|-----------------------------|-------------------------------------|---|




| | | | | | | | | | | | |
|------------------------------|-------------------------------------|-------------------------------------|---|-------------------------------------|---|---|---|-------------------------------------|---------------|-------------------------------------|---|
| Permitido girar a la derecha | <input checked="" type="checkbox"/> | <input checked="" type="checkbox"/> | Puedo detener el vehículo, pero no más de 5 minutos | <input checked="" type="checkbox"/> | V | Prohibida la circulación de vehículo de carga | F | <input checked="" type="checkbox"/> | Siga adelante | <input checked="" type="checkbox"/> | V |
|------------------------------|-------------------------------------|-------------------------------------|---|-------------------------------------|---|---|---|-------------------------------------|---------------|-------------------------------------|---|

16. Escriba el significado de cada señal de tránsito: (Responder como mínimo 5 correctamente)







| | | | | | | | | | | | |
|-------------------------------|-------------------------------------|---|----------------|---|-------------------------------------|---------------------------|-------------------------------------|---|--------------|---|-------------------------------------|
| No puedo girar a la izquierda | <input checked="" type="checkbox"/> | V | Puente angosto | F | <input checked="" type="checkbox"/> | Precaución zona montañosa | <input checked="" type="checkbox"/> | V | Zona escolar | F | <input checked="" type="checkbox"/> |
|-------------------------------|-------------------------------------|---|----------------|---|-------------------------------------|---------------------------|-------------------------------------|---|--------------|---|-------------------------------------|







| | | | | |
|--|-----------------------------------|--|----------|---------------|
|  | EVALUACION TEORICA DE CONDUCTORES | | CÓDIGO: | FPGT-12 |
| | | | VERSIÓN: | 06 |
| | | | FECHA: | 15/05/2022 |
| | | | PÁGINA: | Página 4 de 7 |

| | | | | | | | | | | | |
|------------------------------------|--------------|---|-----------------|--------------|---|-------------------|---|--------------|--------------------|---|--------------|
| Ampliación simétrica de la calzada | F | V | Niños en la vía | F | V | Zonas de derrumbe | F | X | Descenso peligroso | F | X |
|------------------------------------|--------------|---|-----------------|--------------|---|-------------------|---|--------------|--------------------|---|--------------|

17. Según la señal de tránsito marque falso o verdadero. El aspirante deberá responder correctamente como mínimo 7 de las 10 señales de tránsito.



| | | | | | | | | | | | |
|--------------------------------------|--------------|---|--------------------------------|---|--------------|------------------------------------|---|--------------|--------------------------------------|---|--------------|
| Puedo adelantar en cualquier sentido | X | V | Ningún sentido puede adelantar | F | X | Doble sentido y no puedo adelantar | F | X | Puedo adelantar en cualquier sentido | F | X |
|--------------------------------------|--------------|---|--------------------------------|---|--------------|------------------------------------|---|--------------|--------------------------------------|---|--------------|



| | | | | | | | | | | | |
|-----------------------------------|---|--------------|-------------------------------|---|--------------|--------------------------------------|--------------|---|--------------------------------------|---|--------------|
| Puedo adelantar al lado izquierdo | F | X | Separa cada fila de vehículos | F | X | Línea límite para adelantar vehículo | X | V | Cebra o zona peatonal, línea de pare | F | X |
|-----------------------------------|---|--------------|-------------------------------|---|--------------|--------------------------------------|--------------|---|--------------------------------------|---|--------------|

18. La arrancada en un ascenso se realiza con la ayuda del freno estacionario

F (~~X~~) V ()

19. El odómetro del tablero de instrumentos, tiene la función de determinar la velocidad

F (~~X~~) V ()

20. La barra estabilizadora hace parte de la dirección del vehículo.

F () V (~~X~~)

21. Los semáforos, son dispositivos de seguridad activa.

F () V (~~X~~)

22. La función del aceite en el motor es:

- a. Lubricar y llenar los conductos, mantener la distancia en las moléculas.
- ☒ b. Lubricar, enfriar, limpiar y proteger, mantener una película de aceite entre los dos metales en movimiento.
- c. Limpiar, cuida el motor y lo protege de la humedad y el calor.
- d. Mantener los metales en perfecto alineamiento.

23. Se realiza una revisión pre-operacional, con el fin de determinar las condiciones de:

- a. El buen estado del vehículo.
- b. Para evitar fallas en el trabajo.
- c. Para mejorar el servicio.
- ☒ d. Todas las anteriores.

24. Cuando detectamos que el embrague entra en contacto:

- a. Cuando el vehículo se acelera.
- b. Cuando el vehículo se apaga.
- ☒ c. Cuando el vehículo se mueve.
- d. Cuando el vehículo vibra.

25. Al atender una novedad durante la prestación del servicio se debe actuar:

- a. Alejándose de los problemas del pasajero.
- b. Escuchando la versión o la inquietud del pasajero.
- ☒ c. De acuerdo con la gravedad de la novedad presentada.
- d. Dependiendo del conflicto.

26. Prestar un servicio de calidad, seguro y responsable por parte del conductor amable, es:

- a. Crítica fuerte del cliente.
- ☒ b. Satisfacción del usuario.
- c. Cumplimiento de la ruta.
- d. Daños de los equipajes.

27. La especificación SAE 15w – 40 corresponde a:

- ☒ a. Un aceite para motor multigrado.
- b. Un aceite para motor monogrado.
- c. Un aceite para motor ATF.
- d. Un aceite para motor hidráulico.

28. Las vías urbanas se clasifican en:

- ☒ a. Metro vía, troncal, férreas, autopistas, arterias principales y secundarias.
- b. Férreas, autopistas, carreras principales, privadas y peatones.
- c. De uso exclusivo, troncales, ciclo vías, peatonales.
- d. Carreteras secundarias, autopistas, arterias, principales y recolectoras.

29. Transitar a la defensiva es:

- ☒ a. Conducir con seguridad adelantándonos a los hechos y a los actos inseguros.
- b. Conducir con agresividad adelantándonos a los demás.

- c. Conducir de tal manera que estemos lejos de los que intervienen en la vía
- d. Ninguna de las anteriores.

30. Un accidente es:

- a. Cuando los demás no respetan el tránsito
- b. El resultado de manejar a la defensiva
- ☒ c. Hecho inesperado que ocurre en la vía por acción de uno o más usuarios.
- d. Todas las anteriores.

31. Algunas de las causas de los accidentes por factor humano son:

- a. Vehículos, vías, señalización
- ☒ b. Cansancio, distracción e imprudencia
- c. Clima, obras, señales
- d. Ninguna de las anteriores.

32. Las decisiones que tomamos al conducir son producto de:

- a. Lo que los demás nos dejan hacer
- b. Lo que imaginamos, lo que queremos
- ☒ c. Lo que se ve, lo que se oye, lo que se siente
- d. Ninguna de las anteriores.

33. La velocidad adecuada es:

- ☒ a. La que las señales nos indiquen en cada lugar
- b. La que el entorno y el medio nos permitan para transitar seguros
- c. La que el vehículo pueda alcanzar.
- d. Ninguna de las anteriores.

34. Distancia de reacción más distancia de frenado es igual a:

- ☒ a. Distancia total para detenerse
- b. Distancia que recorremos
- c. Distancia para actuar
- d. Distancia de reacción

35. Un conductor profesional integral es el que:

- a. Se comporta como mejor le parezca
- ☒ b. Tiene en cuenta el ser, el hacer y el saber
- c. Conduce de acuerdo a la necesidad
- d. No respeta las normas



EVALUACION
TEORICA
DE
CONDUCTORES

| | |
|----------|---------------|
| CÓDIGO: | FPGT-12 |
| VERSIÓN: | 06 |
| FECHA: | 15/05/2022 |
| PÁGINA: | Página 7 de 7 |

FIRMA DEL EVALUADO

NOMBRE:

CEDULA:

FIRMA DEL EVALUADOR

NOMBRE:

CEDULA: