	<b>EVALUACION TEORICA DE CONDUCTORES</b>	CÓDIGO:	FPGT-12
		VERSIÓN:	06
		FECHA:	15/05/2022
		PÁGINA:	Página 1 de 6

Fecha: 25 Abril

Nombre del Evaluador: \_\_\_\_\_

Nombre del evaluado: Carlos Augusto Muñoz

Cedula: 80421866

Licencia de conducción: 80421866

Categoría: C2

Fecha de Vencimiento: 24/08/2024

Resultado de la prueba: \_\_\_\_\_

### PRUEBA TEÓRICA

*C=25*

1. Los canales en las llantas sirven para:

- ☒ a. Evacuar agua
- b. Tener mejor vida útil
- c. Guardar piedras
- d. Contener aire

2.Cuál es el elemento que no es obligatorio en el equipo de carreteras.

- a. Extintor
- b. Conos
- ☒ c. Cables de inicio
- d. Gato

3. Cuando el indicador de temperatura en un equipo de transporte indica 200°F o 104°C

- a. Apagamos el motor
- b. No nos preocupamos
- ☒ c. La temperatura es correcta
- d. Ninguna de las anteriores

4. La técnica que deben utilizar los usuarios de la vía en su labor diaria es la de:


- a. Leer la vía
- ☒ b. Concentración
- c. Relajación
- d. Comer bien

5. Las señales reglamentarias, tiene por objeto:

- a. Advertir al usuario de la vía, la existencia de un peligro
- b. Guiar al usuario, proporcionándole información que pueda necesitar
- ☒ c. Indicar las limitaciones, prohibiciones o restricciones sobre su uso
- d. Modificar transitoriamente el régimen normal de la utilización de la vía

6. Las señales preventivas tienen por objeto

- ☒ a. Advertir al usuario de la vía, la existencia de un peligro
- b. Guiar al usuario, proporcionándole información que pueda necesitar
- c. Indicar las limitaciones, prohibiciones o restricciones sobre su uso
- d. Modificar transitoriamente el régimen normal de la utilización de la vía

	<b>EVALUACION TEORICA DE CONDUCTORES</b>	CÓDIGO:	FPGT-12
		VERSIÓN:	06
		FECHA:	15/05/2022
		PÁGINA:	Página 2 de 6

7. Los documentos que debe portar todo conductor de un vehículo son:

- ☒ a. Cedula y licencia de conducción
- ☐ b. Carnet de la EPS
- ☐ c. Manejo defensivo y carnet de vacunas
- ☐ d. Afiliación a seguridad social

8. Cuál es la Ley por la cual se expide el Código Nacional de Tránsito Terrestre

- ☐ a. 106 de 2002
- ☒ b. 769 de 2002
- ☐ c. 2556 de 2001
- ☐ d. 173 de 2002

9. De acuerdo al Código Nacional de Tránsito, la separación que debe existir entre dos vehículos que circulan, uno detrás del otro en un mismo carril a 70 km/h, es de:

- ☐ a. 10 metros
- ☐ b. 25 metros
- ☒ c. 20 metros
- ☐ d. 1 metro

10. Cuando me encuentre en alguna condición adversa como conductor debo:

- ☐ a. Subir el vidrio
- ☒ b. Reducir la marcha o detener el vehículo
- ☐ c. Aumentar la intensidad de la luz
- ☐ d. Aumentar RPM

11. Para aprovechar mejor la potencia del motor debemos tener en cuenta:

- ☐ a. La velocidad
- ☐ b. Selección del cambio más seguido
- ☒ c. Las revoluciones del motor
- ☐ d. Subir en un cambio pesado

12. Los frenos no responden adecuadamente cuando:

- ☐ a. Están nuevos
- ☐ b. Las llantas son radiales
- ☐ c. El vehículo pesa lo reglamentario
- ☒ d. Se frena demasiado

13. La velocidad máxima en carretera para vehículos públicos es:


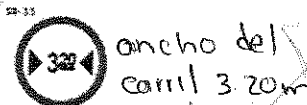
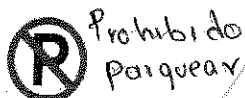
- ☐ a. 70 km/h
- ☐ b. 90 km/h
- ☒ c. 80 km/h
- ☐ d. 65 km/h

	EVALUACION TEORICA DE CONDUCTORES	CÓDIGO:	FPGT-12
		VERSIÓN:	06
		FECHA:	15/05/2022
		PÁGINA:	Página 3 de 6


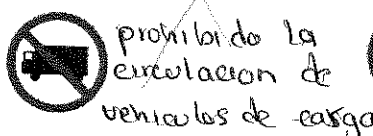


14. El límite de velocidad para zonas escolares es:

- a. 60 km/h
- b. 50 km/h
- c. 40 km/h
- ☒ d. 30 km/h

15. Escriba el significado de cada señal de tránsito: (Responder como mínimo 5 correctamente)


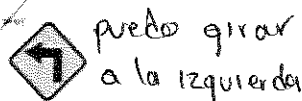


Puedo parquear mi vehículo por 5 minutos	<input checked="" type="checkbox"/>	<input checked="" type="checkbox"/>	Prohibido adelantar	<input checked="" type="checkbox"/>	Ancho de carril 3.20 metros	<input checked="" type="checkbox"/>	Circulación con luces altas	<input checked="" type="checkbox"/>	<input checked="" type="checkbox"/>
--	-------------------------------------	-------------------------------------	---------------------	-------------------------------------	-----------------------------	-------------------------------------	-----------------------------	-------------------------------------	-------------------------------------

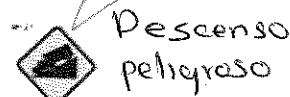
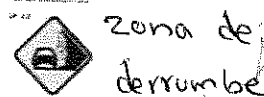
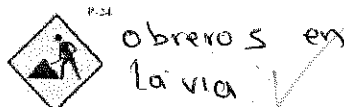
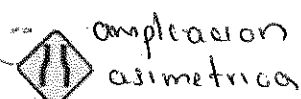


Permitido girar a la derecha	<input checked="" type="checkbox"/>	<input checked="" type="checkbox"/>	Puedo detener el vehículo, pero no más de 5 minutos	<input checked="" type="checkbox"/>	Prohibida la circulación de vehículo de carga	<input checked="" type="checkbox"/>	Siga adelante	<input checked="" type="checkbox"/>	<input checked="" type="checkbox"/>
------------------------------	-------------------------------------	-------------------------------------	---	-------------------------------------	---	-------------------------------------	---------------	-------------------------------------	-------------------------------------

16. Escriba el significado de cada señal de tránsito: (Responder como mínimo 5 correctamente)









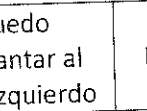
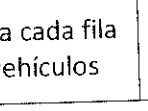
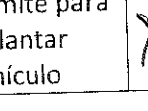



No puedo girar a la izquierda	<input checked="" type="checkbox"/>	<input checked="" type="checkbox"/>	Puente angosto	<input checked="" type="checkbox"/>	Precaución zona montañosa	<input checked="" type="checkbox"/>	Zona escolar	<input checked="" type="checkbox"/>	<input checked="" type="checkbox"/>
-------------------------------	-------------------------------------	-------------------------------------	----------------	-------------------------------------	---------------------------	-------------------------------------	--------------	-------------------------------------	-------------------------------------



Ampliación simétrica de la calzada	<input checked="" type="checkbox"/>	<input checked="" type="checkbox"/>	Niños en la vía	<input checked="" type="checkbox"/>	Zonas de derrumbe	<input checked="" type="checkbox"/>	Descenso peligroso	<input checked="" type="checkbox"/>	<input checked="" type="checkbox"/>
------------------------------------	-------------------------------------	-------------------------------------	-----------------	-------------------------------------	-------------------	-------------------------------------	--------------------	-------------------------------------	-------------------------------------

17. Según la señal de tránsito marque falso o verdadero. El aspirante deberá responder correctamente como mínimo 7 de las 10 señales de tránsito.

			
Puedo adelantar en cualquier sentido	<input checked="" type="checkbox"/> F <input type="checkbox"/> V	Ningún sentido puede adelantar	<input type="checkbox"/> F <input checked="" type="checkbox"/> V
			
Puedo adelantar al lado izquierdo	<input type="checkbox"/> F <input checked="" type="checkbox"/> V	Separa cada fila de vehículos	<input checked="" type="checkbox"/> F <input type="checkbox"/> V
			
Línea límite para adelantar vehículo	<input checked="" type="checkbox"/> F <input type="checkbox"/> V	Cebra o zona peatonal, línea de pare	<input type="checkbox"/> F <input checked="" type="checkbox"/> V

18. La arrancada en un ascenso se realiza con la ayuda del freno estacionario

F ☒ V ( )

19. El odómetro del tablero de instrumentos, tiene la función de determinar la velocidad

F ☒ V ( )

20. La barra estabilizadora hace parte de la dirección del vehículo.


F ☒ V ( )

21. Los semáforos, son dispositivos de seguridad activa.

F ( ) V ☒

22. La función del aceite en el motor es:

- Lubricar y llenar los conductos, mantener la distancia en las moléculas.
- ☒ Lubricar, enfriar, limpiar y proteger, mantener una película de aceite entre los dos metales en movimiento.
- Limpia, cuida el motor y lo protege de la humedad y el calor.
- Mantener los metales en perfecto alineamiento.

	<b>EVALUACION TEORICA DE CONDUCTORES</b>	CÓDIGO:	FPGT-12
		VERSIÓN:	06
		FECHA:	15/05/2022
		PÁGINA:	Página 5 de 6

**23. Se realiza una revisión pre-operacional, con el fin de determinar las condiciones de:**

- a. El buen estado del vehículo.
- b. Para evitar fallas en el trabajo.
- c. Para mejorar el servicio.
- ☒ d. Todas las anteriores.

**24. Cuando detectamos que el embrague entra en contacto:**

- ☒ a. Cuando el vehículo se acelera.
- b. Cuando el vehículo se apaga.
- c. Cuando el vehículo se mueve.
- d. Cuando el vehículo vibra.

**25. Al atender una novedad durante la prestación del servicio se debe actuar:**

- a. Alejándose de los problemas del pasajero.
- ☒ b. Escuchando la versión o la inquietud del pasajero.
- c. De acuerdo con la gravedad de la novedad presentada.
- d. Dependiendo del conflicto.

**26. Prestar un servicio de calidad, seguro y responsable por parte del conductor amable, es:**

- a. Crítica fuerte del cliente.
- ☒ b. Satisfacción del usuario.
- c. Cumplimiento de la ruta.
- d. Daños de los equipajes.

**27. La especificación SAE 15w – 40 corresponde a:**

- ☒ a. Un aceite para motor multigrado
- b. Un aceite para motor monogrado
- c. Un aceite para motor ATF
- d. Un aceite para motor hidráulico

**28. Las vías urbanas se clasifican en:**


- a. Metro vía, troncal, férreas, autopistas, arterias principales y secundarias.
- ☒ b. Férreas, autopistas, carreras principales, privadas y peatones.
- c. De uso exclusivo, troncales, ciclo vías, peatonales.
- d. Carreteras secundarias, autopistas, arterias, principales y recolectoras.

**29. Transitar a la defensiva es:**

- a. Conducir con seguridad adelantándonos a los hechos y a los actos inseguros
- ☒ b. Conducir con agresividad adelantándonos a los demás
- c. Conducir de tal manera que estemos lejos de los que intervienen en la vía
- d. Ninguna de las anteriores.

**30. Un accidente es:**

- a. Cuando los demás no respetan el tránsito
- b. El resultado de manejar a la defensiva
- ☒ c. Hecho inesperado que ocurre en la vía por acción de uno o más usuarios.

	<b>EVALUACION TEORICA DE CONDUCTORES</b>	CÓDIGO:	FPGT-12
		VERSIÓN:	06
		FECHA:	15/05/2022
		PÁGINA:	Página 6 de 6

d. Todas las anteriores.

**31. Algunas de las causas de los accidentes por factor humano son:**

- a. Vehículos, vías, señalización
- ☒ b. Cansancio, distracción e imprudencia
- c. Clima, obras, señales
- d. Ninguna de las anteriores.

**32. Las decisiones que tomamos al conducir son producto de:**

- a. Lo que los demás nos dejan hacer
- b. Lo que imaginamos, lo que queremos
- c. Lo que se ve, lo que se oye, lo que se siente
- ☒ d. Ninguna de las anteriores.

**33. la velocidad adecuada es:**

- ☒ a. La que las señales nos indiquen en cada lugar
- b. La que el entorno y el medio nos permitan para transitar seguros
- c. La que el vehículo pueda alcanzar.
- d. Ninguna de las anteriores.

**34. Distancia de reacción más distancia de frenado es igual a:**

- ☒ a. Distancia total para detenerse
- b. Distancia que recorremos
- c. Distancia para actuar
- d. Distancia de reacción

**35. Un conductor profesional integral es el que:**

- a. Se comporta como mejor le parezca
- ☒ b. Tiene en cuenta el ser, el hacer y el saber
- c. Conduce de acuerdo a la necesidad
- d. No respeta las normas

FIRMA DEL EVALUADO

NOMBRE: Carlos Augusto Moroz  
CEDULA: 80421866

FIRMA DEL EVALUADOR

NOMBRE:  
CEDULA: