

P-SIG-PESV-FOR -09	Código	PROCESO SG-SST	Código	P-SIG-PESV-FOR -09
<i>Metro Vans</i>			Versión	02
12/01/2025	Fecha	PRUEBA TEORICA PARA CONDUCTORES	Fecha	12/01/2025

### PRUEBA TEORICA PARA CONDUCTORES

Fecha de ingreso Enero 14/2025

Nombre: Angelapaticia Sanchez G Ruta 8

Identificación No.: 52452.834 Fecha: 14/01/2025 Ciudad: Coacotlán

TEMA	MANEJO
CALIFICACIÓN	<u>1-100</u>
PUNTAJE TOTAL	<u>77</u>

### EN LAS SIGUIENTES PREGUNTAS MARCA CON UNA X LA RESPUESTA ADECUADA

1. ¿Qué es la conducción defensiva?

- ☐ a) Conducir a alta velocidad.
- ☒ b) Anticipar los peligros y actuar para evitarlos.
- ☐ c) Ignorar las normas de tránsito.
- ☐ d) Conducir agresivamente.

2. ¿Cuál es la regla de los "tres segundos"?

- ☒ a) Distancia mínima entre vehículos en segundos.
- ☐ b) Tiempo máximo para reaccionar ante un peligro.
- ☐ c) Tiempo para cambiar de carril.
- ☐ d) Tiempo para adelantar.

3. ¿Qué debe hacer un conductor al enfrentarse a condiciones climáticas adversas (lluvia, niebla)?

- ☐ a) Aumentar la velocidad.
- ☒ b) Disminuir la velocidad y aumentar la distancia de seguridad.
- ☐ c) Apagar las luces.
- ☐ d) Ignorar las condiciones.


4. ¿Qué es el punto ciego de un vehículo?

- ☐ a) La zona visible por los espejos retrovisores.

P-SIG-PESV-FOR-09	Código	PROCESO SG-SST	Código	P-SIG-PESV-FOR-09
<i>Metro Vans</i>			Versión	02
12/01/2025	Fecha	PRUEBA TEORICA PARA CONDUCTORES	Fecha	12/01/2025

- ✓ ● b) La zona no visible por los espejos retrovisores.  
○ c) La zona iluminada por los faros.  
○ d) La zona de máxima visibilidad.
5. ¿Qué significa el término "aquaplaning"?  
✓ ● a) Deslizamiento del vehículo sobre una capa de agua.  
○ b) Exceso de velocidad en curvas.  
○ c) Fallo en el sistema de frenos.  
○ d) Desgaste excesivo de neumáticos.
6. ¿Qué es el manejo preventivo?  
○ a) Conducir a la defensiva.  
✓ ● b) Conducir anticipando los peligros.  
○ c) Conducir a alta velocidad.  
○ d) Conducir sin respetar las normas.
7. ¿Qué indica el nivel bajo de líquido de frenos?  
✓ ● b) Problemas con el sistema de frenado.  
○ a) Problemas con la dirección.  
○ c) Problemas con el motor.  
○ d) Problemas con la suspensión.
8. ¿Qué función cumple el aceite del motor?  
✓ ● b) Lubricar las piezas del motor.  
○ a) Refrigerar el motor.  
○ c) Limpiar el parabrisas.  
○ d) Inflar los neumáticos.
9. ¿Qué indica la luz de advertencia de la batería en el tablero?  
✓ ● a) Problemas con la batería o el sistema de carga.  
○ b) Problemas con el combustible.  
○ c) Problemas con la dirección.  
○ d) Problemas con los frenos.
10. ¿Qué debe revisar un conductor antes de iniciar un viaje?  
✓ ● a) Niveles de líquidos, neumáticos, luces y frenos.



P-SIG-PESV-FOR-09	Código	PROCESO SG-SST	Código	P-SIG-PESV-FOR-09
			Versión	02
12/01/2025	Fecha	PRUEBA TEORICA PARA CONDUCTORES	Fecha	12/01/2025

- ☐ b) Solo el nivel de combustible.
- ☐ c) Solo las luces.
- ☐ d) Solo los neumáticos.

11. ¿Cuál es la función del líquido refrigerante?

- ☐ a) Lubricar el motor.
- ☒ b) Mantener la temperatura del motor.
- ☐ c) Limpiar el parabrisas.
- ☐ d) Inflar los neumáticos.

12. ¿Qué indica el humo azul en el escape?

- ☒ a) Problemas con el sistema de escape.
- ☒ b) Quema de aceite en el motor.
- ☐ c) Problemas con el sistema de frenos.
- ☐ d) Problemas con el combustible.

13. ¿Qué indica una señal de "PARE"?

- ☒ a) Ceder el paso.
- ☒ b) Detener completamente el vehículo.
- ☐ c) Reducir la velocidad.
- ☐ d) Continuar con precaución.


14. ¿Qué indica una línea amarilla continua en la vía?

- ☒ a) Se permite adelantar.
- ☒ b) No se permite adelantar.
- ☐ c) Indica zona de estacionamiento.
- ☐ d) Indica cambio de carril.

15. ¿Qué significa una señal de tránsito con un peatón cruzando una cebrá?

- ☐ a) Zona peatonal.
- ☒ b) Cruce peatonal.
- ☐ c) Semáforo peatonal.
- ☐ d) Todas las anteriores.

16. ¿Qué indica la señal de tránsito con un vehículo derrapando?

	Código	PROCESO SG-SST	Código	P-SIG-PESV-FOR -09
			Versión	02
Fecha	12/01/2025	PRUEBA TEORICA PARA CONDUCTORES	Fecha	12/01/2025

- X
- ☐ a) Curva peligrosa.
  - ☒ b) Calzada resbaladiza.
  - ☐ c) Derrumbe.
  - ☐ d) Todas las anteriores.

17. ¿Qué indica una señal de tránsito con un semáforo en amarillo intermitente?

- ✓
- ☐ a) Pare.
  - ☐ b) Ceda el paso.
  - ☐ c) Peligro.
  - ☒ d) Disminuir la velocidad y continuar con precaución.

18. ¿Que indica una señal de tránsito con una bicicleta dentro de un triángulo rojo?

- ✓
- ☐ a) carril exclusivo de bicicletas.
  - ☐ b) paso de bicicletas.
  - ☒ c) peligro por paso de bicicletas.
  - ☐ d) zona de ciclovía.

19. ¿Cuál es el límite de velocidad en zonas escolares en Colombia?

- X
- ☒ a) 30 km/h.
  - ☐ b) 50 km/h.
  - ☐ c) 60 km/h.
  - ☐ d) 80 km/h.

20. ¿Qué tipo de seguro es obligatorio para todos los vehículos en Colombia?


- X
- ☒ a) Seguro de responsabilidad civil extracontractual (RCE).
  - ☐ b) Seguro todo riesgo.
  - ☐ c) Seguro de vida.
  - ☐ d) Seguro de asistencia en viaje.

21. ¿Cuál es la sanción por conducir bajo los efectos del alcohol en Colombia?

- ✓
- ☐ a) Multa económica.
  - ☐ b) Suspensión de la licencia.
  - ☐ c) Retención del vehículo.
  - ☒ d) Todas las anteriores.

22. ¿Cuál es la sanción por no utilizar el cinturón de seguridad en Colombia?

- ✓
- ☒ a) Multa económica.

	PROCESO SG-SST	Código	P-SIG-PESV-FOR -09
		Versión	02
	PRUEBA TEORICA PARA CONDUCTORES	Fecha	12/01/2025

- b) Inmovilización del vehículo.
- c) Suspensión de la licencia.
- d) Ninguna.

23. ¿Cuál es la edad mínima para obtener la licencia de conducción en Colombia?

- X
- a) 16 años.
  - b) 17 años.
  - c) 18 años.
  - d) 21 años.

24. ¿Qué documento es obligatorio portar en el vehículo?

- ✓
- a) Licencia de conducción.
  - b) Seguro obligatorio (SOAT).
  - c) Tarjeta de propiedad.
  - d) Todas las anteriores.

25. ¿Qué significa la sigla SOAT?

- ✓
- a) Sistema obligatorio de asistencia técnica.
  - b) Seguro obligatorio de accidentes de tránsito.
  - c) Servicio operativo de atención terrestre.
  - d) Sistema operativo de atención total.

26. ¿Cuál de las siguientes señales es una señal de tránsito vertical reglamentaria?



A



B



C