	PROCESO SG-SST	Código	P-SIG-PESV-FOR -09
		Versión	02
	PRUEBA TEORICA PARA CONDUCTORES	Fecha	12/01/2025

### .PRUEBA TEORICA PARA CONDUCTORES

Fecha de ingreso \_\_\_\_\_

Nombre

Carlos Giovanni Acosta Griceo

Identificación No.:

79.397.564

Fecha:

Ciudad:

TEMA	MANEJO
CALIFICACIÓN	8.08
PUNTAJE TOTAL	21

### EN LAS SIGUIENTES PREGUNTAS MARCA CON UNA X LA RESPUESTA ADECUADA

1. ¿Qué es la conducción defensiva?

- ☐ a) Conducir a alta velocidad.
- ☒ b) Anticipar los peligros y actuar para evitarlos.
- ☐ c) Ignorar las normas de tránsito.
- ☐ d) Conducir agresivamente.

2. ¿Cuál es la regla de los "tres segundos"?


- ☒ a) Distancia mínima entre vehículos en segundos.
- ☐ b) Tiempo máximo para reaccionar ante un peligro.
- ☐ c) Tiempo para cambiar de carril.
- ☐ d) Tiempo para adelantar.

3. ¿Qué debe hacer un conductor al enfrentarse a condiciones climáticas adversas (lluvia, niebla)?


- ☐ a) Aumentar la velocidad.
- ☒ b) Disminuir la velocidad y aumentar la distancia de seguridad.
- ☐ c) Apagar las luces.
- ☐ d) Ignorar las condiciones.

4. ¿Qué es el punto ciego de un vehículo?

- ☐ a) La zona visible por los espejos retrovisores.

	PROCESO SG-SST	Código	P-SIG-PESV-FOR -09
		Versión	02
	PRUEBA TEORICA PARA CONDUCTORES	Fecha	12/01/2025

- ☒ b) La zona no visible por los espejos retrovisores.  
☐ c) La zona iluminada por los faros.  
☐ d) La zona de máxima visibilidad.
5. ¿Qué significa el término "aquaplaning"?
- ☒ a) Deslizamiento del vehículo sobre una capa de agua.  
☐ b) Exceso de velocidad en curvas.  
☐ c) Fallo en el sistema de frenos.  
☐ d) Desgaste excesivo de neumáticos.
6. ¿Qué es el manejo preventivo?
- ☒ a) Conducir a la defensiva.  
☒ b) Conducir anticipando los peligros.  
☐ c) Conducir a alta velocidad.  
☐ d) Conducir sin respetar las normas.
7. ¿Qué indica el nivel bajo de líquido de frenos?
- ☐ a) Problemas con la dirección.  
☒ b) Problemas con el sistema de frenado.  
☐ c) Problemas con el motor.  
☐ d) Problemas con la suspensión.
8. ¿Qué función cumple el aceite del motor?
- ☐ a) Refrigerar el motor.  
☒ b) Lubricar las piezas del motor.  
☐ c) Limpiar el parabrisas.  
☐ d) Inflar los neumáticos.
9. ¿Qué indica la luz de advertencia de la batería en el tablero?
- ☒ a) Problemas con la batería o el sistema de carga.  
☐ b) Problemas con el combustible.  
☐ c) Problemas con la dirección.  
☐ d) Problemas con los frenos.
10. ¿Qué debe revisar un conductor antes de iniciar un viaje?
- ☒ a) Niveles de líquidos, neumáticos, luces y frenos.

	PROCESO SG-SST	Código	P-SIG-PESV-FOR -09
		Versión	02
	PRUEBA TEORICA PARA CONDUCTORES	Fecha	12/01/2025

- ☐ b) Solo el nivel de combustible.
- ☐ c) Solo las luces.
- ☐ d) Solo los neumáticos.

11. ¿Cuál es la función del líquido refrigerante?

- ☐ a) Lubricar el motor.
- ☒ b) Mantener la temperatura del motor.
- ☐ c) Limpiar el parabrisas.
- ☐ d) Inflar los neumáticos.

12. ¿Qué indica el humo azul en el escape?

- ☐ a) Problemas con el sistema de escape.
- ☒ b) Quema de aceite en el motor.
- ☐ c) Problemas con el sistema de frenos.
- ☐ d) Problemas con el combustible.

13. ¿Qué indica una señal de "PARE"?

- ☐ a) Ceder el paso.
- ☒ b) Detener completamente el vehículo.
- ☐ c) Reducir la velocidad.
- ☐ d) Continuar con precaución.


14. ¿Qué indica una línea amarilla continua en la vía?

- ☐ a) Se permite adelantar.
- ☒ b) No se permite adelantar.
- ☐ c) Indica zona de estacionamiento.
- ☐ d) Indica cambio de carril.

15. ¿Qué significa una señal de tránsito con un peatón cruzando una cebra?

- ☐ a) Zona peatonal.
- ☒ b) Cruce peatonal.
- ☐ c) Semáforo peatonal.
- ☐ d) Todas las anteriores.

16. ¿Qué indica la señal de tránsito con un vehículo derrapando?

	PROCESO SG-SST	Código	P-SIG-PESV-FOR -09
		Versión	02
	PRUEBA TEORICA PARA CONDUCTORES	Fecha	12/01/2025

- ☐ a) Curva peligrosa.
- ☒ b) Calzada resbaladiza.
- ☐ c) Derrumbe.
- ☐ d) Todas las anteriores.

17. ¿Qué indica una señal de tránsito con un semáforo en amarillo intermitente?

- ☐ a) Pare.
- ☒ b) Ceda el paso.
- ☐ c) Peligro.
- ☐ d) Disminuir la velocidad y continuar con precaución.

18. ¿Que indica una señal de tránsito con una bicicleta dentro de un triángulo rojo?

- ☐ a) carril exclusivo de bicicletas.
- ☒ b) paso de bicicletas.
- ☐ c) peligro por paso de bicicletas.
- ☒ d) zona de ciclovía.

19. ¿Cuál es el límite de velocidad en zonas escolares en Colombia?

- ☒ a) 30 km/h.
- ☐ b) 50 km/h.
- ☐ c) 60 km/h.
- ☐ d) 80 km/h.

20. ¿Qué tipo de seguro es obligatorio para todos los vehículos en Colombia?

- ☒ a) Seguro de responsabilidad civil extracontractual (RCE).
- ☐ b) Seguro todo riesgo.
- ☐ c) Seguro de vida.
- ☐ d) Seguro de asistencia en viaje.


21. ¿Cuál es la sanción por conducir bajo los efectos del alcohol en Colombia?

- ☐ a) Multa económica.
- ☐ b) Suspensión de la licencia.
- ☐ c) Retención del vehículo.
- ☒ d) Todas las anteriores.

22. ¿Cuál es la sanción por no utilizar el cinturón de seguridad en Colombia?

- ☒ a) Multa económica.



	PROCESO SG-SST	Código	P-SIG-PESV-FOR -09
		Versión	02
	PRUEBA TEORICA PARA CONDUCTORES	Fecha	12/01/2025

- ☐ b) Inmovilización del vehículo.
- ☐ c) Suspensión de la licencia.
- ☐ d) Ninguna.

23. ¿Cuál es la edad mínima para obtener la licencia de conducción en Colombia?

- ☒ a) 16 años.
- ☐ b) 17 años.
- ☐ c) 18 años.
- ☐ d) 21 años.

24. ¿Qué documento es obligatorio portar en el vehículo?

- ☐ a) Licencia de conducción.
- ☐ b) Seguro obligatorio (SOAT).
- ☐ c) Tarjeta de propiedad.
- ☒ d) Todas las anteriores.

25. ¿Qué significa la sigla SOAT?

- ☐ a) Sistema obligatorio de asistencia técnica.
- ☒ b) Seguro obligatorio de accidentes de tránsito.
- ☐ c) Servicio operativo de atención terrestre.
- ☐ d) Sistema operativo de atención total.

26. ¿Cuál de las siguientes señales es una señal de tránsito vertical reglamentaria?



A



B



~~C~~



1. The first part of the document is a letter from the President of the United States to the Congress, dated January 1, 1801. It is a very important document, as it is the first time that the President has addressed the Congress since the establishment of the office.

2. The second part of the document is a report from the Secretary of the Treasury, dated January 1, 1801. It is a very important document, as it is the first time that the Secretary of the Treasury has reported to the Congress since the establishment of the office.

3. The third part of the document is a report from the Secretary of the Navy, dated January 1, 1801. It is a very important document, as it is the first time that the Secretary of the Navy has reported to the Congress since the establishment of the office.

4. The fourth part of the document is a report from the Secretary of the War, dated January 1, 1801. It is a very important document, as it is the first time that the Secretary of the War has reported to the Congress since the establishment of the office.

5. The fifth part of the document is a report from the Secretary of the State, dated January 1, 1801. It is a very important document, as it is the first time that the Secretary of the State has reported to the Congress since the establishment of the office.

