	PROCESO SG-SST	Código	P-SIG-PESV-FOR -09
		Versión	02
	PRUEBA TEORICA PARA CONDUCTORES	Fecha	12/01/2025

### .PRUEBA TEORICA PARA CONDUCTORES

Fecha de ingreso \_\_\_\_\_


Nombre: Hayner Hernando Pico R.

Identificación No.: 80.360.368 Fecha: \_\_\_\_\_ Ciudad: Bogotá


TEMA	MANEJO
CALIFICACIÓN	8,46
PUNTAJE TOTAL	22

### EN LAS SIGUIENTES PREGUNTAS MARCA CON UNA X LA RESPUESTA ADECUADA

- ¿Qué es la conducción defensiva?
  - ☐ a) Conducir a alta velocidad.
  - ☒ b) Anticipar los peligros y actuar para evitarlos. ✓
  - ☐ c) Ignorar las normas de tránsito.
  - ☐ d) Conducir agresivamente.
- ¿Cuál es la regla de los "tres segundos"?
  - ☒ a) Distancia mínima entre vehículos en segundos. ✓
  - ☐ b) Tiempo máximo para reaccionar ante un peligro.
  - ☐ c) Tiempo para cambiar de carril.
  - ☐ d) Tiempo para adelantar.
- ¿Qué debe hacer un conductor al enfrentarse a condiciones climáticas adversas (lluvia, niebla)?
  - ☐ a) Aumentar la velocidad.
  - ☒ b) Disminuir la velocidad y aumentar la distancia de seguridad. ✓
  - ☐ c) Apagar las luces.
  - ☐ d) Ignorar las condiciones.
- ¿Qué es el punto ciego de un vehículo?
  - ☐ a) La zona visible por los espejos retrovisores.

	PROCESO SG-SST	Código	P-SIG-PESV-FOR -09
		Versión	02
	PRUEBA TEORICA PARA CONDUCTORES	Fecha	12/01/2025

- ☒ b) La zona no visible por los espejos retrovisores.  
☐ c) La zona iluminada por los faros.  
☐ d) La zona de máxima visibilidad.
5. ¿Qué significa el término "aquaplaning"?
- ☒ a) Deslizamiento del vehículo sobre una capa de agua.  
☐ b) Exceso de velocidad en curvas.  
☐ c) Fallo en el sistema de frenos.  
☐ d) Desgaste excesivo de neumáticos.
6. ¿Qué es el manejo preventivo?
- ☒ a) Conducir a la defensiva.  
☐ b) Conducir anticipando los peligros.  
☐ c) Conducir a alta velocidad.  
☐ d) Conducir sin respetar las normas.
7. ¿Qué indica el nivel bajo de líquido de frenos?
- ☐ a) Problemas con la dirección.  
☒ b) Problemas con el sistema de frenado.  
☐ c) Problemas con el motor.  
☐ d) Problemas con la suspensión.
8. ¿Qué función cumple el aceite del motor?
- ☐ a) Refrigerar el motor.  
☒ b) Lubricar las piezas del motor.  
☐ c) Limpiar el parabrisas.  
☐ d) Inflar los neumáticos.
9. ¿Qué indica la luz de advertencia de la batería en el tablero?
- ☒ a) Problemas con la batería o el sistema de carga.  
☐ b) Problemas con el combustible.  
☐ c) Problemas con la dirección.  
☐ d) Problemas con los frenos.
10. ¿Qué debe revisar un conductor antes de iniciar un viaje?
- ☒ a) Niveles de líquidos, neumáticos, luces y frenos.

	PROCESO SG-SST	Código	P-SIG-PESV-FOR -09
		Versión	02
	PRUEBA TEORICA PARA CONDUCTORES	Fecha	12/01/2025

- ☐ b) Solo el nivel de combustible.
- ☐ c) Solo las luces.
- ☐ d) Solo los neumáticos.

11. ¿Cuál es la función del líquido refrigerante?

- ☐ a) Lubricar el motor.
- ☒ b) Mantener la temperatura del motor.
- ☐ c) Limpiar el parabrisas.
- ☐ d) Inflar los neumáticos.

12. ¿Qué indica el humo azul en el escape?

- ☐ a) Problemas con el sistema de escape.
- ☒ b) Quema de aceite en el motor.
- ☐ c) Problemas con el sistema de frenos.
- ☐ d) Problemas con el combustible.

13. ¿Qué indica una señal de "PARE"?

- ☐ a) Ceder el paso.
- ☒ b) Detener completamente el vehículo.
- ☐ c) Reducir la velocidad.
- ☐ d) Continuar con precaución.


14. ¿Qué indica una línea amarilla continua en la vía?

- ☐ a) Se permite adelantar.
- ☒ b) No se permite adelantar.
- ☐ c) Indica zona de estacionamiento.
- ☐ d) Indica cambio de carril.

15. ¿Qué significa una señal de tránsito con un peatón cruzando una cebrá?

- ☐ a) Zona peatonal.
- ☒ b) Cruce peatonal.
- ☐ c) Semáforo peatonal.
- ☐ d) Todas las anteriores.

16. ¿Qué indica la señal de tránsito con un vehículo derrapando?

	PROCESO SG-SST	Código	P-SIG-PESV-FOR -09
		Versión	02
	PRUEBA TEORICA PARA CONDUCTORES	Fecha	12/01/2025

- ☐ a) Curva peligrosa.
- ☒ b) Calzada resbaladiza.
- ☐ c) Derrumbe.
- ☐ d) Todas las anteriores.

17. ¿Qué indica una señal de tránsito con un semáforo en amarillo intermitente?

- ☐ a) Pare.
- ☐ b) Ceda el paso.
- ☐ c) Peligro.
- ☒ d) Disminuir la velocidad y continuar con precaución.

18. ¿Que indica una señal de tránsito con una bicicleta dentro de un triángulo rojo?

- ☐ a) carril exclusivo de bicicletas.
- ☒ b) paso de bicicletas.
- ☐ c) peligro por paso de bicicletas.
- ☐ d) zona de ciclovía.

19. ¿Cuál es el límite de velocidad en zonas escolares en Colombia?

- ☒ a) 30 km/h.
- ☐ b) 50 km/h.
- ☐ c) 60 km/h.
- ☐ d) 80 km/h.

20. ¿Qué tipo de seguro es obligatorio para todos los vehículos en Colombia?

- ☒ a) Seguro de responsabilidad civil extracontractual (RCE).
- ☐ b) Seguro todo riesgo.
- ☐ c) Seguro de vida.
- ☐ d) Seguro de asistencia en viaje.


21. ¿Cuál es la sanción por conducir bajo los efectos del alcohol en Colombia?

- ☐ a) Multa económica.
- ☐ b) Suspensión de la licencia.
- ☐ c) Retención del vehículo.
- ☒ d) Todas las anteriores.

22. ¿Cuál es la sanción por no utilizar el cinturón de seguridad en Colombia?

- ☒ a) Multa económica.



	PROCESO SG-SST	Código	P-SIG-PESV-FOR -09
		Versión	02
	PRUEBA TEORICA PARA CONDUCTORES	Fecha	12/01/2025

- ☐ b) Inmovilización del vehículo.
- ☐ c) Suspensión de la licencia. ✓
- ☐ d) Ninguna.

23. ¿Cuál es la edad mínima para obtener la licencia de conducción en Colombia?

- ☒ a) 16 años.
- ☐ b) 17 años. ✓
- ☐ c) 18 años.
- ☐ d) 21 años.

24. ¿Qué documento es obligatorio portar en el vehículo?

- ☐ a) Licencia de conducción.
- ☐ b) Seguro obligatorio (SOAT). ✓
- ☐ c) Tarjeta de propiedad.
- ☒ d) Todas las anteriores.

25. ¿Qué significa la sigla SOAT?

- ☐ a) Sistema obligatorio de asistencia técnica.
- ☒ b) Seguro obligatorio de accidentes de tránsito. ✓
- ☐ c) Servicio operativo de atención terrestre.
- ☐ d) Sistema operativo de atención total.

26. ¿Cuál de las siguientes señales es una señal de tránsito vertical reglamentaria?



A



B



☒



1. The first part of the document is a letter from the President of the United States to the Congress, dated September 17, 1787. It is a very important document, as it is the first official communication from the President to the Congress. The letter is written in a very formal and dignified style, and it is a very good example of the President's power and authority.

2. The second part of the document is a letter from the President to the Congress, dated September 17, 1787. It is a very important document, as it is the first official communication from the President to the Congress. The letter is written in a very formal and dignified style, and it is a very good example of the President's power and authority.

3. The third part of the document is a letter from the President to the Congress, dated September 17, 1787. It is a very important document, as it is the first official communication from the President to the Congress. The letter is written in a very formal and dignified style, and it is a very good example of the President's power and authority.

4. The fourth part of the document is a letter from the President to the Congress, dated September 17, 1787. It is a very important document, as it is the first official communication from the President to the Congress. The letter is written in a very formal and dignified style, and it is a very good example of the President's power and authority.

5. The fifth part of the document is a letter from the President to the Congress, dated September 17, 1787. It is a very important document, as it is the first official communication from the President to the Congress. The letter is written in a very formal and dignified style, and it is a very good example of the President's power and authority.

6. The sixth part of the document is a letter from the President to the Congress, dated September 17, 1787. It is a very important document, as it is the first official communication from the President to the Congress. The letter is written in a very formal and dignified style, and it is a very good example of the President's power and authority.

