


| | | | |
|---|---------------------------------|---------|--------------------|
|  | PROCESO SG-SST | Código | P-SIG-PESV-FOR -09 |
| | | Versión | 02 |
| | PRUEBA TEORICA PARA CONDUCTORES | Fecha | 12/01/2025 |

.PRUEBA TEORICA PARA CONDUCTORES

Fecha de ingreso _____


Nombre: Mauricio Santiago Patanayo

Identificación No.: 80417750 Fecha: 13-05-25 Ciudad: Bogotá


| TEMA | MANEJO |
|---------------|--------|
| CALIFICACIÓN | 9,62 |
| PUNTAJE TOTAL | 25 |

EN LAS SIGUIENTES PREGUNTAS MARCA CON UNA X LA RESPUESTA ADECUADA

- ¿Qué es la conducción defensiva?
 - ☐ a) Conducir a alta velocidad.
 - ☒ b) Anticipar los peligros y actuar para evitarlos. ✓
 - ☐ c) Ignorar las normas de tránsito.
 - ☐ d) Conducir agresivamente.
- ¿Cuál es la regla de los "tres segundos"?
 - ☒ a) Distancia mínima entre vehículos en segundos. ✓
 - ☐ b) Tiempo máximo para reaccionar ante un peligro.
 - ☐ c) Tiempo para cambiar de carril.
 - ☐ d) Tiempo para adelantar.
- ¿Qué debe hacer un conductor al enfrentarse a condiciones climáticas adversas (lluvia, niebla)?
 - ☐ a) Aumentar la velocidad.
 - ☒ b) Disminuir la velocidad y aumentar la distancia de seguridad. ✓
 - ☐ c) Apagar las luces.
 - ☐ d) Ignorar las condiciones.
- ¿Qué es el punto ciego de un vehículo?
 - ☐ a) La zona visible por los espejos retrovisores.

| | | | |
|---|---------------------------------|---------|--------------------|
|  | PROCESO SG-SST | Código | P-SIG-PESV-FOR -09 |
| | | Versión | 02 |
| | PRUEBA TEORICA PARA CONDUCTORES | Fecha | 12/01/2025 |

- ☒ b) La zona no visible por los espejos retrovisores.
☐ c) La zona iluminada por los faros.
☐ d) La zona de máxima visibilidad.
5. ¿Qué significa el término "aquaplaning"?
- ☒ a) Deslizamiento del vehículo sobre una capa de agua.
☐ b) Exceso de velocidad en curvas.
☐ c) Fallo en el sistema de frenos.
☐ d) Desgaste excesivo de neumáticos.
6. ¿Qué es el manejo preventivo?
- ☐ a) Conducir a la defensiva.
☒ b) Conducir anticipando los peligros.
☐ c) Conducir a alta velocidad.
☐ d) Conducir sin respetar las normas.
7. ¿Qué indica el nivel bajo de líquido de frenos?
- ☐ a) Problemas con la dirección.
☒ b) Problemas con el sistema de frenado.
☐ c) Problemas con el motor.
☐ d) Problemas con la suspensión.
8. ¿Qué función cumple el aceite del motor?
- ☐ a) Refrigerar el motor.
☒ b) Lubricar las piezas del motor.
☐ c) Limpiar el parabrisas.
☐ d) Inflar los neumáticos.
9. ¿Qué indica la luz de advertencia de la batería en el tablero?
- ☒ a) Problemas con la batería o el sistema de carga.
☐ b) Problemas con el combustible.
☐ c) Problemas con la dirección.
☐ d) Problemas con los frenos.
10. ¿Qué debe revisar un conductor antes de iniciar un viaje?
- ☒ a) Niveles de líquidos, neumáticos, luces y frenos.

| | | | |
|---|---------------------------------|---------|--------------------|
|  | PROCESO SG-SST | Código | P-SIG-PESV-FOR -09 |
| | | Versión | 02 |
| | PRUEBA TEORICA PARA CONDUCTORES | Fecha | 12/01/2025 |

- ☐ b) Solo el nivel de combustible.
- ☐ c) Solo las luces.
- ☐ d) Solo los neumáticos.

11. ¿Cuál es la función del líquido refrigerante?

- ☐ a) Lubricar el motor.
- ☒ b) Mantener la temperatura del motor.
- ☐ c) Limpiar el parabrisas.
- ☐ d) Inflar los neumáticos.

12. ¿Qué indica el humo azul en el escape?

- ☐ a) Problemas con el sistema de escape.
- ☒ b) Quema de aceite en el motor.
- ☐ c) Problemas con el sistema de frenos.
- ☐ d) Problemas con el combustible.

13. ¿Qué indica una señal de "PARE"?

- ☐ a) Ceder el paso.
- ☒ b) Detener completamente el vehículo.
- ☐ c) Reducir la velocidad.
- ☐ d) Continuar con precaución.


14. ¿Qué indica una línea amarilla continua en la vía?

- ☐ a) Se permite adelantar.
- ☒ b) No se permite adelantar.
- ☐ c) Indica zona de estacionamiento.
- ☐ d) Indica cambio de carril.

15. ¿Qué significa una señal de tránsito con un peatón cruzando una cebrá?

- ☐ a) Zona peatonal.
- ☐ b) Cruce peatonal.
- ☐ c) Semáforo peatonal.
- ☒ d) Todas las anteriores.

16. ¿Qué indica la señal de tránsito con un vehículo derrapando?

| | | | |
|---|---------------------------------|---------|--------------------|
|  | PROCESO SG-SST | Código | P-SIG-PESV-FOR -09 |
| | | Versión | 02 |
| | PRUEBA TEORICA PARA CONDUCTORES | Fecha | 12/01/2025 |

- ☐ a) Curva peligrosa.
- ☒ b) Calzada resbaladiza.
- ☐ c) Derrumbe.
- ☐ d) Todas las anteriores.

17. ¿Qué indica una señal de tránsito con un semáforo en amarillo intermitente?

- ☒ a) Pare.
- ☐ b) Ceda el paso.
- ☐ c) Peligro.
- ☐ d) Disminuir la velocidad y continuar con precaución.

18. ¿Que indica una señal de tránsito con una bicicleta dentro de un triángulo rojo?

- ☐ a) carril exclusivo de bicicletas.
- ☐ b) paso de bicicletas.
- ☒ c) peligro por paso de bicicletas.
- ☐ d) zona de ciclovía.

19. ¿Cuál es el límite de velocidad en zonas escolares en Colombia?

- ☒ a) 30 km/h.
- ☐ b) 50 km/h.
- ☐ c) 60 km/h.
- ☐ d) 80 km/h.

20. ¿Qué tipo de seguro es obligatorio para todos los vehículos en Colombia?


- ☒ a) Seguro de responsabilidad civil extracontractual (RCE).
- ☐ b) Seguro todo riesgo.
- ☐ c) Seguro de vida.
- ☐ d) Seguro de asistencia en viaje.

21. ¿Cuál es la sanción por conducir bajo los efectos del alcohol en Colombia?

- ☐ a) Multa económica.
- ☐ b) Suspensión de la licencia.
- ☐ c) Retención del vehículo.
- ☒ d) Todas las anteriores.

22. ¿Cuál es la sanción por no utilizar el cinturón de seguridad en Colombia?

- ☒ a) Multa económica.

| | | | |
|---|---------------------------------|---------|--------------------|
|  | PROCESO SG-SST | Código | P-SIG-PESV-FOR -09 |
| | | Versión | 02 |
| | PRUEBA TEORICA PARA CONDUCTORES | Fecha | 12/01/2025 |

- ☐ b) Inmovilización del vehículo.
- ☐ c) Suspensión de la licencia.
- ☐ d) Ninguna.



23. ¿Cuál es la edad mínima para obtener la licencia de conducción en Colombia?

- ☒ a) 16 años.
- ☐ b) 17 años.
- ☐ c) 18 años.
- ☐ d) 21 años.



24. ¿Qué documento es obligatorio portar en el vehículo?

- ☐ a) Licencia de conducción.
- ☐ b) Seguro obligatorio (SOAT).
- ☐ c) Tarjeta de propiedad.
- ☒ d) Todas las anteriores.



25. ¿Qué significa la sigla SOAT?

- ☐ a) Sistema obligatorio de asistencia técnica.
- ☒ b) Seguro obligatorio de accidentes de tránsito.
- ☐ c) Servicio operativo de atención terrestre.
- ☐ d) Sistema operativo de atención total.



26. ¿Cuál de las siguientes señales es una señal de tránsito vertical reglamentaria?



A



~~B~~



C



10-11-68

10-11-68

10-11-68

10-11-68

10-11-68

10-11-68

10-11-68

10-11-68

10-11-68

10-11-68

10-11-68

10-11-68

