


PROCESO SG-SST			
Versión: 2	PRUEBA TEORICA PARA CONDUCTORES		
Fecha elaboración: 21/02/2023			
Fecha aprobación: 21/02/2023	Documento elaborado por: Coordinadora SG-SST	Aprobado por: Comité de Calidad	
Vigencia a partir de: 21/02/2023			

TALLER MANEJO

Ingreso _____ Seguimiento _____

Anual _____

Nombre: Julian Andres Ramirez L.

Identificación No.: 1113620032 Fecha: 31/07/23 Ciudad: Palmira

TEMA	MANEJO
CALIFICACIÓN	23
PUNTAJE TOTAL 85%	Aprobó Aprobado

Referente de Calificación

TEMA	MANEJO
PUNTAJE APROBADO	27


EN LAS SIGUIENTES PREGUNTAS MARCA CON UNA X LA RESPUESTA ADECUADA

1. Líneas discontinuas blancas en el pavimento quieren decir...

- A-Que se permite cruzar la línea con precaución
- B-Que el carril izquierdo es para ciclistas y motoristas
- C-Que el tráfico se mueve en ambas direcciones
- D-Que no se permite cambiar de carril
- ☒ E-Puedes cambiar de carril cuando sea seguro hacerlo

2. Si ves esta señal mientras manejas, debes:

- ☒ A-Reducir la velocidad de tu vehículo
- B-Incrementar la velocidad de tu vehículo
- C-Dar vuelta a la izquierda y después a la derecha

PROCESO SG-SST			
Versión: 2	PRUEBA TEORICA PARA CONDUCTORES		
Fecha elaboración: 21/02/2023			
Fecha aprobación: 21/02/2023	Documento elaborado por: Coordinadora SG-SST	Aprobado por: Comité de Calidad	
Vigencia a partir de: 21/02/2023			


- B-Vuelta en U permitida
C-Curva cerrada a la izquierda más adelante
D-Giro hacia la izquierda obligatorio



7. Si estás en una intersección y escuchas la sirena de algún vehículo de emergencia, debes...
A-No avanzar y detenerte de inmediato en la intersección
B-Avanzar lentamente y detenerte en la intersección ✓
X C-Continuar a través de la intersección y detenerte
D-Continuar a través de la intersección y avanzar lentamente
8. Si el conductor frente a ti está señalando con su mano y brazo apuntando hacia arriba, esto significa que el conductor quiere...
X A-Doblar a la derecha ✓
B-Doblar a la izquierda
C-Disminuir su velocidad Detenerse
9. Esta señal representa...
X A-Zona escolar ✓
B-Zona de juegos
C-Paso de peatones
D-Una biblioteca



10. Esta señal te advierte de...
A-Un camino resbaladizo
X B-Un camino sinuoso ✓
C-Un camino cuesta arriba

PROCESO SG-SST			
Versión: 2	PRUEBA TEORICA PARA CONDUCTORES		
Fecha elaboración: 21/02/2023			
Fecha aprobación: 21/02/2023	Documento elaborado por: Coordinadora SG-SST	Aprobado por: Comité de Calidad	
Vigencia a partir de: 21/02/2023			


- ☒ C-Fin de carretera dividida
☐ D-Fin de carril de doble sentido



14. Si quieres dar vuelta a la derecha en una intersección con esta señal
- ☐ A-No tienes permitido dar vuelta a la derecha en esta intersección
☐ B-Lo puedes hacer mientras la carretera esté despejada
☐ C-Debes detenerte y continuar con precaución
☒ D-Debes esperar a la luz verde



15. este letrero azul indica...
- ☒ A-Un hospital adelante
☐ B-Una carretera interestatal adelante

PROCESO SG-SST			
Versión: 2	PRUEBA TEORICA PARA CONDUCTORES		
Fecha elaboración: 21/02/2023			
Fecha aprobación: 21/02/2023	Documento elaborado por: Coordinadora SG-SST	Aprobado por: Comité de Calidad	
Vigencia a partir de: 21/02/2023			




19. Si ves dos líneas amarillas sólidas en tu camino, esto significa que...

- A-Rebasar está permitido en cualquier momento
- ☒ B-Rebasar está prohibido
- C-Rebasar está permitido durante el día
- D-Rebasar está permitido durante la noche

20. Las señales amarillas y con forma de diamante, con letras o símbolos negros...

- A-Son señales de detención
- B-Son señales de destino
- ☒ C-Son señales de advertencia
- D-Son señales de servicio

PROCESO SG-SST			
Versión: 2	PRUEBA TEORICA PARA CONDUCTORES		
Fecha elaboración: 21/02/2023			
Fecha aprobación: 21/02/2023	Documento elaborado por: Coordinadora SG-SST	Aprobado por: Comité de Calidad	
Vigencia a partir de: 21/02/2023			

A

B

C

XD



24.Cuál de las siguientes señales indica al conductor que la vía está cerrada



25. ¿Cuál de las siguientes señales es una señal de tránsito vertical reglamentaria?



A



B




XC



26. Cuando usted ve la siguiente señal usted debe:



PROCESO SG-SST				
Versión: 2	PRUEBA TEORICA PARA CONDUCTORES			
Fecha elaboración: 21/02/2023				
Fecha aprobación: 21/02/2023	Documento elaborado por: Coordinadora SG-SST		Aprobado por: Comité de Calidad	
Vigencia a partir de: 21/02/2023				

Prohibido adelantar




no pase




COMPETENCIA DE MECANICA GENERAL

TEMA	MECÁNICA GENERAL
CALIFICACIÓN	70
PUNTAJE TOTAL 100%	Aprobó Aprobado

PROCESO SG-SST			
Versión: 2	PRUEBA TEORICA PARA CONDUCTORES		
Fecha elaboración: 21/02/2023			
Fecha aprobación: 21/02/2023	Documento elaborado por: Coordinadora SG-SST	Aprobado por: Comité de Calidad	
Vigencia a partir de: 21/02/2023			

- ☐ A. Marque una respuesta
☐ B. Refinar el combustible
☐ C. Realizar la explosión en el motor
☒ D. Realizar la mezcla exacta del aire con el combustible
5. La función del filtro de aire es:
- ☐ A. Separar el aire del aceite
☐ B. Separar el aire del combustible
☒ C. Retener las partículas contenidas en el aire, antes de entrar al carburador
6. Si durante la marcha del vehículo (carro) se desconecta un cable de bujía:
- ☐ A. El motor no funciona
☒ B. El motor pierde fuerza
☐ C. El motor gira a la mitad de las revoluciones normales
- 7.Cuál de los siguientes líquidos, al llegar a un nivel bajo puede ocasionar accidentes
- ☐ A. Líquido anticoagulante
☒ B. Líquido de frenos
☐ C. Líquido de batería
☐ D. Líquido refrigerante
8. El alto consumo de combustible se debe a:
- ☐ A. Fallas en el sistema de dirección
☐ B. Aceleraciones excesivas en las curvas
☒ C. Frecuentes frenadas y aceleraciones
☐ D. Todas las anteriores
9. ¿cómo nota un conductor que hay fuga en el líquido de frenos?
- ☒ A. El pedal del freno llega hasta el fondo
☐ B. El pedal del freno está muy duro

PROCESO SG-SST			
Versión: 2	PRUEBA TEORICA PARA CONDUCTORES		
Fecha elaboración: 21/02/2023			
Fecha aprobación: 21/02/2023	Documento elaborado por: Coordinadora SG-SST	Aprobado por: Comité de Calidad	
Vigencia a partir de: 21/02/2023			

COMPETENCIA NORMATIVIDAD, COMPORTAMIENTO VIAL Y SEGURIDAD VIAL

TEMA	NORMATIVIDAD	COMPORTAMIENTO O VIAL	SEGURIDAD VIAL
CALIFICACIÓN	75 % 6	54 % 6	80 % 12
PUNTAJE TOTAL	70 % 24	Próxima evaluación	Reprobó Aprobado

Referente de calificación

TEMA	NORMATIVIDAD	COMPORTAMIENTO VIAL	SEGURIDAD VIAL
PUNTAJE APROBADO	8	11	15

EN LAS SIGUIENTES PREGUNTAS MARCA CON UNA X LA RESPUESTA ADECUADA

Seguridad Vial


1. Intersección es

- A. El área común de calzadas que no se cruzan o divergen
- ☒ B. El área común de las calzadas que cruzan o convergen
- C. Ninguna de las anteriores


2. No se debe adelantar en ninguna circunstancia a otro vehículo en:

- A. En intersecciones
- B. En los tramos de la vía donde exista línea separadores central continua o prohibición de adelantamiento
- C. En las vías de doble carril
- ☒ D. En curvas o pendientes

PROCESO SG-SST		
Versión: 2	PRUEBA TEORICA PARA CONDUCTORES	
Fecha elaboración: 21/02/2023		
Fecha aprobación: 21/02/2023	Documento elaborado por: Coordinadora SG-SST	Aprobado por: Comité de Calidad
Vigencia a partir de: 21/02/2023		



- ☒ A. La izquierda
☐ B. La derecha
☐ C. Cualquier pista
7. ¿qué debe usted hacer al ser adelantado por otro vehículo?:
- ☐ A. Encender las luces bajas
☐ B. Frenar bruscamente
☒ C. Mantener su velocidad o disminuirla para permitir el adelantamiento
8. Al acercarse a una señal "zona de escuela", ¿qué debe hacer?
- ☒ A. Disminuir la velocidad
☐ B. Tocar la bocina
☐ C. Aumentar la velocidad
9. Cómo se debe estacionar un vehículo cuando la vía es en subida:
- ☒ A. Con las ruedas delanteras hacia la cuneta
☐ B. Con las ruedas traseras hacia la calzada
☐ C. Con las ruedas delanteras hacia la calzada
10. ¿qué significa doble línea amarilla continua en el centro de una vía?
- ☐ A. Se usa para dividir los sentidos de circulación
☐ B. Que el asfalto está en mal estado
☒ C. Para ambos sentidos de circulación, que no debe ser traspasada ni se puede circular sobre ella
☐ D. Que solo pueden circular vehículos particulares
11. cuando hay involucradas víctimas en un accidente de tránsito, ¿a cuál autoridad le corresponde conocer el siniestro
- ☐ A. El Ministerio de Transporte
☒ B. La autoridad de tránsito
☐ C. Las aseguradoras
☐ D. Las autoridades judiciales
☐ E. b y d son correctas
12. Líneas discontinuas en el pavimento quiere decir:

	PROCESO SG-SST	
	PRUEBA TEORICA PARA CONDUCTORES	Version: 2
	Documento elaborado por: Coordinadora SG-SST	Fecha elaboración: 21/02/2023
	Aprobado por: Comité de Calidad	Fecha aprobación: 21/02/2023
Vigencia a partir de: 21/02/2023		

D. Hacer ver a los demás sus errores al conducir

22. Que Debe Hacer Usted Cuando Desea Cambiarse De Carril:

- +A. Fijarse en el tránsito que le va siguiendo
 - B. Frenar fuerte antes de cambiarse
 - C. Anunciar oportunamente su intención de cambiarse a través de la direccional
 - D. Acelerar lo más rápido que pueda
23. Como Señaliza Usted Con El Brazo Cuando Va A Girar Hacia La Izquierda:

- A. Saca el brazo izquierdo y lo extiende hacia arriba
- X B. Saca el brazo izquierdo formando escuadra hacia abajo
- C. Saca el brazo izquierdo y lo extiende horizontalmente
- D. Saca el brazo izquierdo formando escuadra con la mano hacia arriba

24. Usted llega a una intersección regulada por semáforo que se encuentra en rojo y, al mismo tiempo, un policía o agente de tránsito le indica que avance, ¿qué debe hacer usted?


- A. Detenerse, porque la luz roja se lo está indicando
- X B. Avanzar, porque las instrucciones de un agente, prevalecen sobre las señales del tránsito
- C. Avanzar, sólo si detrás suyo no vienen otros vehículos
- D. Avanzar, sólo si está seguro que la luz roja está próxima a cambiar

25. Qué debe hacer para evitar colisiones en carretera:

- A. Permanecer en el lado izquierdo de tu carril mientras manejas
- X B. Mantener una distancia de seguimiento suficiente
- C. Cambiar de carril frecuentemente
- D. Seguir a los otros vehículos de cerca

26. ¿en una carretera de doble sentido con un carril central especial, los conductores de cualquier dirección pueden usar este carril para?

- A. Dar vuelta a la derecha

PROCESO SG-SST			
Versión: 2	PRUEBA TEORICA PARA CONDUCTORES		
Fecha elaboración: 21/02/2023			
Fecha aprobación: 21/02/2023	Documento elaborado por: Coordinadora SG-SST	Aprobado por: Comité de Calidad	
Vigencia a partir de: 21/02/2023			

- ☐ B. Dar vuelta en U
☒ C. Rebasar
☐ D. Dar vuelta a la izquierda

Normatividad

27. La velocidad máxima permitida en carretera es:

- ☐ A. 105 km/ hr.
☐ B. 100 km/ hr.
☒ C. 90 km/ hr.

28. ¿qué vigencia tiene el seguro obligatorio soat?

- ☐ A. Dos (2) años para los vehículos de servicio público
☐ B. Tres (3) años para los vehículos de servicio particular
☒ C. Un (1) año para todos los vehículos que circulan en las vías nacionales

29. Las señales verticales se clasifican en:

- ☒ A. Reglamentarias, informativas y preventivas
☐ B. Longitudinales y transversales
☐ C. Blancas, amarillas y rojas

30. En ocasiones la autoridad de tránsito podrá retirar con grúa vehículos de las calles:

- ☐ A. Cuando el vehículo se encuentre estacionado en zonas prohibidas y su conductor no se encuentra cerca del vehículo
☐ B. Cuando el vehículo se encuentra abandonado con áreas destinadas al espacio público y su conductor no se encuentra cerca al vehículo
☐ C. Cuando se encuentra el vehículo bloqueando una vía principal y su conductor no está cerca del vehículo
☒ D. Todas las anteriores

31. ¿Cuál es la distancia que debe mantener un conductor con respecto al vehículo de adelante?

- ☐ A. Treinta (30) metros