


PROCESO SG-SST			
Versión: 2	PRUEBA TEORICA PARA CONDUCTORES		
Fecha elaboración: 21/02/2023			
Fecha aprobación: 21/02/2023	Documento elaborado por: Coordinadora SG-SST	Aprobado por: Comité de Calidad	
Vigencia a partir de: 21/02/2023			

## TALLER MANEJO

Ingreso \_\_\_\_\_

Seguimiento \_\_\_\_\_

Anual \_\_\_\_\_

Nombre: Julio Cesar Ramirez Calcedo

Identificación No.: 16 260 238 Fecha: 31/07/23 Ciudad: Palmira

TEMA	MANEJO
CALIFICACIÓN	23
PUNTAJE TOTAL 85%	Aprobó Aprobado

### Referente de Calificación

TEMA	MANEJO
PUNTAJE APROBADO	27


EN LAS SIGUIENTES PREGUNTAS MARCA CON UNA X LA RESPUESTA ADECUADA

1. Líneas discontinuas blancas en el pavimento quieren decir...

- A-Que se permite cruzar la línea con precaución
- B-Que el carril izquierdo es para ciclistas y motoristas
- C-Que el tráfico se mueve en ambas direcciones
- D-Que no se permite cambiar de carril
- ☒ E-Puedes cambiar de carril cuando sea seguro hacerlo

2. Si ves esta señal mientras manejas, debes:

- ☒ A-Reducir la velocidad de tu vehículo
- B-Incrementar la velocidad de tu vehículo
- C-Dar vuelta a la izquierda y después a la derecha

PROCESO SG-SST			
Versión: 2	PRUEBA TEORICA PARA CONDUCTORES		
Fecha elaboración: 21/02/2023			
Fecha aprobación: 21/02/2023	Documento elaborado por: Coordinadora SG-SST	Aprobado por: Comité de Calidad	
Vigencia a partir de: 21/02/2023			


- B-Vuelta en U permitida  
C-Curva cerrada a la izquierda más adelante  
D-Giro hacia la izquierda obligatorio



7. Si estás en una intersección y escuchas la sirena de algún vehículo de emergencia, debes...  
A-No avanzar y detenerte de inmediato en la intersección  
B-Avanzar lentamente y detenerte en la intersección ✓  
X C-Continuar a través de la intersección y detenerte  
D-Continuar a través de la intersección y avanzar lentamente
8. Si el conductor frente a ti está señalando con su mano y brazo apuntando hacia arriba, esto significa que el conductor quiere...  
X A-Doblar a la derecha ✓  
B-Doblar a la izquierda  
C-Disminuir su velocidad Detenerse
9. Esta señal representa...  
X A-Zona escolar ✓  
B-Zona de juegos  
C-Paso de peatones  
D-Una biblioteca



10. Esta señal te advierte de...  
A-Un camino resbaladizo  
X B-Un camino sinuoso ✓  
C-Un camino cuesta arriba

PROCESO SG-SST			
Versión: 2	PRUEBA TEORICA PARA CONDUCTORES		
Fecha elaboración: 21/02/2023			
Fecha aprobación: 21/02/2023	Documento elaborado por: Coordinadora SG-SST	Aprobado por: Comité de Calidad	
Vigencia a partir de: 21/02/2023			


- ☒ C-Fin de carretera dividida  
☐ D-Fin de carril de doble sentido



14. Si quieres dar vuelta a la derecha en una intersección con esta señal
- ☐ A-No tienes permitido dar vuelta a la derecha en esta intersección  
☐ B-Lo puedes hacer mientras la carretera esté despejada  
☐ C-Debes detenerte y continuar con precaución  
☒ D-Debes esperar a la luz verde



15. este letrero azul indica...
- ☒ A-Un hospital adelante  
☐ B-Una carretera interestatal adelante

PROCESO SG-SST			
Versión: 2	PRUEBA TEORICA PARA CONDUCTORES		
Fecha elaboración: 21/02/2023			
Fecha aprobación: 21/02/2023	Documento elaborado por: Coordinadora SG-SST	Aprobado por: Comité de Calidad	
Vigencia a partir de: 21/02/2023			




19. Si ves dos líneas amarillas sólidas en tu camino, esto significa que...

- A-Rebasar está permitido en cualquier momento
- ☒ B-Rebasar está prohibido
- C-Rebasar está permitido durante el día
- D-Rebasar está permitido durante la noche

20. Las señales amarillas y con forma de diamante, con letras o símbolos negros...

- A-Son señales de detención
- B-Son señales de destino
- ☒ C-Son señales de advertencia
- D-Son señales de servicio

PROCESO SG-SST			
Versión: 2	PRUEBA TEORICA PARA CONDUCTORES		
Fecha elaboración: 21/02/2023			
Fecha aprobación: 21/02/2023	Documento elaborado por: Coordinadora SG-SST	Aprobado por: Comité de Calidad	
Vigencia a partir de: 21/02/2023			

A

B

C

X D

24.Cuál de las siguientes señales indica al conductor que la vía está cerrada



25. ¿Cuál de las siguientes señales es una señal de tránsito vertical reglamentaria?



A



B




X C



26. Cuando usted ve la siguiente señal usted debe:



PROCESO SG-SST			
Versión: 2	PRUEBA TEORICA PARA CONDUCTORES		
Fecha elaboración: 21/02/2023			
Fecha aprobación: 21/02/2023	Documento elaborado por: Coordinadora SG-SST	Aprobado por: Comité de Calidad	
Vigencia a partir de: 21/02/2023			




Prohibido adelantar




no pase

## COMPETENCIA DE MECANICA GENERAL

TEMA	MECÁNICA GENERAL
CALIFICACIÓN	70
PUNTAJE TOTAL 100%	Aprobó Aprobado

PROCESO SG-SST			
Versión: 2	PRUEBA TEORICA PARA CONDUCTORES		
Fecha elaboración: 21/02/2023			
Fecha aprobación: 21/02/2023	Documento elaborado por: Coordinadora SG-SST	Aprobado por: Comité de Calidad	
Vigencia a partir de: 21/02/2023			

- A. Marque una respuesta  
 B. Refinar el combustible ✓  
 C. Realizar la explosión en el motor  
 X D. Realizar la mezcla exacta del aire con el combustible
5. La función del filtro de aire es:
- A. Separar el aire del aceite ✓  
 B. Separar el aire del combustible  
 X C. Retener las partículas contenidas en el aire, antes de entrar al carburador
6. Si durante la marcha del vehículo (carro) se desconecta un cable de bujía:
- A. El motor no funciona ✓  
 X B. El motor pierde fuerza  
 C. El motor gira a la mitad de las revoluciones normales
- 7.Cuál de los siguientes líquidos, al llegar a un nivel bajo puede ocasionar accidentes
- A. Líquido anticoagulante  
 X B. Líquido de frenos ✓  
 C. Líquido de batería  
 D. Líquido refrigerante
8. El alto consumo de combustible se debe a:
- A. Fallas en el sistema de dirección ✓  
 B. Aceleraciones excesivas en las curvas  
 X C. Frecuentes frenadas y aceleraciones  
 D. Todas las anteriores
9. ¿cómo nota un conductor que hay fuga en el líquido de frenos?
- X A. El pedal del freno llega hasta el fondo ✓  
 B. El pedal del freno está muy duro

PROCESO SG-SST			
Versión: 2	PRUEBA TEORICA PARA CONDUCTORES		
Fecha elaboración: 21/02/2023			
Fecha aprobación: 21/02/2023	Documento elaborado por: Coordinadora SG-SST	Aprobado por: Comité de Calidad	
Vigencia a partir de: 21/02/2023			

## COMPETENCIA NORMATIVIDAD, COMPORTAMIENTO VIAL Y SEGURIDAD VIAL

TEMA	NORMATIVIDAD	COMPORTAMIENTO O VIAL	SEGURIDAD VIAL
CALIFICACIÓN	62% 3	55% 6	80% 12
PUNTAJE TOTAL	68% 23	Próxima evaluación	Reprobó Aprobado

### Referente de calificación

TEMA	NORMATIVIDAD	COMPORTAMIENTO VIAL	SEGURIDAD VIAL
PUNTAJE APROBADO	8	11	15

EN LAS SIGUIENTES PREGUNTAS MARCA CON UNA X LA RESPUESTA ADECUADA


### Seguridad Vial

#### 1. Intersección es

- A. El área común de calzadas que no se cruzan o divergen
- X B. El área común de las calzadas que cruzan o convergen
- C. Ninguna de las anteriores

#### 2. No se debe adelantar en ninguna circunstancia a otro vehículo en:

- A. En intersecciones
- B. En los tramos de la vía donde exista línea separadores central continua o prohibición de adelantamiento
- C. En las vías de doble carril
- X D. En curvas o pendientes

PROCESO SG-SST			
Versión: 2	PRUEBA TEORICA PARA CONDUCTORES		
Fecha elaboración: 21/02/2023			
Fecha aprobación: 21/02/2023	Documento elaborado por: Coordinadora SG-SST	Aprobado por: Comité de Calidad	
Vigencia a partir de: 21/02/2023			

- ☒ A. La izquierda  
☐ B. La derecha  
☐ C. Cualquier pista

7. ¿qué debe usted hacer al ser adelantado por otro vehículo?:

- ☐ A. Encender las luces bajas  
☐ B. Frenar bruscamente  
☒ C. Mantener su velocidad o disminuirla para permitir el adelantamiento

8. Al acercarse a una señal "zona de escuela", ¿qué debe hacer?

- ☒ A. Disminuir la velocidad  
☐ B. Tocar la bocina  
☐ C. Aumentar la velocidad

9. Cómo se debe estacionar un vehículo cuando la vía es en subida:

- ☒ A. Con las ruedas delanteras hacia la cuneta  
☐ B. Con las ruedas traseras hacia la calzada  
☐ C. Con las ruedas delanteras hacia la calzada


10. ¿qué significa doble línea amarilla continua en el centro de una vía?

- ☐ A. Se usa para dividir los sentidos de circulación  
☐ B. Que el asfalto está en mal estado  
☒ C. Para ambos sentidos de circulación, que no debe ser traspasada ni se puede circular sobre ella  
☐ D. Que solo pueden circular vehículos particulares

11. cuando hay involucradas víctimas en un accidente de tránsito, ¿a cuál autoridad le corresponde conocer el siniestro

- ☐ A. El Ministerio de Transporte  
☒ B. La autoridad de tránsito  
☐ C. Las aseguradoras  
☐ D. Las autoridades judiciales  
☐ E. b y d son correctas

12. Líneas discontinuas en el pavimento quiere decir:

PROCESO SG-SST			
Versión: 2	PRUEBA TEORICA PARA CONDUCTORES		
Fecha elaboración: 21/02/2023			
Fecha aprobación: 21/02/2023	Documento elaborado por: Coordinadora SG-SST	Aprobado por: Comité de Calidad	
Vigencia a partir de: 21/02/2023			

- ☒ B. Detenerse y permitir el paso de los vehículos que circulan por la otra vía  
☐ C. Encender luces altas

17. Cuando se aproxima un vehículo de emergencia en el mismo sentido, el conductor deberá:

- ☐ A. Acelerar y circular delante del vehículo de emergencia  
☐ B. Frenar, bruscamente  
☒ C. Conducir el vehículo lo más a la izquierda o a la derecha posible, con el objeto de despejar la vía

18. ¿Dónde Puede Efectuar El Viraje En " U" Cuando Circula En Su Vehículo?

- ☐ A. En pasos peatonales  
☐ B. A mitad de cuadra, si no está prohibido  
☒ C. En la intersección

19. Que maniobra debe realizar a la circular por una vía de dos sentidos si va a girar a la izquierda

- ☐ A. Situarse al costado derecho de la calzada  
☐ B. Situarse progresivamente al costado derecho del eje de la calzada  
☒ C. Situarse al costado izquierdo de la calzada


20. Si en un caso de emergencia un conductor debe hacer uso de las señales corporales para cruzar a la derecha deberá:

- ☐ A. Sacar el brazo izquierdo y extenderlo horizontalmente  
☒ B. Sacar el brazo izquierdo formando escuadra con la mano hacia arriba  
☐ C. Sacar el brazo izquierdo formando escuadra con la mano hacia abajo

21. ¿qué se entiende por conducir a la defensiva?

- ☐ A. Hacer valer sus derechos en todo momento  
☐ B. Frenar antes de cada cruce  
☒ C. Tomar en cuenta los posibles errores de los demás

PROCESO SG-SST		
Versión: 2	PRUEBA TEORICA PARA CONDUCTORES	
Fecha elaboración: 21/02/2023		
Fecha aprobación: 21/02/2023	Documento elaborado por:	Aprobado por:
Vigencia a partir de: 21/02/2023	Coordinadora SG-SST	Comité de Calidad



- B. Dar vuelta en U
- ☒ C. Rebasar
- D. Dar vuelta a la izquierda

### Normatividad

27. La velocidad máxima permitida en carretera es:

- A. 105 km/ hr.
- B. 100 km/ hr.
- ☒ C. 90 km/ hr.

28. ¿qué vigencia tiene el seguro obligatorio soat?

- A. Dos (2) años para los vehículos de servicio público
- B. Tres (3) años para los vehículos de servicio particular
- C. Un (1) año para todos los vehículos que circulan en las vías nacionales

29. Las señales verticales se clasifican en:

- ☒ A. Reglamentarias, informativas y preventivas
- B. Longitudinales y transversales
- C. Blancas, amarillas y rojas

30. En ocasiones la autoridad de tránsito podrá retirar con grúa vehículos de las calles:

- A. Cuando el vehículo se encuentre estacionado en zonas prohibidas y su conductor no se encuentra cerca del vehículo
- B. Cuando el vehículo se encuentra abandonado con áreas destinadas al espacio público y su conductor no se encuentra cerca al vehículo
- C. Cuando se encuentra el vehículo bloqueando una vía principal y su conductor no está cerca del vehículo
- ☒ D. Todas las anteriores

31. ¿Cuál es la distancia que debe mantener un conductor con respecto al vehículo de adelante?

- A. Treinta (30) metros