


| | | |
|----------------------------------|-----------------------------------|---|
| Código: E-TH-003 | PROCESO TH |  |
| Versión: 01 | EVALUACIÓN TEORICA CONDUCTORES | |
| Fecha elaboración: 14/06/2022 | | |
| Fecha aprobación: 14/06/2022 | Documento elaborado por: | |
| Vigencia a partir de: 14/06/2022 | Coordinadora de Talento Humano | |

Ingreso X Seguimiento _____

Anual _____

Nombre: José Luis Martínez

Identificación No.: 1628200 Fecha: 03.10.22 Ciudad: CMJ

| TEMA | MECÁNICA GENERAL |
|---------------|-------------------------|
| CALIFICACIÓN | <u>6. 60%</u> |
| PUNTAJE TOTAL | Aprobó <u>Aprobó</u> |

EN LAS SIGUIENTES PREGUNTAS MARCA CON UNA X LA RESPUESTA ADECUADA

Mecánica General

1. El nombre que recibe el marcador de revoluciones del motor es:

- A. Manómetro
- ☒ B. Tacómetro ✓
- C. Pluviómetro


2. La función del embrague es:

- A. Frenar el motor del vehículo ✓
- B. Darle fuerza al motor del vehículo
- ☒ C. Conectar y desconectar "la fuerza" del motor a la caja de velocidades


3. la función del filtro de aceite es:

- A. Marque una respuesta
- B. Restituir la viscosidad del aceite
- C. Retener las partículas gruesas del aceite
- ☒ D. Separar el combustible del aceite X

4. La función del carburador es:

| | | |
|----------------------------------|--|---|
| Código: E-TH-003 | PROCESO TH |  |
| Versión: 01 | EVALUACIÓN TEORICA CONDUCTORES | |
| Fecha elaboración: 14/06/2022 | Documento elaborado por: Coordinadora de Talento Humano | |
| Fecha aprobación: 14/06/2022 | | |
| Vigencia a partir de: 14/06/2022 | | |


- A. Marque una respuesta
- B. Refinar el combustible ✓
- C. Realizar la explosión en el motor
- ☒ D. Realizar la mezcla exacta del aire con el combustible
5. La función del filtro de aire es:
- A. Separar el aire del aceite ✓
- B. Separar el aire del combustible
- ☒ C. Retener las partículas contenidas en el aire, antes de entrar al carburador
6. Si durante la marcha del vehículo (carro) se desconecta un cable de bujía:
- A. El motor no funciona X
- B. El motor pierde fuerza
- ☒ C. El motor gira a la mitad de las revoluciones normales
- 7.Cuál de los siguientes líquidos, al llegar a un nivel bajo puede ocasionar accidentes
- A. Líquido anticoagulante
- ☒ B. Líquido de frenos ✓
- C. Líquido de batería
- D. Líquido refrigerante
8. El alto consumo de combustible se debe a:
- A. Fallas en el sistema de dirección
- B. Aceleraciones excesivas en las curvas X
- C. Frecuentes frenadas y aceleraciones
- ☒ D. Todas las anteriores
9. ¿cómo nota un conductor que hay fuga en el líquido de frenos?
- ☒ A. El pedal del freno llega hasta el fondo
- B. El pedal del freno está muy duro ✓
- C. El pedal del freno tiene poco recorrido
- D. El pedal del freno oscila
10. El motor de un automóvil se puede sobrecalentar, entre otras cosas, por:

| | | |
|----------------------------------|--|---|
| Código: E-TH-003 | PROCESO TH |  |
| Versión: 01 | EVALUACIÓN TEORICA CONDUCTORES | |
| Fecha elaboración: 14/06/2022 | Documento elaborado por: Coordinadora de Talento Humano | |
| Fecha aprobación: 14/06/2022 | | |
| Vigencia a partir de: 14/06/2022 | | |

- A. Insuficiente paso de agua caliente al radiador de calefacción
- B. Por no colocar aditivo al combustible
- C. Carga de batería baja
- ☒ D. Sistema de refrigeración obstruido

Referente Calificativo

| | |
|---------------------|---------------------|
| TEMA | MECÁNICA GENERAL |
| PUNTAJE APROBADO | 10 |

| | | |
|----------------------------------|-----------------------------------|---|
| Código: E-TH-003 | PROCESO TH |  |
| Versión: 01 | EVALUACIÓN TEORICA CONDUCTORES | |
| Fecha elaboración: 14/06/2022 | | |
| Fecha aprobación: 14/06/2022 | Documento elaborado por: | |
| Vigencia a partir de: 14/06/2022 | Coordinadora de Talento Humano | |

Ingreso X

Seguimiento _____

Anual _____

Nombre: Jose Luis Martinez

Identificación No.: 16.782500 Fecha: 03.10.22 Ciudad: CALI (VALLE)

| TEMA | NORMATIVIDAD | COMPORTAMIENTO O VIAL | SEGURIDAD VIAL |
|---------------|--------------|--------------------------------|----------------|
| CALIFICACIÓN | 3.371 | 7.641 | 11.731 |
| PUNTAJE TOTAL | 21.621 | Próxima evaluación aprobado | Reprobó |

EN LAS SIGUIENTES PREGUNTAS MARCA CON UNA X LA RESPUESTA ADECUADA

Seguridad Vial

1. Intersección es


- A. El área común de calzadas que no se cruzan o divergen
- ☒ B. El área común de las calzadas que cruzan o convergen
- C. Ninguna de las anteriores

2. No se debe adelantar en ninguna circunstancia a otro vehículo en:

- A. En intersecciones
- ☒ B. En los tramos de la vía donde exista línea separadores central continua o prohibición de adelantamiento
- C. En las vías de doble carril
- D. En curvas o pendientes

3. ¿qué información le proporciona la siguiente señal y como se clasifica?



| | | |
|----------------------------------|--|---|
| Código: E-TH-003 | PROCESO TH |  |
| Versión: 01 | EVALUACIÓN TEORICA CONDUCTORES | |
| Fecha elaboración: 14/06/2022 | Documento elaborado por: Coordinadora de Talento Humano | |
| Fecha aprobación: 14/06/2022 | | |
| Vigencia a partir de: 14/06/2022 | | |

- A. Servicio telefónico / Informativa
- B. Estación de servicios / reglamentaria
- ☒ C. Servicio mecánico / informativa

4. ¿qué información le proporciona la siguiente señal y como se clasifica?



- A. Solo tránsito liviano / preventiva
- B. Prohibido doble columna / informativa
- ☒ C. Prohibido adelantar o rebasar / Reglamentaria

5. ¿qué significa esta señal y como se clasifica?




- ☒ A. Más adelante incorporación de tránsito lateral derecho / preventiva
- B. Más adelante camino lateral / Informativa
- C. Más adelante empalmes contrarios consecutivos / preventiva

6. El adelantamiento se deberá hacer por:

- ☒ A. La izquierda
- B. La derecha
- C. Cualquier pista

7. ¿qué debe usted hacer al ser adelantado por otro vehículo?:

- A. Encender las luces bajas
- B. Frenar bruscamente
- ☒ C. Mantener su velocidad o disminuirla para permitir el adelantamiento

| | | |
|----------------------------------|--|---|
| Código: E-TH-003 | PROCESO TH |  |
| Versión: 01 | EVALUACIÓN TEORICA CONDUCTORES | |
| Fecha elaboración: 14/06/2022 | | |
| Fecha aprobación: 14/06/2022 | | |
| Vigencia a partir de: 14/06/2022 | Documento elaborado por: Coordinadora de Talento Humano | |

8. Al acercarse a una señal "zona de escuela", ¿qué debe hacer?

- ☒ A. Disminuir la velocidad ✓
- ☐ B. Tocar la bocina
- ☐ C. Aumentar la velocidad

9. Cómo se debe estacionar un vehículo cuando la vía es en subida:

- ☒ A. Con las ruedas delanteras hacia la cuneta
- ☐ B. Con las ruedas traseras hacia la calzada
- ☐ C. Con las ruedas delanteras hacia la calzada

10. ¿qué significa doble línea amarilla continua en el centro de una vía?

- ☐ A. Se usa para dividir los sentidos de circulación
- ☐ B. Que el asfalto está en mal estado
- ☒ C. Para ambos sentidos de circulación, que no debe ser traspasada ni se puede circular sobre ella ✓
- ☐ D. Que solo pueden circular vehículos particulares

11. cuando hay involucradas víctimas en un accidente de tránsito, ¿a cuál autoridad le corresponde conocer el siniestro

- ☐ A. El Ministerio de Transporte
- ☒ B. La autoridad de tránsito
- ☐ C. Las aseguradoras
- ☐ D. Las autoridades judiciales
- ☐ E. b y d son correctas


12. Líneas discontinuas en el pavimento quiere decir:

- ☐ A. Que se permite cruzar la línea con precaución
- ☐ B. Que el carril izquierdo es para ciclistas y motoristas
- ☐ C. Que el tráfico se mueve en ambas direcciones
- ☐ D. Que no se permite cambiar de carril
- ☒ E. Puedes cambiar de carril cuando sea seguro hacerlo. ✓

13. Cuando haya una línea amarilla sólida y una discontinua en carriles opuestos de tráfico, no debes rebasar

- ☐ A. Si la línea discontinua está de tu lado
- ☐ B. Si la línea sólida no está de tu lado
- ☒ C. Si la línea sólida está de tu lado ✓
- ☐ D. Ninguna de las anteriores

14. Cuando hay agua en el camino, debes reducir tu velocidad para evitar

| | | |
|----------------------------------|--|---|
| Código: E-TH-003 | PROCESO TH |  |
| Versión: 01 | EVALUACIÓN TEORICA CONDUCTORES | |
| Fecha elaboración: 14/06/2022 | Documento elaborado por: Coordinadora de Talento Humano | |
| Fecha aprobación: 14/06/2022 | | |
| Vigencia a partir de: 14/06/2022 | | |

- ☒ A. Desgastar las llantas
- ☐ B. Sobrecalear las llantas
- ☐ C. La tracción de las llantas con el camino
- ☐ D. Hidro planeación

15. ¿las señales amarillas y con forma de diamante, con letras o símbolos negros?

- ☐ A. Son señales de detención
- ☐ B. Son señales de destino
- ☒ C. Son señales de advertencia
- ☐ D. Son señales de servicio

Dispersivas

SP-36



PUENTE ANGOSTO

Comportamiento Vial

16. ¿un conductor al enfrentar un signo "pare" deberá?


- ☐ A. Proseguir su marcha
- ☒ B. Detenerse y permitir el paso de los vehículos que circulan por la otra vía
- ☐ C. Encender luces altas

17. Cuando se aproxima un vehículo de emergencia en el mismo sentido, el conductor deberá:

- ☒ A. Acelerar y circular delante del vehículo de emergencia
- ☐ B. Frenar, bruscamente
- ☒ C. Conducir el vehículo lo más a la izquierda o a la derecha posible, con el objeto de despejar la vía

18. ¿Dónde Puede Efectuar El Viraje En " U" Cuando Circula En Su Vehículo?

- ☐ A. En pasos peatonales
- ☒ B. A mitad de cuadra, si no está prohibido
- ☐ C. En la intersección

| | | |
|----------------------------------|-----------------------------------|---|
| Código: E-TH-003 | PROCESO TH |  |
| Versión: 01 | EVALUACIÓN TEORICA CONDUCTORES | |
| Fecha elaboración: 14/06/2022 | | |
| Fecha aprobación: 14/06/2022 | Documento elaborado por: | |
| Vigencia a partir de: 14/06/2022 | Coordinadora de Talento Humano | |

19. Que maniobra debe realizar a la circular por una vía de dos sentidos si va a girar a la izquierda

- A. Situarse al costado derecho de la calzada
- B. Situarse progresivamente al costado derecho del eje de la calzada
- ☒ C. Situarse al costado izquierdo de la calzada

X

20. Si en un caso de emergencia un conductor debe hacer uso de las señales corporales para cruzar a la derecha deberá:

- A. Sacar el brazo izquierdo y extenderlo horizontalmente
- ☒ B. Sacar el brazo izquierdo formando escuadra con la mano hacia arriba
- C. Sacar el brazo izquierdo formando escuadra con la mano hacia abajo

✓

21. ¿qué se entiende por conducir a la defensiva?

- A. Hacer valer sus derechos en todo momento
- B. Frenar antes de cada cruce
- C. Tomar en cuenta los posibles errores de los demás
- ☒ D. Hacer ver a los demás sus errores al conducir

X

22. Que Debe Hacer Usted Cuando Desea Cambiarse De Carril:

- A. Fijarse en el tránsito que le va siguiendo
- B. Frenar fuerte antes de cambiarse
- ☒ C. Anunciar oportunamente su intención de cambiarse a través de la direccional
- D. Acelerar lo más rápido que pueda


✓

23. Como Señaliza Usted Con El Brazo Cuando Va A Girar Hacia La Izquierda:

- A. Saca el brazo izquierdo y lo extiende hacia arriba
- ☒ B. Saca el brazo izquierdo formando escuadra hacia abajo
- C. Saca el brazo izquierdo y lo extiende horizontalmente
- D. Saca el brazo izquierdo formando escuadra con la mano hacia arriba

X

24. Usted llega a una intersección regulada por semáforo que se encuentra en rojo y, al mismo tiempo, un policía o agente de tránsito le indica que avance, ¿qué debe hacer usted?

| | | |
|----------------------------------|--|---|
| Código: E-TH-003 | PROCESO TH |  |
| Versión: 01 | EVALUACIÓN TEORICA CONDUCTORES | |
| Fecha elaboración: 14/06/2022 | Documento elaborado por: Coordinadora de Talento Humano | |
| Fecha aprobación: 14/06/2022 | | |
| Vigencia a partir de: 14/06/2022 | | |

- A. Detenerse, porque la luz roja se lo está indicando
- ☒ B. Avanzar, porque las instrucciones de un agente, prevalecen sobre las señales del tránsito ✓
- C. Avanzar, sólo si detrás suyo no vienen otros vehículos
- D. Avanzar, sólo si está seguro que la luz roja está próxima a cambiar

25. Qué debe hacer para evitar colisiones en carretera: X

- A. Permanecer en el lado izquierdo de tu carril mientras manejas
- ☒ B. Mantener una distancia de seguimiento suficiente ✓
- C. Cambiar de carril frecuentemente
- D. Seguir a los otros vehículos de cerca

26. ¿en una carretera de doble sentido con un carril central especial, los conductores de cualquier dirección pueden usar este carril para?

- A. Dar vuelta a la derecha
- B. Dar vuelta en U
- ☒ C. Rebasar X
- D. Dar vuelta a la izquierda

Normatividad

27. La velocidad máxima permitida en carretera es:


- A. 105 km/ hr.
- B. 100 km/ hr.
- ☒ C. 90 km/ hr. ✓

28. ¿qué vigencia tiene el seguro obligatorio soat?

- A. Dos (2) años para los vehículos de servicio público ✓
- B. Tres (3) años para los vehículos de servicio particular
- ☒ C. Un (1) año para todos los vehículos que circulan en las vías nacionales

29. Las señales verticales se clasifican en:

- A. Reglamentarias, informativas y preventivas X
- B. Longitudinales y transversales
- ☒ C. Blancas, amarillas y rojas

| | | |
|----------------------------------|-----------------------------------|---|
| Código: E-TH-003 | PROCESO TH |  |
| Versión: 01 | EVALUACIÓN TEORICA CONDUCTORES | |
| Fecha elaboración: 14/06/2022 | | |
| Fecha aprobación: 14/06/2022 | Documento elaborado por: | |
| Vigencia a partir de: 14/06/2022 | Coordinadora de Talento Humano | |

30. En ocasiones la autoridad de tránsito podrá retirar con grúa vehículos de las calles:

- ☒ A. Cuando el vehículo se encuentre estacionado en zonas prohibidas y su conductor no se encuentra cerca del vehículo
- ☐ B. Cuando el vehículo se encuentra abandonado con áreas destinadas al espacio público y su conductor no se encuentra cerca al vehículo
- ☐ C. Cuando se encuentra el vehículo bloqueando una vía principal y su conductor no está cerca del vehículo
- ☐ D. Todas las anteriores

31. ¿Cuál es la distancia que debe mantener un conductor con respecto al vehículo de adelante?

- ☐ A. Treinta (30) metros
- ☐ B. Cien (100) metros
- ☒ C. Una distancia razonable y prudente

32. Los vehículos (carro) deberán llevar encendidas las luces reglamentarias desde:


- ☐ A. 1/2 hora antes de la puesta del sol, hasta 1/2 hora antes de su salida
- ☐ B. 1/2 hora después de la puesta del sol, hasta 1/2 hora antes de su salida
- ☒ C. Ninguna de las anteriores

33. ¿En cuál caso puede un agente de policía o de tránsito suspender la licencia de conducción a un conductor?

- ☐ A. Cuando ocurre un accidente
- ☐ B. Cuando el conductor infringe una norma de tránsito
- ☒ C. Cuando el conductor se encuentre en estado de embriaguez
- ☐ D. En ningún caso, solamente la puede suspender o cancelar una decisión judicial


34. Para conducir vehículos de servicio público, la edad mínima para expedir la licencia de conducción es:

- ☐ A. Veinte (20) años cumplidos
- ☒ B. Dieciséis (16) años cumplidos
- ☐ C. Dieciocho (18) años cumplidos

| | | |
|----------------------------------|--|---|
| Código: E-TH-003 | PROCESO TH |  |
| Versión: 01 | EVALUACIÓN TEORICA CONDUCTORES | |
| Fecha elaboración: 14/06/2022 | Documento elaborado por: Coordinadora de Talento Humano | |
| Fecha aprobación: 14/06/2022 | | |
| Vigencia a partir de: 14/06/2022 | | |

Referente calificativo

| TEMA | NORMATIVIDAD | COMPORTAMIENTO VIAL | SEGURIDAD VIAL |
|---------------------|--------------|------------------------|-------------------|
| PUNTAJE APROBADO | 8 | 11 | 15 |

| | | |
|----------------------------------|-----------------------------------|---|
| Código: ET-TH-003 | PROCESO TH |  |
| Versión: 01 | EVALUACIÓN TEORICA CONDUCTORES | |
| Fecha elaboración: 14/06/2022 | | |
| Fecha aprobación: 14/06/2022 | Documento elaborado por: | |
| Vigencia a partir de: 14/06/2022 | Coordinadora de Talento Humano | |

TALLER MANEJO

Ingreso X

Seguimiento _____

Anual _____

Nombre: José Luis Martínez

Identificación No.: 16.282500 Fecha: 3.10.22 Ciudad: CAI?

| TEMA | MANEJO |
|---------------|-------------------------|
| CALIFICACIÓN | <u>74%</u> |
| PUNTAJE TOTAL | Aprobó <u>aprobó</u> |

EN LAS SIGUIENTES PREGUNTAS MARCA CON UNA X LA RESPUESTA ADECUADA

1. Líneas discontinuas blancas en el pavimento quieren decir...

- A-Que se permite cruzar la línea con precaución
- B-Que el carril izquierdo es para ciclistas y motoristas
- C-Que el tráfico se mueve en ambas direcciones
- D-Que no se permite cambiar de carril
- ☒ E-Puedes cambiar de carril cuando sea seguro hacerlo


2. Si ves esta señal mientras manejas, debes:

- ☒ A-Reducir la velocidad de tu vehículo
- B-Incrementar la velocidad de tu vehículo
- C-Dar vuelta a la izquierda y después a la derecha
- D-Dar vuelta a la derecha y después a la izquierda



3. Ante una sola línea amarilla discontinua separando dos carriles de tránsito que se mueven en direcciones opuestas...

- A-Puedo cruzar la línea siempre para cambiar de carril

| | | |
|----------------------------------|-----------------------------------|---|
| Código: ET-TH-003 | PROCESO TH |  |
| Versión: 01 | EVALUACIÓN TEORICA CONDUCTORES | |
| Fecha elaboración: 14/06/2022 | | |
| Fecha aprobación: 14/06/2022 | Documento elaborado por: | |
| Vigencia a partir de: 14/06/2022 | Coordinadora de Talento Humano | |

B-No puedo cruzar la línea en ningún caso

☒ Puedo cruzar temporalmente la línea cuando rebaso un vehículo que se encuentra frente a mí ✓

D-Debo mantenerme a la izquierda de la línea

4. Si al aproximarte a una intersección ves esta señal y no hay una línea de detención. ¿Qué debes hacer?

A-No avanzar y dar vuelta de inmediato

B-Avanzar lentamente sin detenerte

C-Detenerme antes de ingresar en la intersección

☒ Detenerme justo después ingresar en la intersección X



5. El límite legal de concentración de alcohol en sangre (BAC) por encima del cual puedes ser acusado de Conducir Bajo la Influencia (DUI) es...

A-0.10%

B-0.08%

C-0.07%

☒ 0.05% ✓

6. ¿Qué significa esta señal?

☒ Vuelta en U no permitida

B-Vuelta en U permitida

C-Curva cerrada a la izquierda más adelante

D-Giro hacia la izquierda obligatorio




7. Si estás en una intersección y escuchas la sirena de algún vehículo de emergencia, debes...

☒ No avanzar y detenerte de inmediato en la intersección

B-Avanzar lentamente y detenerte en la intersección

C-Continuar a través de la intersección y detenerte X

| | | |
|----------------------------------|--|---|
| Código: ET-TH-003 | PROCESO TH |  |
| Versión: 01 | EVALUACIÓN TEORICA CONDUCTORES | |
| Fecha elaboración: 14/06/2022 | Documento elaborado por: Coordinadora de Talento Humano | |
| Fecha aprobación: 14/06/2022 | | |
| Vigencia a partir de: 14/06/2022 | | |

D-Continuar a través de la intersección y avanzar lentamente

8. Si el conductor frente a ti está señalando con su mano y brazo apuntando hacia arriba, esto significa que el conductor quiere...

- ☒ A-Doblar a la derecha
- ☐ B-Doblar a la izquierda
- ☐ C-Disminuir su velocidad Detenerse



9. Esta señal representa...

- ☒ A-Zona escolar
- ☐ B-Zona de juegos
- ☐ C-Paso de peatones
- ☐ D-Una biblioteca



10. Esta señal te advierte de...

- ☐ A-Un camino resbaladizo
- ☐ B-Un camino sinuoso
- ☒ C-Un camino cuesta arriba
- ☐ D-Un camino de doble sentido



11. Mientras conduces en la neblina, debes usar tus...


- ☐ A-Luces bajas
- ☐ B-Luces de emergencia
- ☐ C-Luces altas
- ☒ D-Luces de estacionamiento




12. Cuando haya una línea amarilla sólida y una discontinua en carriles opuestos de tráfico, no debes rebasar...

- ☒ A-Si la línea discontinua está de tu lado
- ☐ B-Si la línea sólida no está de tu lado
- ☐ C-Si la línea sólida está de tu lado
- ☐ D-Ninguna de las anteriores



| | | |
|----------------------------------|--|---|
| Código: ET-TH-003 | PROCESO TH |  |
| Versión: 01 | EVALUACIÓN TEORICA CONDUCTORES | |
| Fecha elaboración: 14/06/2022 | Documento elaborado por: Coordinadora de Talento Humano | |
| Fecha aprobación: 14/06/2022 | | |
| Vigencia a partir de: 14/06/2022 | | |



13. Esta señal de advertencia representa...

- ☐ A-Inicio de carretera dividida
- ☒ B-Inicio de carril con doble sentido
- ☐ C-Fin de carretera dividida
- ☐ D-Fin de carril de doble sentido

X



14. Si quieres dar vuelta a la derecha en una intersección con esta señal

- ☒ A-No tienes permitido dar vuelta a la derecha en esta intersección
- ☐ B-Lo puedes hacer mientras la carretera esté despejada
- ☐ C-Debes detenerte y continuar con precaución
- ☒ D-Debes esperar a la luz verde

✓




NO EXCEDE LA 102 Reg D

15. este letrero azul indica...

- ☒ A-Un hospital adelante
- ☐ B-Una carretera interestatal adelante
- ☐ C-Un hotel adelante
- ☐ D-Un estacionamiento para personas con discapacidad adelante

✓

| | | |
|----------------------------------|--------------------------------|---|
| Código: ET-TH-003 | PROCESO TH |  |
| Versión: 01 | EVALUACIÓN TEORICA | |
| Fecha elaboración: 14/06/2022 | CONDUCTORES | |
| Fecha aprobación: 14/06/2022 | Documento elaborado por: | |
| Vigencia a partir de: 14/06/2022 | Coordinadora de Talento Humano | |




16. Si ves un animal en tu camino, debes...

- A-Aumentar la velocidad y pasar al animal rápidamente
- B-Usar el claxon y mantener tu velocidad
- ☒ C-Reducir la velocidad
- D-Abrir la ventana y gritarle al animal

17. ¿Qué significa este panel de flechas intermitentes?

- A-El carril adelante está abierto al tráfico
- B-obreros con banderines delante
- ☒ C-El carril izquierdo está curvándose adelante
- D-El carril adelante está cerrado




18. Esta figura octagonal es...

- A-Una señal de no entrar
- B-Una señal de ceder el paso
- ☒ C-Una señal de detención
- D-Una señal de camino en construcción



19. Si ves dos líneas amarillas sólidas en tu camino, esto significa que...


- A-Rebasar está permitido en cualquier momento
- ☒ B-Rebasar está prohibido
- C-Rebasar está permitido durante el día

| | | |
|----------------------------------|--|---|
| Código: ET-TH-003 | PROCESO TH |  |
| Versión: 01 | EVALUACIÓN TEORICA CONDUCTORES | |
| Fecha elaboración: 14/06/2022 | Documento elaborado por: Coordinadora de Talento Humano | |
| Fecha aprobación: 14/06/2022 | | |
| Vigencia a partir de: 14/06/2022 | | |

D-Rebasar está permitido durante la noche

20. Las señales amarillas y con forma de diamante, con letras o símbolos negros...

- A-Son señales de detención
- B-Son señales de destino
- ☒ C-Son señales de advertencia
- D-Son señales de servicio



21. ¿Qué debe hacer en condiciones climatológicas inusuales?

- A-Aumentar la velocidad
- B-Aumentar la intensidad de las luces
- ☒ C-Aumentar la distancia entre el vehículo de delante y el mío
- D-Cambiar de carril frecuentemente

22. Si pierdes el control del volante, debes...

- A-Quitar el pie de los frenos
- B-Quitar el pie del acelerador
- C-Cambiar de velocidad
- ☒ D-Aplicar el freno de mano

23. Cuál de las siguientes señales indica al conductor que se aproxima a una glorieta

SP56



A

SP56A



B

SP24




C

SP20



☒ D

| | | |
|----------------------------------|--|---|
| Código: ET-TH-003 | PROCESO TH |  |
| Versión: 01 | EVALUACIÓN TEORICA CONDUCTORES | |
| Fecha elaboración: 14/06/2022 | | |
| Fecha aprobación: 14/06/2022 | Documento elaborado por: Coordinadora de Talento Humano | |
| Vigencia a partir de: 14/06/2022 | | |

24.Cuál de las siguientes señales indica al conductor que la vía está cerrada



25. ¿Cuál de las siguientes señales es una señal de tránsito vertical reglamentaria?



A



B




26. Cuando usted ve la siguiente señal usted debe:




- ☒ A- Conservar el espacio reglamentario
- ☐ B- Girar hacia la derecha
- ☐ C- Girar hacia la izquierda
- ☐ D- Adelantar el vehículo que va adelante



| | | |
|----------------------------------|--|---|
| Código: ET-TH-003 | PROCESO TH |  |
| Versión: 01 | EVALUACIÓN TEORICA CONDUCTORES | |
| Fecha elaboración: 14/06/2022 | Documento elaborado por: Coordinadora de Talento Humano | |
| Fecha aprobación: 14/06/2022 | | |
| Vigencia a partir de: 14/06/2022 | | |

27. Escribe el nombre de las señales, que debes hacer al verlas:



DEPRESIÓN O RESALTO ✓

SP-25




RESALTO "O PELICIA" ✓



HOMBRE TRABAJANDO ✓



DISCAPACITADOS ✓

| | | |
|----------------------------------|--|---|
| Código: ET-TH-003 | PROCESO TH |  |
| Versión: 01 | EVALUACIÓN TEORICA CONDUCTORES | |
| Fecha elaboración: 14/06/2022 | Documento elaborado por: Coordinadora de Talento Humano | |
| Fecha aprobación: 14/06/2022 | | |
| Vigencia a partir de: 14/06/2022 | | |



Prohibido adelantar ✓



NO PASE ✓

| TEMA | MANEJO |
|------------------|--------|
| PUNTAJE APROBADO | 27 |

