

PROCESO SG-SST		
Versión: 2 Fecha elaboración: 21/02/2023 Fecha aprobación: 21/02/2023 Vigencia a partir de: 21/02/2023	PRUEBA TEORICA PARA CONDUCTORES Documento elaborado por: Coordinadora SG-SST	
	Aprobado por: Comité de Calidad	



TALLER MANEJO

Ingreso X

Seguimiento _____

Anual _____

Nombre: José Alexander González Valencia

Identificación No.: 6100471 Fecha: 04-08-23 Ciudad: Cali

TEMA	MANEJO
CALIFICACIÓN	77
PUNTAJE TOTAL 63%	Aprobó Aprobado

Referente de Calificación

TEMA	MANEJO
PUNTAJE APROBADO	27


EN LAS SIGUIENTES PREGUNTAS MARCA CON UNA X LA RESPUESTA ADECUADA

1. Líneas discontinuas blancas en el pavimento quieren decir...

- A-Que se permite cruzar la línea con precaución
- B-Que el carril izquierdo es para ciclistas y motoristas
- C-Que el tráfico se mueve en ambas direcciones
- D-Que no se permite cambiar de carril
- ☒ E-Puedes cambiar de carril cuando sea seguro hacerlo

2. Si ves esta señal mientras manejas, debes:

- ☒ A-Reducir la velocidad de tu vehículo
- B-Incrementar la velocidad de tu vehículo
- C-Dar vuelta a la izquierda y después a la derecha

PROCESO SG-SST			
Versión: 2	PRUEBA TEORICA PARA CONDUCTORES		
Fecha elaboración: 21/02/2023			
Fecha aprobación: 21/02/2023	Documento elaborado por: Coordinadora SG-SST	Aprobado por: Comité de Calidad	
Vigencia a partir de: 21/02/2023			

D-Giro hacia la izquierda obligatorio



7. Si estás en una intersección y escuchas la sirena de algún vehículo de emergencia, debes...

A-No avanzar y detenerte de inmediato en la intersección

B-Avanzar lentamente y detenerte en la intersección

C-Continuar a través de la intersección y detenerte

☒ D-Continuar a través de la intersección y avanzar lentamente

8. Si el conductor frente a ti está señalando con su mano y brazo apuntando hacia arriba, esto significa que el conductor quiere...

A-Doblar a la derecha

B-Doblar a la izquierda

☒ C-Disminuir su velocidad Detenerse

9. Esta señal representa...

A-Zona escolar

B-Zona de juegos

☒ C-Paso de peatones

D-Una biblioteca




10. Esta señal te advierte de...

A-Un camino resbaladizo

B-Un camino sinuoso

☒ C-Un camino cuesta arriba

D-Un camino de doble sentido

PROCESO SG-SST			
Versión: 2	PRUEBA TEORICA PARA CONDUCTORES		
Fecha elaboración: 21/02/2023			
Fecha aprobación: 21/02/2023	Documento elaborado por: Coordinadora SG-SST	Aprobado por: Comité de Calidad	
Vigencia a partir de: 21/02/2023			

- B-Lo puedes hacer mientras la carretera esté despejada
C-Debes detenerte y continuar con precaución
☒ D-Debes esperar a la luz verde



15. este letrero azul indica...

- ☒ A-Un hospital adelante
B-Una carretera interestatal adelante
C-Un hotel adelante
D-Un estacionamiento para personas con discapacidad adelante




16. Si ves un animal en tu camino, debes...

- A-Aumentar la velocidad y pasar al animal rápidamente
B-Usar el claxon y mantener tu velocidad
☒ C-Reducir la velocidad
D-Abrir la ventana y gritarle al animal

17. ¿Qué significa este panel de flechas intermitentes?

- A-El carril adelante está abierto al tráfico
B-obreros con banderines delante
☒ C-El carril izquierdo está curvándose adelante
D-El carril adelante está cerrado

PROCESO SG-SST			
Versión: 2	PRUEBA TEORICA PARA CONDUCTORES		
Fecha elaboración: 21/02/2023			
Fecha aprobación: 21/02/2023	Documento elaborado por: Coordinadora SG-SST	Aprobado por: Comité de Calidad	
Vigencia a partir de: 21/02/2023			

21. ¿Qué debe hacer en condiciones climatológicas inusuales?

- A-Aumentar la velocidad
- B-Aumentar la intensidad de las luces
- ☒ C-Aumentar la distancia entre el vehículo de delante y el mío
- D-Cambiar de carril frecuentemente

22. Si pierdes el control del volante, debes...

- A-Quitar el pie de los frenos
- ☒ B-Quitar el pie del acelerador
- C-Cambiar de velocidad
- D-Aplicar el freno de mano

23.Cuál de las siguientes señales indica al conductor que se aproxima a una glorieta

SP56

SP56A

SP24

SP20



A



B



C




☒ D

24.Cuál de las siguientes señales indica al conductor que la vía está cerrada



☒

25. ¿Cuál de las siguientes señales es una señal de tránsito vertical reglamentaria?

PROCESO SG-SST			
Versión: 2	PRUEBA TEORICA PARA CONDUCTORES		
Fecha elaboración: 21/02/2023			
Fecha aprobación: 21/02/2023	Documento elaborado por: Coordinadora SG-SST	Aprobado por: Comité de Calidad	
Vigencia a partir de: 21/02/2023			

debo girar a la
izquierda con
precaución



Personas con Movilidad
Reducida.


debo tener precaución
y dar prioridad a las
personas con esta
condición.

No adelantarse
No debo adelan-
tar, ningún
vehículo en
esta zona.



Señal informativa.
No debo ingresar
en esta vía.

PROCESO SG-SST		
Versión: 2	PRUEBA TEORICA PARA CONDUCTORES	
Fecha elaboración: 21/02/2023		
Fecha aprobación: 21/02/2023	Documento elaborado por: Coordinadora SG-SST	Aprobado por: Comité de Calidad
Vigencia a partir de: 21/02/2023		



☒ D. Separar el combustible del aceite

4. La función del carburador es:

- A. Marque una respuesta
- B. Refinar el combustible
- C. Realizar la explosión en el motor
- ☒ D. Realizar la mezcla exacta del aire con el combustible

5. La función del filtro de aire es:

- A. Separar el aire del aceite
- B. Separar el aire del combustible
- ☒ C. Retener las partículas contenidas en el aire, antes de entrar al carburador

6. Si durante la marcha del vehículo (carro) se desconecta un cable de bujía:

- A. El motor no funciona
- ☒ B. El motor pierde fuerza
- C. El motor gira a la mitad de las revoluciones normales

7. Cuál de los siguientes líquidos, al llegar a un nivel bajo puede ocasionar accidentes

- A. Líquido anticoagulante
- ☒ B. Líquido de frenos
- C. Líquido de batería
- D. Líquido refrigerante

8. El alto consumo de combustible se debe a:

- A. Fallas en el sistema de dirección
- B. Aceleraciones excesivas en las curvas
- ☒ C. Frecuentes frenadas y aceleraciones
- D. Todas las anteriores

9. ¿cómo nota un conductor que hay fuga en el líquido de frenos?

- ☒ A. El pedal del freno llega hasta el fondo

PROCESO SG-SST

Versión: 2

PRUEBA TEORICA PARA CONDUCTORES

Fecha elaboración: 21/02/2023

Fecha aprobación: 21/02/2023

Vigencia a partir de: 21/02/2023

Documento elaborado por:
Coordinadora SG-SST

Aprobado por:
Comité de Calidad



COMPETENCIA NORMATIVIDAD, COMPORTAMIENTO VIAL Y SEGURIDAD VIAL

TEMA	NORMATIVIDAD	COMPORTAMIENTO O VIAL	SEGURIDAD VIAL
CALIFICACIÓN	63% 5	73% 8	73% 11
PUNTAJE TOTAL	70% 24	Próxima evaluación	Reprobó Aprobado

Referente de calificación

TEMA	NORMATIVIDAD	COMPORTAMIENTO VIAL	SEGURIDAD VIAL
PUNTAJE APROBADO	8	11	15

EN LAS SIGUIENTES PREGUNTAS MARCA CON UNA X LA RESPUESTA ADECUADA

Seguridad Vial

1. Intersección es

- A. El área común de calzadas que no se cruzan o divergen
- B. El área común de las calzadas que cruzan o convergen
- ☒ C. Ninguna de las anteriores

2. No se debe adelantar en ninguna circunstancia a otro vehículo en:

- A. En intersecciones
- ☒ B. En los tramos de la vía donde exista línea separadores central continua o prohibición de adelantamiento
- C. En las vías de doble carril
- D. En curvas o pendientes

3. ¿qué información le proporciona la siguiente señal y como se clasifica?

PROCESO SG-SST

Versión: 2

PRUEBA TEORICA PARA CONDUCTORES

Fecha elaboración: 21/02/2023

Fecha aprobación: 21/02/2023

Vigencia a partir de: 21/02/2023

Documento elaborado por:
Coordinadora SG-SST

Aprobado por:
Comité de Calidad



7. ¿qué debe usted hacer al ser adelantado por otro vehículo?:

- A. Encender las luces bajas
- B. Frenar bruscamente
- ☒ C. Mantener su velocidad o disminuirla para permitir el adelantamiento

8. Al acercarse a una señal "zona de escuela", ¿qué debe hacer?

- ☒ A. Disminuir la velocidad
- B. Tocar la bocina
- C. Aumentar la velocidad

9. Cómo se debe estacionar un vehículo cuando la vía es en subida:

- A. Con las ruedas delanteras hacia la cuneta
- B. Con las ruedas traseras hacia la calzada
- ☒ C. Con las ruedas delanteras hacia la calzada

10. ¿qué significa doble línea amarilla continua en el centro de una vía?

- A. Se usa para dividir los sentidos de circulación
- B. Que el asfalto está en mal estado
- ☒ C. Para ambos sentidos de circulación, que no debe ser traspasada ni se puede circular sobre ella
- D. Que solo pueden circular vehículos particulares

11. cuando hay involucradas víctimas en un accidente de tránsito, ¿a cuál autoridad le corresponde conocer el siniestro

- A. El Ministerio de Transporte
- B. La autoridad de tránsito
- C. Las aseguradoras
- D. Las autoridades judiciales
- ☒ E. b y d son correctas

12. Líneas discontinuas en el pavimento quiere decir:

- A. Que se permite cruzar la línea con precaución
- B. Que el carril izquierdo es para ciclistas y motoristas
- C. Que el tráfico se mueve en ambas direcciones
- ☒ D. Que no se permite cambiar de carril
- E. Puedes cambiar de carril cuando sea seguro hacerlo.

PROCESO SG-SST

Versión: 2

PRUEBA TEORICA PARA CONDUCTORES

Fecha elaboración: 21/02/2023

Fecha aprobación: 21/02/2023

Vigencia a partir de: 21/02/2023

**Documento elaborado por:
Coordinadora SG-SST**

**Aprobado por:
Comité de Calidad**



- A. Acelerar y circular delante del vehículo de emergencia
- B. Frenar, bruscamente
- ☒ C. Conducir el vehículo lo más a la izquierda o a la derecha posible, con el objeto de despejar la vía

18. ¿Dónde Puede Efectuar El Viraje En " U" Cuando Circula En Su Vehículo?

- A. En pasos peatonales
- B. A mitad de cuadra, si no está prohibido
- ☒ C. En la intersección

19. Que maniobra debe realizar a la circular por una vía de dos sentidos si va a girar a la izquierda

- A. Situarse al costado derecho de la calzada
- B. Situarse progresivamente al costado derecho del eje de la calzada
- ☒ C. Situarse al costado izquierdo de la calzada

20. Si en un caso de emergencia un conductor debe hacer uso de las señales corporales para cruzar a la derecha deberá:

- A. Sacar el brazo izquierdo y extenderlo horizontalmente
- ☒ B. Sacar el brazo izquierdo formando escuadra con la mano hacia arriba
- C. Sacar el brazo izquierdo formando escuadra con la mano hacia abajo


21. ¿qué se entiende por conducir a la defensiva?

- A. Hacer valer sus derechos en todo momento
- B. Frenar antes de cada cruce
- ☒ C. Tomar en cuenta los posibles errores de los demás
- D. Hacer ver a los demás sus errores al conducir

22. Que Debe Hacer Usted Cuando Desea Cambiarse De Carril:

- A. Fijarse en el tránsito que le va siguiendo
- B. Frenar fuerte antes de cambiarse

PROCESO SG-SST		
Versión: 2	PRUEBA TEORICA PARA CONDUCTORES	
Fecha elaboración: 21/02/2023		
Fecha aprobación: 21/02/2023	Documento elaborado por: Coordinadora SG-SST	Aprobado por: Comité de Calidad
Vigencia a partir de: 21/02/2023		



- A. 105 km/ hr.
- ☒ B. 100 km/ hr.
- C. 90 km/ hr.

28. ¿qué vigencia tiene el seguro obligatorio soat?

- A. Dos (2) años para los vehículos de servicio público
- B. Tres (3) años para los vehículos de servicio particular
- ☒ C. Un (1) año para todos los vehículos que circulan en las vías nacionales

29. Las señales verticales se clasifican en:

- ☒ A. Reglamentarias, informativas y preventivas
- B. Longitudinales y transversales
- C. Blancas, amarillas y rojas

30. En ocasiones la autoridad de tránsito podrá retirar con grúa vehículos de las calles:

- A. Cuando el vehículo se encuentre estacionado en zonas prohibidas y su conductor no se encuentra cerca del vehículo
- B. Cuando el vehículo se encuentra abandonado con áreas destinadas al espacio público y su conductor no se encuentra cerca al vehículo
- C. Cuando se encuentra el vehículo bloqueando una vía principal y su conductor no está cerca del vehículo
- ☒ D. Todas las anteriores

31. ¿Cuál es la distancia que debe mantener un conductor con respecto al vehículo de adelante?

- A. Treinta (30) metros
- B. Cien (100) metros
- ☒ C. Una distancia razonable y prudente

32. Los vehículos (carro) deberán llevar encendidas las luces reglamentarias desde:

- A. 1/2 hora antes de la puesta del sol, hasta 1/2 hora antes de su salida