

**PROCESO DE GESTIÓN HUMANA****PRUEBA TEÓRICA PARA CONDUCTORES****CÓDIGO:** FGH-02**VERSIÓN:** ORIGINALFecha: 21/07/2022Nombre del Evaluado: Carden 17Nombre del evaluado: Michael GomezCedula: 1011274719Licencia de conducción: 1011274719Categoría: A2Fecha de Vencimiento: 11/05/26Resultado de la prueba: 58/71**PRUEBA TEÓRICA****1. Los canales en las llantas sirven para:**

- ☒ a. Eliminar agua
- b. Tener mejor vida útil
- c. Guardar piedras
- d. Contener aire

2.Cuál es el elemento que no es obligatorio en el equipo de carreteras.

- a. Extintor
- b. Conos
- ☒ c. Cables de inicio
- d. Gato

3. Cuando el indicador de temperatura en un equipo de transporte indica 200°F o 104°C

- ☒ a. Apagamos el motor
- b. No nos preocupamos
- c. La temperatura es correcta
- d. Ninguna de las anteriores

4. La técnica que deben utilizar los usuarios de la vía en su labor diaria es la de:

- a. Leer la vía
- ☒ b. Concentración
- c. Relajación
- d. Comer bien

5. Las señales reglamentarias, tiene por objeto:

- ☒ a. Advertir al usuario de la vía, la existencia de un peligro
- b. Guiar al usuario, proporcionándole información que pueda necesitar
- ☒ c. Indicar las limitaciones, prohibiciones o restricciones sobre su uso
- d. Modificar transitoriamente el régimen normal de la utilización de la vía

6. Las señales preventivas tienen por objeto

- ☒ a. Advertir al usuario de la vía, la existencia de un peligro
- b. Guiar al usuario, proporcionándole información que pueda necesitar
- c. Indicar las limitaciones, prohibiciones o restricciones sobre su uso
- d. Modificar transitoriamente el régimen normal de la utilización de la vía



PROCESO DE GESTIÓN HUMANA
PRUEBA TEÓRICA PARA CONDUCTORES

CÓDIGO: FGH-02

VERSIÓN: ORIGINAL

7. Los documentos que debe portar todo conductor de un vehículo son:
- ☒ a. Cedula y licencia de conducción
 - b. Carnet de la EPS
 - c. Manejo defensivo y carnet de vacunas
 - d. Afiliación a seguridad social
- 8.Cuál es la Ley por la cual se expide el Código Nacional de Tránsito Terrestre
- a. 106 de 2002
 - ☒ b. 769 de 2002
 - c. 2556 de 2001
 - d. 173 de 2002
9. De acuerdo al Código Nacional de Tránsito, la separación que debe existir entre dos vehículos que circulan, uno detrás del otro en un mismo carril a 70 km/h, es de:
- a. 10 metros
 - ☒ b. 25 metros
 - c. 20 metros
 - d. 1 metro
10. Cuando me encuentre en alguna condición adversa como conductor debo:
- a. Subir el vidrio
 - ☒ b. Reducir la marcha o detener el vehículo
 - c. Aumentar la intensidad de la luz
 - d. Aumentar RPM
11. Para aprovechar mejor la potencia del motor debemos tener en cuenta:
- a. La velocidad
 - b. Selección del cambio más seguido
 - ☒ c. Las revoluciones del motor
 - d. Subir en un cambio pesado
12. Los frenos no responden adecuadamente cuando:
- ☒ a. Están nuevos
 - b. Las llantas son radiales
 - c. El vehículo pesa lo reglamentario
 - d. Se frena demasiado
13. La velocidad máxima en carretera es:
- ☒ a. 70 km/h
 - b. 90 km/h
 - c. 80 km/h
 - d. 65 km/h



PROCESO DE GESTIÓN HUMANA
PRUEBA TEÓRICA PARA CONDUCTORES


CÓDIGO: FGH-02

VERSIÓN: ORIGINAL

14. El límite de velocidad para zonas escolares es:

- a. 60 km/h
- b. 50 km/h
- c. 40 km/h
- ☒ d. 30 km/h

15. Escriba el significado de cada señal de tránsito: (Responder como mínimo 5 correctamente)



Puedo parquear mi vehículo por 5 minutos	<input checked="" type="checkbox"/>	<input checked="" type="checkbox"/>	Prohibido adelantar	F	<input checked="" type="checkbox"/>	Ancho de carril 3.20 metros	F	<input checked="" type="checkbox"/>	Circulación con luces altas	<input checked="" type="checkbox"/>	<input checked="" type="checkbox"/>
--	-------------------------------------	-------------------------------------	---------------------	---	-------------------------------------	-----------------------------	---	-------------------------------------	-----------------------------	-------------------------------------	-------------------------------------



Permitido girar a la derecha	<input checked="" type="checkbox"/>	<input checked="" type="checkbox"/>	Puedo detener el vehículo pero no más de 5 minutos	<input checked="" type="checkbox"/>	<input checked="" type="checkbox"/>	Prohibida la circulación de vehículo de carga	F	<input checked="" type="checkbox"/>	Siga adelante	<input checked="" type="checkbox"/>	<input checked="" type="checkbox"/>
------------------------------	-------------------------------------	-------------------------------------	--	-------------------------------------	-------------------------------------	---	---	-------------------------------------	---------------	-------------------------------------	-------------------------------------


16. Escriba el significado de cada señal de tránsito: (Responder como mínimo 5 correctamente)



No puedo girar a la izquierda	<input checked="" type="checkbox"/>	<input checked="" type="checkbox"/>	Puente angosto	F	<input checked="" type="checkbox"/>	Precaución zona montañosa	F	<input checked="" type="checkbox"/>	Zona escolar	F	<input checked="" type="checkbox"/>
-------------------------------	-------------------------------------	-------------------------------------	----------------	---	-------------------------------------	---------------------------	---	-------------------------------------	--------------	---	-------------------------------------



Ampliación simétrica de la calzada	<input checked="" type="checkbox"/>	<input checked="" type="checkbox"/>	Niños en la vía	<input checked="" type="checkbox"/>	<input checked="" type="checkbox"/>	Zonas de derrumbe	F	<input checked="" type="checkbox"/>	Descenso peligroso	F	<input checked="" type="checkbox"/>
------------------------------------	-------------------------------------	-------------------------------------	-----------------	-------------------------------------	-------------------------------------	-------------------	---	-------------------------------------	--------------------	---	-------------------------------------

	PROCESO DE GESTIÓN HUMANA	
	PRUEBA TEÓRICA PARA CONDUCTORES	
	CÓDIGO: FGH-02	VERSIÓN: ORIGINAL

17. Según la señal de tránsito marque falso o verdadero. El aspirante deberá responder correctamente como mínimo 7 de las 10 señales de tránsito.



Puedo adelantar en cualquier sentido	<input checked="" type="checkbox"/>	<input type="checkbox"/>	Ningún sentido puede adelantar	<input type="checkbox"/>	<input checked="" type="checkbox"/>	Doble sentido y no puedo adelantar	<input checked="" type="checkbox"/>	<input type="checkbox"/>	Puedo adelantar en cualquier sentido	<input type="checkbox"/>	<input checked="" type="checkbox"/>
--------------------------------------	-------------------------------------	--------------------------	--------------------------------	--------------------------	-------------------------------------	------------------------------------	-------------------------------------	--------------------------	--------------------------------------	--------------------------	-------------------------------------



Puedo adelantar al lado izquierdo	<input type="checkbox"/>	<input checked="" type="checkbox"/>	Separa cada fila de vehículos	<input type="checkbox"/>	<input checked="" type="checkbox"/>	Línea límite para adelantar vehículo	<input checked="" type="checkbox"/>	<input type="checkbox"/>	Cebra o zona peatonal, línea de pare	<input type="checkbox"/>	<input checked="" type="checkbox"/>
-----------------------------------	--------------------------	-------------------------------------	-------------------------------	--------------------------	-------------------------------------	--------------------------------------	-------------------------------------	--------------------------	--------------------------------------	--------------------------	-------------------------------------

18. La arrancada en un ascenso se realiza con la ayuda del freno estacionario
F () V(☒)


19. El odómetro del tablero de instrumentos, tiene la función de determinar la velocidad
F () V(☒)

20. La barra estabilizadora hace parte de la dirección del vehículo.
F () V(☒)

21. Los semáforos, son dispositivos de seguridad activa.
F () V(☒)

22. La función del aceite en el motor es:

- a. Lubricar y llenar los conductos, mantener la distancia en las moléculas.
- ☒ b. Lubricar, enfriar, limpiar y proteger, mantener una película de aceite entre los dos metales en movimiento.
- c. Limpia, cuida el motor y lo protege de la humedad y el calor.
- d. Mantener los metales en perfecto alineamiento.

	PROCESO DE GESTIÓN HUMANA	
	PRUEBA TEÓRICA PARA CONDUCTORES	
	CÓDIGO: FGH-02	VERSIÓN: ORIGINAL

23. El ticket de viaje el pasajero lo debe comprar:

- a. Al conductor
- b. Al auxiliar
- ☒ c. En la taquilla
- d. Al despachador

24. Se realiza una revisión pre-operacional, con el fin de determinar las condiciones de:

- a. El buen estado del vehículo.
- b. Para evitar fallas en el trabajo.
- c. Para mejorar el servicio.
- ☒ d. Todas las anteriores.

25. Cuando detectamos que el embrague entra en contacto:

- a. Cuando el vehículo se acelera.
- b. Cuando el vehículo se apaga.
- ☒ c. Cuando el vehículo se mueve.
- d. Cuando el vehículo vibra.

26. Al atender una novedad durante la prestación del servicio se debe actuar:

- a. Alejándose de los problemas del pasajero.
- ☒ b. Escuchando la versión o la inquietud del pasajero.
- c. De acuerdo con la gravedad de la novedad presentada.
- d. Dependiendo del conflicto.

27. Prestar un servicio de calidad, seguro y responsable por parte del conductor amable, es:

- a. Crítica fuerte del cliente.
- ☒ b. Satisfacción del usuario.
- c. Cumplimiento de la ruta
- d. Daños de los equipajes.

28. Dentro del proceso de la prestación del servicio de transporte intermunicipal, la recepción es en:

- ☒ a. El terminal de transportes.
- b. El paradero.
- c. El parqueadero.
- d. El taller.

29. La especificación SAE 15w – 40 corresponde a:

- a. Un aceite para motor multigrado
- b. Un aceite para motor monogrado
- c. Un aceite para motor ATF
- ☒ d. Un aceite para motor hidráulico



PROCESO DE GESTIÓN HUMANA
PRUEBA TEÓRICA PARA CONDUCTORES

CÓDIGO: FGH-02

VERSIÓN: ORIGINAL

30. Las vías urbanas se clasifican en:

- a. Metro vía, troncal, férreas, autopistas, arterias principales y secundarias.
- b. Férreas, autopistas, carreras principales, privadas y peatones.
- ☒ c. De uso exclusivo, troncales, ciclo vías, peatonales.
- d. Carreteras secundarias, autopistas, arterias, principales y recolectoras.

31. Transitar a la defensiva es:

- a. Conducir con seguridad adelantándonos a los hechos y a los actos inseguros
- ☒ b. Conducir con agresividad adelantándonos a los demás
- c. Conducir de tal manera que estemos lejos de los que intervienen en la vía
- d. Ninguna de las anteriores.

32. Un accidente es:

- a. Cuando los demás no respetan el tránsito
- b. El resultado de manejar a la defensiva
- c. Hecho inesperado que ocurre en la vía por acción de uno o más usuarios.
- ☒ d. Todas las anteriores.

33. Algunas de las causas de los accidentes por factor humano son:

- a. Vehículos, vías, señalización
- ☒ b. Cansancio, distracción e imprudencia
- c. Clima, obras, señales
- d. Ninguna de las anteriores.

34. Las decisiones que tomamos al conducir son producto de:

- a. Lo que los demás nos dejan hacer
- b. Lo que imaginamos, lo que queremos
- c. Lo que se ve, lo que se oye, lo que se siente
- ☒ d. Ninguna de las anteriores.

35. La velocidad adecuada es:

- a. La que las señales nos indiquen en cada lugar
- ☒ b. La que el entorno y el medio nos permitan para transitar seguros
- c. La que el vehículo pueda alcanzar.
- d. Ninguna de las anteriores.

36. Distancia de reacción más distancia de frenado es igual a:

- ☒ a. Distancia total para detenerse
- b. Distancia que recorremos
- c. Distancia para actuar
- d. Distancia de reacción



PROCESO DE GESTIÓN HUMANA
PRUEBA TEÓRICA PARA CONDUCTORES

CÓDIGO: FGH-02

VERSIÓN: ORIGINAL

37. Un conductor profesional integral es el que:

- a. Se comporta como mejor le parezca
- ☒ b. Tiene en cuenta el ser, el hacer y el saber
- c. Conduce de acuerdo a la necesidad
- d. No respeta las normas

Michael Gomez

FIRMA DEL EVALUADO

NOMBRE: Michael Gomez

CEDULA: 101424719



FIRMA DEL EVALUADOR

NOMBRE:

CEDULA:

Cardinal
105330691