

PROCESO DE GESTIÓN HUMANA
PRUEBA TEÓRICA PARA CONDUCTORES

CÓDIGO: FGH-02

VERSIÓN: ORIGINAL

Fecha: 07/03/2022

Nombre del Evaluador: Carolina A.

Nombre del evaluado: Uber Hernandez

Cedula: 7023832095

Licencia de conducción: C2 1023832095

Categoría: C2

Fecha de Vencimiento: 2030

Resultado de la prueba: 75/100

PRUEBA TEÓRICA

1. Los canales en las llantas sirven para:

- ☒ a. Eliminar agua
- b. Tener mejor vida útil
- c. Guardar piedras
- d. Contener aire

2.Cuál es el elemento que no es obligatorio en el equipo de carreteras.

- a. Extintor
- b. Conos
- ☒ c. Cables de inicio
- d. Gato

3. Cuando el indicador de temperatura en un equipo de transporte indica 200°F o 104°C

- ☒ a. Apagamos el motor
- b. No nos preocupamos
- c. La temperatura es correcta
- d. Ninguna de las anteriores

4. La técnica que deben utilizar los usuarios de la vía en su labor diaria es la de:

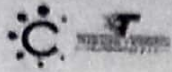
- ☒ a. Leer la vía
- b. Concentración
- c. Relajación
- d. Comer bien

Las señales reglamentarias, tiene por objeto:


- Advertir al usuario de la vía, la existencia de un peligro
- Guiar al usuario, proporcionándole información que pueda necesitar
- Indicar las limitaciones, prohibiciones o restricciones sobre su uso
- Modificar transitoriamente el régimen normal de la utilización de la vía

Las señales preventivas tienen por objeto

- Advertir al usuario de la vía, la existencia de un peligro
- Guiar al usuario, proporcionándole información que pueda necesitar
- Indicar las limitaciones, prohibiciones o restricciones sobre su uso
- Modificar transitoriamente el régimen normal de la utilización de la vía




7. Los documentos que debe portar todo conductor de un vehículo son:
- ☒ a. Cedula y licencia de conducción
 - b. Carnet de la EPS
 - c. Manejo defensivo y carnet de vacunas
 - d. Afiliación a seguridad social
8. Cuál es la Ley por la cual se expide el Código Nacional de Tránsito Terrestre
- ☒ a. 106 de 2002
 - b. 769 de 2002
 - c. 2556 de 2001
 - d. 173 de 2002
9. De acuerdo al Código Nacional de Tránsito, la separación que debe existir entre dos vehículos que circulan, uno detrás del otro en un mismo carril a 70 km/h, es de:
- ☒ a. 10 metros
 - b. 25 metros
 - c. 20 metros
 - d. 1 metro
10. Cuando me encuentre en alguna condición adversa como conductor debo:
- a. Subir el vidrio
 - ☒ b. Reducir la marcha o detener el vehículo
 - c. Aumentar la intensidad de la luz
 - d. Aumentar RPM
11. Para aprovechar mejor la potencia del motor debemos tener en cuenta:
- a. La velocidad
 - b. Selección del cambio más seguido
 - ☒ c. Las revoluciones del motor
 - d. Subir en un cambio pesado
12. Los frenos no responden adecuadamente cuando:
- a. Están nuevos
 - b. Las llantas son radiales
 - c. El vehículo pesa lo reglamentario
 - ☒ d. Se frena demasiado
13. La velocidad máxima en carretera es:
- 70 km/h
 - 90 km/h
 - 80 km/h
 - ☒ 65 km/h

	PROCESO DE GESTIÓN HUMANA	
	PRUEBA TEÓRICA PARA CONDUCTORES	
	CÓDIGO: FGH-02	VERSIÓN: ORIGINAL

14. El límite de velocidad para zonas escolares es:

- a. 60 km/h
- b. 50 km/h
- c. 40 km/h
- ☒ 30 km/h

15. Escriba el significado de cada señal de tránsito: (Responder como mínimo 5 correctamente)



Puedo parquear mi vehículo por 5 minutos	<input checked="" type="checkbox"/>	<input checked="" type="checkbox"/>	V	Prohibido adelantar	<input checked="" type="checkbox"/>	<input checked="" type="checkbox"/>	V	Ancho de carril 3.20 metros	<input checked="" type="checkbox"/>	<input checked="" type="checkbox"/>	F	Circulación con luces altas	<input checked="" type="checkbox"/>	<input checked="" type="checkbox"/>	F	V
--	-------------------------------------	-------------------------------------	---	---------------------	-------------------------------------	-------------------------------------	---	-----------------------------	-------------------------------------	-------------------------------------	---	-----------------------------	-------------------------------------	-------------------------------------	---	---



Permitido girar a la derecha	<input checked="" type="checkbox"/>	<input checked="" type="checkbox"/>	V	Puedo detener el vehículo pero no más de 5 minutos	<input checked="" type="checkbox"/>	<input checked="" type="checkbox"/>	V	Prohibida la circulación de vehículo de carga	<input checked="" type="checkbox"/>	<input checked="" type="checkbox"/>	V	Siga adelante	<input checked="" type="checkbox"/>	<input checked="" type="checkbox"/>	F	V
------------------------------	-------------------------------------	-------------------------------------	---	--	-------------------------------------	-------------------------------------	---	---	-------------------------------------	-------------------------------------	---	---------------	-------------------------------------	-------------------------------------	---	---

16. Escriba el significado de cada señal de tránsito: (Responder como mínimo 5 correctamente)



o puedo girar a la izquierda	<input checked="" type="checkbox"/>	<input checked="" type="checkbox"/>	F	Puente angosto	<input checked="" type="checkbox"/>	<input checked="" type="checkbox"/>	V	Precaución zona montañosa	<input checked="" type="checkbox"/>	<input checked="" type="checkbox"/>	V	Zona escolar	<input checked="" type="checkbox"/>	<input checked="" type="checkbox"/>	F	V
------------------------------	-------------------------------------	-------------------------------------	---	----------------	-------------------------------------	-------------------------------------	---	---------------------------	-------------------------------------	-------------------------------------	---	--------------	-------------------------------------	-------------------------------------	---	---



Ampliación métrica de la calzada	<input checked="" type="checkbox"/>	<input checked="" type="checkbox"/>	F	Niños en la vía	<input checked="" type="checkbox"/>	<input checked="" type="checkbox"/>	F	Zonas de derrumbe	<input checked="" type="checkbox"/>	<input checked="" type="checkbox"/>	V	Descenso peligroso	<input checked="" type="checkbox"/>	<input checked="" type="checkbox"/>	F	V
----------------------------------	-------------------------------------	-------------------------------------	---	-----------------	-------------------------------------	-------------------------------------	---	-------------------	-------------------------------------	-------------------------------------	---	--------------------	-------------------------------------	-------------------------------------	---	---



CÓDIGO: FGH-02

PROCESO DE GESTIÓN HUMANA
PRUEBA TEÓRICA PARA CONDUCTORES

VERSIÓN: ORIGINAL

17. Según la señal de tránsito marque falso o verdadero. El aspirante deberá responder correctamente como mínimo 7 de las 10 señales de tránsito.



Puedo adelantar en cualquier sentido

☒ F ☐ V

Ningún sentido puede adelantar

☐ F ☒ V

Doble sentido y no puedo adelantar

☐ F ☒ V

Puedo adelantar en cualquier sentido

☒ F ☐ V

Puedo adelantar al lado izquierdo

☒ F ☐ V

Separa cada fila de vehículos

☒ F ☐ V

Línea límite para adelantar vehículo

☐ F ☒ V

Cebra o zona peatonal, línea de pare

☐ F ☒ V

18. La arrancada en un ascenso se realiza con la ayuda del freno estacionario
F () V ()

19. El odómetro del tablero de instrumentos, tiene la función de determinar la velocidad
F () V ()

20. La barra estabilizadora hace parte de la dirección del vehículo.
F () V ()

21. Los semáforos, son dispositivos de seguridad activa.
F () V ()

22. La función del aceite en el motor es:

- Lubricar y llenar los conductos, mantener la distancia en las moléculas.
- Lubricar, enfriar, limpiar y proteger, mantener una película de aceite entre los dos metales en movimiento.
- Limpia, cuida el motor y lo protege de la humedad y el calor.
- Mantener los metales en perfecto alineamiento.



PROCESO DE GESTIÓN HUMANA
PRUEBA TEÓRICA PARA CONDUCTORES

CÓDIGO: FGH-02

VERSIÓN: ORIGINAL

23. El ticket de viaje el pasajero lo debe comprar:

- a. Al conductor
- b. Al auxiliar
- ☒ c. En la taquilla
- d. Al despachador

24. Se realiza una revisión pre-operacional, con el fin de determinar las condiciones de:

- a. El buen estado del vehículo.
- b. Para evitar fallas en el trabajo.
- c. Para mejorar el servicio.
- ☒ d. Todas las anteriores.

25. Cuando detectamos que el embrague entra en contacto:

- ☒ a. Cuando el vehículo se acelera.
- b. Cuando el vehículo se apaga.
- c. Cuando el vehículo se mueve.
- d. Cuando el vehículo vibra.

26. Al atender una novedad durante la prestación del servicio se debe actuar:

- a. Alejándose de los problemas del pasajero.
- b. Escuchando la versión o la inquietud del pasajero.
- c. De acuerdo con la gravedad de la novedad presentada.
- ☒ d. Dependiendo del conflicto.

27. Prestar un servicio de calidad, seguro y responsable por parte del conductor amable, es:

- a. Crítica fuerte del cliente.
- b. Satisfacción del usuario.
- ☒ c. Cumplimiento de la ruta
- d. Daños de los equipajes.

28. Dentro del proceso de la prestación del servicio de transporte intermunicipal, la recepción es en:

- a. El terminal de transportes.
- b. El paradero.
- ☒ c. El parqueadero.
- d. El taller.

29. La especificación SAE 15w – 40 corresponde a:

- a. Un aceite para motor multigrado
- b. Un aceite para motor monogrado
- c. Un aceite para motor ATF
- ☒ d. Un aceite para motor hidráulico



PROCESO DE GESTIÓN HUMANA
PRUEBA TEÓRICA PARA CONDUCTORES

CÓDIGO: FGH-02

VERSIÓN: ORIGINAL

30. Las vías urbanas se clasifican en:

- a. Metro vía, troncal, férreas, autopistas, arterias principales y secundarias.
- b. Férreas, autopistas, carreras principales, privadas y peatones.
- c. De uso exclusivo, troncales, ciclo vías, peatonales.
- ☒ d. Carreteras secundarias, autopistas, arterias, principales y recolectoras.

31. Transitar a la defensiva es:

- a. Conducir con seguridad adelantándonos a los hechos y a los actos inseguros
- b. Conducir con agresividad adelantándonos a los demás
- ☒ c. Conducir de tal manera que estemos lejos de los que intervienen en la vía
- d. Ninguna de las anteriores.

32. Un accidente es:

- ☒ a. Cuando los demás no respetan el tránsito
- b. El resultado de manejar a la defensiva
- c. Hecho inesperado que ocurre en la vía por acción de uno o más usuarios.
- d. Todas las anteriores.

33. Algunas de las causas de los accidentes por factor humano son:

- a. Vehículos, vías, señalización
- b. Cansancio, distracción e imprudencia
- ☒ c. Clima, obras, señales
- d. Ninguna de las anteriores.

34. Las decisiones que tomamos al conducir son producto de:

- a. Lo que los demás nos dejan hacer
- b. Lo que imaginamos, lo que queremos
- c. Lo que se ve, lo que se oye, lo que se siente
- ☒ d. Ninguna de las anteriores.

35. La velocidad adecuada es:

- ☒ a. La que las señales nos indiquen en cada lugar
- b. La que el entorno y el medio nos permitan para transitar seguros
- c. La que el vehículo pueda alcanzar.
- d. Ninguna de las anteriores.

36. Distancia de reacción más distancia de frenado es igual a:

- ☒ a. Distancia total para detenerse
- b. Distancia que recorreremos
- c. Distancia para actuar
- d. Distancia de reacción



CÓDIGO: FGH-02

PROCESO DE GESTIÓN HUMANA
PRUEBA TEÓRICA PARA CONDUCTORES

VERSIÓN: ORIGINAL

37. Un conductor profesional integral es el que:

- a. Se comporta como mejor le parezca
- ☒ b. Tiene en cuenta el ser, el hacer y el saber
- c. Conduce de acuerdo a la necesidad
- d. No respeta las normas

Uber Hernandez

FIRMA DEL EVALUADO

NOMBRE: Uber

CEDULA: 4023832095

FIRMA DEL EVALUADOR

NOMBRE: Carolina Rocio

CEDULA: 1053313691