



PROCESO DE GESTIÓN HUMANA
PRUEBA TEÓRICA PARA CONDUCTORES

CÓDIGO: FGH-02

VERSIÓN: ORIGINAL

Fecha: 29-02-20

Nombre del Evaluador: Sonathan

Nombre del evaluado: Sonathan

Cedula: 1029604677

Licencia de conducción: 1029604677

Categoría: C1

Fecha de Vencimiento: 20-05-23

Resultado de la prueba: _____

PRUEBA TEÓRICA

1. Los canales en las llantas sirven para:

- a. Eliminar agua ☒
- b. Tener mejor vida útil ☒
- c. Guardar piedras ☒
- d. Contener aire ☒

2.Cuál es el elemento que no es obligatorio en el equipo de carreteras.

- a. Extintor ☒
- b. Conos ☒
- c. Cables de inicio ☒
- d. Gato ☒

3. Cuando el indicador de temperatura en un equipo de transporte indica 200°F o 104°C

- a. Apagamos el motor ☒
- b. No nos preocupamos ☒
- c. La temperatura es correcta ☒
- d. Ninguna de las anteriores ☒

4. La técnica que deben utilizar los usuarios de la vía en su labor diaria es la de:

- a. Leer la vía ☒
- b. Concentración ☒
- c. Relajación ☒
- d. Comer bien ☒

5. Las señales reglamentarias, tiene por objeto:

- a. Advertir al usuario de la vía, la existencia de un peligro ☒
- b. Guiar al usuario, proporcionándole información que pueda necesitar ☒
- c. Indicar las limitaciones, prohibiciones o restricciones sobre su uso ☒
- d. Modificar transitoriamente el régimen normal de la utilización de la vía ☒

6. Las señales preventivas tienen por objeto

- a. Advertir al usuario de la vía, la existencia de un peligro ☒
- b. Guiar al usuario, proporcionándole información que pueda necesitar ☒
- c. Indicar las limitaciones, prohibiciones o restricciones sobre su uso ☒
- d. Modificar transitoriamente el régimen normal de la utilización de la vía ☒



PROCESO DE GESTIÓN HUMANA
PRUEBA TEÓRICA PARA CONDUCTORES

CÓDIGO: FGH-02

VERSIÓN: ORIGINAL

7. Los documentos que debe portar todo conductor de un vehículo son:

- ☒ a. Cedula y licencia de conducción
- b. Carnet de la EPS
- c. Manejo defensivo y carnet de vacunas
- d. Afiliación a seguridad social

8.Cuál es la Ley por la cual se expide el Código Nacional de Tránsito Terrestre

- a. 106 de 2002
- ☒ b. 769 de 2002
- c. 2556 de 2001
- d. 173 de 2002

9. De acuerdo al Código Nacional de Tránsito, la separación que debe existir entre dos vehículos que circulan, uno detrás del otro en un mismo carril a 70 km/h, es de:

- a. 10 metros
- ☒ b. 25 metros
- c. 20 metros
- d. 1 metro

10. Cuando me encuentre en alguna condición adversa como conductor debo:

- a. Subir el vidrio
- ☒ b. Reducir la marcha o detener el vehículo
- c. Aumentar la intensidad de la luz
- d. Aumentar RPM

11. Para aprovechar mejor la potencia del motor debemos tener en cuenta:

- a. La velocidad
- b. Selección del cambio más seguido
- ☒ c. Las revoluciones del motor
- d. Subir en un cambio pesado

12. Los frenos no responden adecuadamente cuando:

- a. Están nuevos
- b. Las llantas son radiales
- c. El vehículo pesa lo reglamentario
- ☒ d. Se frena demasiado

13. La velocidad máxima en carretera es:

- a. 70 km/h
- b. 90 km/h
- ☒ c. 80 km/h
- d. 65 km/h



PROCESO DE GESTIÓN HUMANA
PRUEBA TEÓRICA PARA CONDUCTORES

CÓDIGO: FGH-02

VERSIÓN: ORIGINAL

14. El límite de velocidad para zonas escolares es:

- a. 60 km/h
- b. 50 km/h
- c. 40 km/h
- d. 30 km/h ☒

15. Escriba el significado de cada señal de tránsito: (Responder como mínimo 5 correctamente)



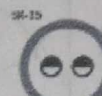
NO PARE



NO ADELANTAR



30 KM



LUCES ALTAS

Puedo parquear mi vehículo por 5 minutos	<input checked="" type="checkbox"/>	<input checked="" type="checkbox"/>	Prohibido adelantar	<input checked="" type="checkbox"/>	<input checked="" type="checkbox"/>	Ancho de carril 3.20 metros	F	<input checked="" type="checkbox"/>	Circulación con luces altas	F	<input checked="" type="checkbox"/>
--	-------------------------------------	-------------------------------------	---------------------	-------------------------------------	-------------------------------------	-----------------------------	---	-------------------------------------	-----------------------------	---	-------------------------------------



NO GIRAR A LA DERECHA



PROHIBIDO



NO PASO CAMIONES



NO PASO ADELANTAR

Permitido girar a la derecha	<input checked="" type="checkbox"/>	<input checked="" type="checkbox"/>	Puedo detener el vehículo pero no más de 5 minutos	<input checked="" type="checkbox"/>	<input checked="" type="checkbox"/>	Prohibida la circulación de vehículo de carga	F	<input checked="" type="checkbox"/>	Siga adelante	<input checked="" type="checkbox"/>	<input checked="" type="checkbox"/>
------------------------------	-------------------------------------	-------------------------------------	--	-------------------------------------	-------------------------------------	---	---	-------------------------------------	---------------	-------------------------------------	-------------------------------------

16. Escriba el significado de cada señal de tránsito: (Responder como mínimo 5 correctamente)



NO GIRAR A LA IZQUIERDA



PUEBLO ANOSTO



PRECAUCIÓN ZONA MONTAÑOSA



ZONA ESCOLAR


No puedo girar a la izquierda	<input checked="" type="checkbox"/>	<input checked="" type="checkbox"/>	Puerto angosto	F	<input checked="" type="checkbox"/>	Precaución zona montañosa	F	<input checked="" type="checkbox"/>	Zona escolar	F	<input checked="" type="checkbox"/>
-------------------------------	-------------------------------------	-------------------------------------	----------------	---	-------------------------------------	---------------------------	---	-------------------------------------	--------------	---	-------------------------------------




AMPLIACIÓN SIMÉTRICA DE LA CALZADA



NIÑOS EN LA VÍA



ZONAS DE DERRUMBE



DESCENSO PELIGROSO

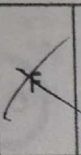
Ampliación simétrica de la calzada	F	<input checked="" type="checkbox"/>	Niños en la vía	<input checked="" type="checkbox"/>	<input checked="" type="checkbox"/>	Zonas de derrumbe	F	<input checked="" type="checkbox"/>	Descenso peligroso	F	<input checked="" type="checkbox"/>
------------------------------------	---	-------------------------------------	-----------------	-------------------------------------	-------------------------------------	-------------------	---	-------------------------------------	--------------------	---	-------------------------------------



17. Según la señal de tránsito marque falso o verdadero. El aspirante deberá responder correctamente como mínimo 7 de las 10 señales de tránsito.



Puedo adelantar en cualquier sentido



V

Ningún sentido puede adelantar

F





Doble sentido y no puedo adelantar




V

Puedo adelantar en cualquier sentido




Puedo adelantar al lado izquierdo



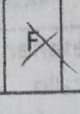
V

Separa cada fila de vehículos

F

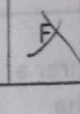


Línea límite para adelantar vehículo



V

Cebra o zona peatonal, línea de pare



V

18. La arrancada en un ascenso se realiza con la ayuda del freno estacionario

F (X) V ()



19. El odómetro del tablero de instrumentos, tiene la función de determinar la velocidad

F () V (X)



20. La barra estabilizadora hace parte de la dirección del vehículo.

F () V (X)



21. Los semáforos, son dispositivos de seguridad activa.

F () V (X)



22. La función del aceite en el motor es:

- a. Lubricar y llenar los conductos, mantener la distancia en las moléculas.
- b. Lubricar, enfriar, limpiar y proteger, mantener una película de aceite entre los dos metales en movimiento.
- c. Limpia, cuida el motor y lo protege de la humedad y el calor.
- d. Mantener los metales en perfecto alineamiento.



PROCESO DE GESTIÓN HUMANA
PRUEBA TEÓRICA PARA CONDUCTORES

CÓDIGO: FGH-02

VERSIÓN: ORIGINAL

23. El ticket de viaje el pasajero lo debe comprar:

- a. Al conductor
- b. Al auxiliar
- c. En la taquilla ☒
- d. Al despachador

24. Se realiza una revisión pre-operacional, con el fin de determinar las condiciones de:

- a. El buen estado del vehículo. ☒
- b. Para evitar fallas en el trabajo.
- c. Para mejorar el servicio.
- d. Todas las anteriores.

25. Cuando detectamos que el embrague entra en contacto:

- a. Cuando el vehículo se acelera.
- b. Cuando el vehículo se apaga.
- c. Cuando el vehículo se mueve. ☒
- d. Cuando el vehículo vibra.

26. Al atender una novedad durante la prestación del servicio se debe actuar:

- a. Alejándose de los problemas del pasajero. ☒
- b. Escuchando la versión o la inquietud del pasajero.
- c. De acuerdo con la gravedad de la novedad presentada. ☒
- d. Dependiendo del conflicto.

27. Prestar un servicio de calidad, seguro y responsable por parte del conductor amable, es:

- a. Crítica fuerte del cliente.
- b. Satisfacción del usuario. ☒
- c. Cumplimiento de la ruta
- d. Daños de los equipajes.

28. Dentro del proceso de la prestación del servicio de transporte intermunicipal, la recepción es en:

- a. El terminal de transportes.
- b. El paradero. ☒
- c. El parqueadero.
- d. El taller.

29. La especificación SAE 15w - 40 corresponde a:

- a. Un aceite para motor multigrado ☒
- b. Un aceite para motor monogrado
- c. Un aceite para motor ATF
- d. Un aceite para motor hidráulico



PROCESO DE GESTIÓN HUMANA
PRUEBA TEÓRICA PARA CONDUCTORES

CÓDIGO: FGH-02

VERSIÓN: ORIGINAL

30. Las vías urbanas se clasifican en:

- a. Metro vía, troncal, férreas, autopistas, arterias principales y secundarias.
- b. Férreas, autopistas, carreras principales, privadas y peatones.
- c. De uso exclusivo, troncales, ciclo vías, peatonales.
- ☒ d. Carreteras secundarias, autopistas, arterias, principales y recolectoras.

31. Transitar a la defensiva es:

- ☒ a. Conducir con seguridad adelantándonos a los hechos y a los actos inseguros
- b. Conducir con agresividad adelantándonos a los demás
- c. Conducir de tal manera que estemos lejos de los que intervienen en la vía
- d. Ninguna de las anteriores.

32. Un accidente es:

- a. Cuando los demás no respetan el tránsito
- b. El resultado de manejar a la defensiva
- ☒ c. Hecho inesperado que ocurre en la vía por acción de uno o más usuarios.
- d. Todas las anteriores.

33. Algunas de las causas de los accidentes por factor humano son:

- a. Vehículos, vías, señalización
- ☒ b. Cansancio, distracción e imprudencia
- c. Clima, obras, señales
- d. Ninguna de las anteriores.

34. Las decisiones que tomamos al conducir son producto de:

- a. Lo que los demás nos dejan hacer
- b. Lo que imaginamos, lo que queremos
- ☒ c. Lo que se ve, lo que se oye, lo que se siente
- d. Ninguna de las anteriores.

35. La velocidad adecuada es:

- ☒ a. La que las señales nos indiquen en cada lugar
- b. La que el entorno y el medio nos permitan para transitar seguros
- c. La que el vehículo pueda alcanzar.
- d. Ninguna de las anteriores.

36. Distancia de reacción más distancia de frenado es igual a:

- ☒ a. Distancia total para detenerse
- b. Distancia que recorreremos
- c. Distancia para actuar
- d. Distancia de reacción



TRANSLADOS Y LOGÍSTICA
TRANSPORTES S.A.S.

PROCESO DE GESTIÓN HUMANA
PRUEBA TEÓRICA PARA CONDUCTORES

CÓDIGO: FGH-02

VERSIÓN: ORIGINAL

37. Un conductor profesional integral es el que:

- a. Se comporta como mejor le parezca
- ☒ b. Tiene en cuenta el ser, el hacer y el saber
- c. Conduce de acuerdo a la necesidad
- d. No respeta las normas

FIRMA DEL EVALUADO

NOMBRE:

CEDULA:

FIRMA DEL EVALUADOR

NOMBRE:

CEDULA: