


| | | |
|---|---------------------------------|-------------------|
|  | PROCESO DE GESTIÓN HUMANA | |
| | PRUEBA TEÓRICA PARA CONDUCTORES | |
| | CÓDIGO: FGH-02 | VERSIÓN: ORIGINAL |

Fecha: 2 de marzo de 2022

Nombre del Evaluador: _____

Nombre del evaluado: José E. Forero M.

Cedula: 79'964.291

Licencia de conducción: 79964291

Categoría: C3

Fecha de Vencimiento: 02/06/2024

Resultado de la prueba: _____

PRUEBA TEÓRICA

1. Los canales en las llantas sirven para:
 - ☒ a. Eliminar agua
 - b. Tener mejor vida útil
 - c. Guardar piedras
 - d. Contener aire

- 2.Cuál es el elemento que no es obligatorio en el equipo de carreteras.
 - a. Extintor
 - b. Conos
 - ☒ c. Cables de inicio
 - d. Gato

3. Cuando el indicador de temperatura en un equipo de transporte indica 200°F o 104°C
 - ☒ a. Apagamos el motor
 - b. No nos preocupamos
 - c. La temperatura es correcta
 - d. Ninguna de las anteriores

4. La técnica que deben utilizar los usuarios de la vía en su labor diaria es la de:
 - a. Leer la vía
 - ☒ b. Concentración
 - c. Relajación
 - d. Comer bien

5. Las señales reglamentarias, tiene por objeto:
 - a. Advertir al usuario de la vía, la existencia de un peligro
 - b. Guiar al usuario, proporcionándole información que pueda necesitar
 - ☒ c. Indicar las limitaciones, prohibiciones o restricciones sobre su uso
 - d. Modificar transitoriamente el régimen normal de la utilización de la vía

6. Las señales preventivas tienen por objeto
 - ☒ a. Advertir al usuario de la vía, la existencia de un peligro
 - b. Guiar al usuario, proporcionándole información que pueda necesitar
 - c. Indicar las limitaciones, prohibiciones o restricciones sobre su uso
 - d. Modificar transitoriamente el régimen normal de la utilización de la vía



PROCESO DE GESTIÓN HUMANA
PRUEBA TEÓRICA PARA CONDUCTORES

CÓDIGO: FGH-02

VERSIÓN: ORIGINAL

7. Los documentos que debe portar todo conductor de un vehículo son:

- ☒ a. Cedula y licencia de conducción
- b. Carnet de la EPS
- c. Manejo defensivo y carnet de vacunas
- d. Afiliación a seguridad social

8.Cuál es la Ley por la cual se expide el Código Nacional de Tránsito Terrestre

- a. 106 de 2002
- ☒ b. 769 de 2002
- c. 2556 de 2001
- d. 173 de 2002

9. De acuerdo al Código Nacional de Tránsito, la separación que debe existir entre dos vehículos que circulan, uno detrás del otro en un mismo carril a 70 km/h, es de:

- a. 10 metros
- ☒ b. 25 metros
- c. 20 metros
- d. 1 metro

10. Cuando me encuentre en alguna condición adversa como conductor debo:

- a. Subir el vidrio
- ☒ b. Reducir la marcha o detener el vehículo
- c. Aumentar la intensidad de la luz
- d. Aumentar RPM

11. Para aprovechar mejor la potencia del motor debemos tener en cuenta:


- a. La velocidad
- b. Selección del cambio más seguido
- ☒ c. Las revoluciones del motor
- d. Subir en un cambio pesado

12. Los frenos no responden adecuadamente cuando:

- a. Están nuevos
- b. Las llantas son radiales
- c. El vehículo pesa lo reglamentario
- ☒ d. Se frena demasiado

13. La velocidad máxima en carretera es:



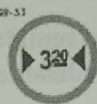

- a. 70 km/h
- b. 90 km/h
- ☒ c. 80 km/h
- d. 65 km/h





| | | |
|---|---------------------------------|-------------------|
|  | PROCESO DE GESTIÓN HUMANA | |
| | PRUEBA TEÓRICA PARA CONDUCTORES | |
| | CÓDIGO: FGH-02 | VERSIÓN: ORIGINAL |

14. El límite de velocidad para zonas escolares es:





- a. 60 km/h
- b. 50 km/h
- c. 40 km/h
- ☒ 30 km/h





15. Escriba el significado de cada señal de tránsito: (Responder como mínimo 5 correctamente)

| | | | |
|---|---|---|---|
|  |  |  |  |
| Puedo parquear mi vehículo por 5 minutos | Prohibido adelantar | Ancho de carril 3.20 metros | Circulación con luces altas |
| <input checked="" type="checkbox"/> | <input checked="" type="checkbox"/> | <input checked="" type="checkbox"/> | <input checked="" type="checkbox"/> |
| V | F | F | V |

| | | | |
|--|--|--|--|
|  |  |  |  |
| Permitido girar a la derecha | Puedo detener el vehículo pero no más de 5 minutos | Prohibida la circulación de vehículo de carga | Siga adelante |
| <input checked="" type="checkbox"/> | <input checked="" type="checkbox"/> | <input checked="" type="checkbox"/> | <input checked="" type="checkbox"/> |
| V | V | F | V |

16. Escriba el significado de cada señal de tránsito: (Responder como mínimo 5 correctamente)

| | | | |
|---|---|--|---|
|  |  |  |  |
| No puedo girar a la izquierda | Puente angosto | Precaución zona montañosa | Zona escolar |
| <input checked="" type="checkbox"/> | <input checked="" type="checkbox"/> | <input checked="" type="checkbox"/> | <input checked="" type="checkbox"/> |
| V | F | V | F |

| | | | |
|---|---|--|---|
|  |  |  |  |
| Ampliación simétrica de la calzada | Niños en la vía | Zonas de derrumbe | Descenso peligroso |
| <input checked="" type="checkbox"/> | <input checked="" type="checkbox"/> | <input checked="" type="checkbox"/> | <input checked="" type="checkbox"/> |
| V | V | F | F |

17. Según la señal de tránsito marque falso o verdadero. El aspirante deberá responder correctamente como mínimo 7 de las 10 señales de tránsito.



| | | | | | | | | | | | |
|--------------------------------------|-------------------------------------|---|--------------------------------|---|-------------------------------------|------------------------------------|-------------------------------------|---|--------------------------------------|---|-------------------------------------|
| Puedo adelantar en cualquier sentido | <input checked="" type="checkbox"/> | V | Ningún sentido puede adelantar | F | <input checked="" type="checkbox"/> | Doble sentido y no puedo adelantar | <input checked="" type="checkbox"/> | V | Puedo adelantar en cualquier sentido | F | <input checked="" type="checkbox"/> |
|--------------------------------------|-------------------------------------|---|--------------------------------|---|-------------------------------------|------------------------------------|-------------------------------------|---|--------------------------------------|---|-------------------------------------|



| | | | | | | | | | | | |
|-----------------------------------|---|-------------------------------------|-------------------------------|---|-------------------------------------|--------------------------------------|-------------------------------------|---|--------------------------------------|---|-------------------------------------|
| Puedo adelantar al lado izquierdo | F | <input checked="" type="checkbox"/> | Separa cada fila de vehículos | F | <input checked="" type="checkbox"/> | Línea límite para adelantar vehículo | <input checked="" type="checkbox"/> | V | Cebra o zona peatonal, línea de pare | F | <input checked="" type="checkbox"/> |
|-----------------------------------|---|-------------------------------------|-------------------------------|---|-------------------------------------|--------------------------------------|-------------------------------------|---|--------------------------------------|---|-------------------------------------|

18. La arrancada en un ascenso se realiza con la ayuda del freno estacionario
F () V(☒)

19. El odómetro del tablero de instrumentos, tiene la función de determinar la velocidad
F () V(☒)

20. La barra estabilizadora hace parte de la dirección del vehículo.
F(☒) V()

21. Los semáforos, son dispositivos de seguridad activa.
F () V(☒)

22. La función del aceite en el motor es:

- Lubricar y llenar los conductos, mantener la distancia en las moléculas.
- ☒ Lubricar, enfriar, limpiar y proteger, mantener una película de aceite entre los dos metales en movimiento.
- Limpia, cuida el motor y lo protege de la humedad y el calor.
- Mantener los metales en perfecto alineamiento.



PROCESO DE GESTIÓN HUMANA
PRUEBA TEÓRICA PARA CONDUCTORES

CÓDIGO: FGH-02

VERSIÓN: ORIGINAL

23. El ticket de viaje el pasajero lo debe comprar:

- a. Al conductor
- b. Al auxiliar
- ☒ c. En la taquilla
- d. Al despachador

24. Se realiza una revisión pre-operacional, con el fin de determinar las condiciones de:

- a. El buen estado del vehículo.
- b. Para evitar fallas en el trabajo.
- c. Para mejorar el servicio.
- ☒ d. Todas las anteriores.

25. Cuando detectamos que el embrague entra en contacto:

- a. Cuando el vehículo se acelera.
- b. Cuando el vehículo se apaga.
- ☒ c. Cuando el vehículo se mueve.
- d. Cuando el vehículo vibra.

26. Al atender una novedad durante la prestación del servicio se debe actuar:

- a. Alejándose de los problemas del pasajero.
- ☒ b. Escuchando la versión o la inquietud del pasajero.
- c. De acuerdo con la gravedad de la novedad presentada.
- d. Dependiendo del conflicto.

27. Prestar un servicio de calidad, seguro y responsable por parte del conductor amable, es:

- a. Crítica fuerte del cliente.
- ☒ b. Satisfacción del usuario.
- c. Cumplimiento de la ruta
- d. Daños de los equipajes.

28. Dentro del proceso de la prestación del servicio de transporte intermunicipal, la recepción es en:

- ☒ a. El terminal de transportes.
- b. El paradero.
- c. El parqueadero.
- d. El taller.

29. La especificación SAE 15w – 40 corresponde a:

- ☒ a. Un aceite para motor multigrado
- b. Un aceite para motor monogrado
- c. Un aceite para motor ATF
- d. Un aceite para motor hidráulico



PROCESO DE GESTIÓN HUMANA
PRUEBA TEÓRICA PARA CONDUCTORES

CÓDIGO: FGH-02

VERSIÓN: ORIGINAL

30. Las vías urbanas se clasifican en:

- ☒ a. Metro vía, troncal, férreas, autopistas, arterias principales y secundarias.
- b. Férreas, autopistas, carreras principales, privadas y peatones.
- c. De uso exclusivo, troncales, ciclo vías, peatonales.
- d. Carreteras secundarias, autopistas, arterias, principales y recolectoras.

31. Transitar a la defensiva es:

- ☒ a. Conducir con seguridad adelantándonos a los hechos y a los actos inseguros
- b. Conducir con agresividad adelantándonos a los demás
- c. Conducir de tal manera que estemos lejos de los que intervienen en la vía
- d. Ninguna de las anteriores.

32. Un accidente es:

- a. Cuando los demás no respetan el tránsito
- b. El resultado de manejar a la defensiva
- ☒ c. Hecho inesperado que ocurre en la vía por acción de uno o más usuarios.
- d. Todas las anteriores.

33. Algunas de las causas de los accidentes por factor humano son:

- a. Vehículos, vías, señalización
- ☒ b. Cansancio, distracción e imprudencia
- c. Clima, obras, señales
- d. Ninguna de las anteriores.

34. Las decisiones que tomamos al conducir son producto de:


- a. Lo que los demás nos dejan hacer
- b. Lo que imaginamos, lo que queremos
- ☒ c. Lo que se ve, lo que se oye, lo que se siente
- d. Ninguna de las anteriores.

35. La velocidad adecuada es:

- ☒ a. La que las señales nos indiquen en cada lugar
- b. La que el entorno y el medio nos permitan para transitar seguros
- c. La que el vehículo pueda alcanzar.
- d. Ninguna de las anteriores.

36. Distancia de reacción más distancia de frenado es igual a:

- ☒ a. Distancia total para detenerse
- b. Distancia que recorremos
- c. Distancia para actuar
- d. Distancia de reacción



PROCESO DE GESTIÓN HUMANA
PRUEBA TEÓRICA PARA CONDUCTORES

CÓDIGO: FGH-02

VERSIÓN: ORIGINAL

37. Un conductor profesional integral es el que:

- a. Se comporta como mejor le parezca
- ☒ b. Tiene en cuenta el ser, el hacer y el saber
- c. Conduce de acuerdo a la necesidad
- d. No respeta las normas

FIRMA DEL EVALUADO

NOMBRE: Jose E. Forero M.

CEDULA: 79'964.291

FIRMA DEL EVALUADOR

NOMBRE:

CEDULA: