	PROCESO DE GESTIÓN HUMANA	
	PRUEBA TEÓRICA PARA CONDUCTORES	
	CÓDIGO: FGH-02	VERSIÓN: ORIGINAL

Fecha: 30 Abril 2021

Nombre del Evaluador: Carolina Florio

Nombre del evaluado: Alejo Hernandez

Cedula: 80.436.126

Licencia de conducción: 80.436.126

Categoría: 21 Fecha de Vencimiento: 29 Abril 2024

Resultado de la prueba: 36/37

PRUEBA TEÓRICA

- Los canales en las llantas sirven para:
 - ☒ Eliminar agua
 - ☐ Tener mejor vida útil
 - ☐ Guardar piedras
 - ☐ Contener aire
- Cuál es el elemento que no es obligatorio en el equipo de carreteras.
 - ☐ Extintor
 - ☐ Conos
 - ☒ Cables de inicio
 - ☐ Gato
- Cuando el indicador de temperatura en un equipo de transporte indica 200°F o 104°C
 - ☒ Apagamos el motor
 - ☐ No nos preocupamos
 - ☐ La temperatura es correcta
 - ☐ Ninguna de las anteriores
- La técnica que deben utilizar los usuarios de la vía en su labor diaria es la de:
 - ☐ Leer la vía
 - ☒ Concentración
 - ☐ Relajación
 - ☐ Comer bien
- Las señales reglamentarias, tiene por objeto:
 - ☐ Advertir al usuario de la vía, la existencia de un peligro
 - ☒ Guiar al usuario, proporcionándole información que pueda necesitar
 - ☐ Indicar las limitaciones, prohibiciones o restricciones sobre su uso
 - ☐ Modificar transitoriamente el régimen normal de la utilización de la vía
- Las señales preventivas tienen por objeto
 - ☒ Advertir al usuario de la vía, la existencia de un peligro
 - ☐ Guiar al usuario, proporcionándole información que pueda necesitar
 - ☐ Indicar las limitaciones, prohibiciones o restricciones sobre su uso
 - ☐ Modificar transitoriamente el régimen normal de la utilización de la vía



PROCESO DE GESTIÓN HUMANA
PRUEBA TEÓRICA PARA CONDUCTORES

CÓDIGO: FGH-02

VERSIÓN: ORIGINAL

7. Los documentos que debe portar todo conductor de un vehículo son:

- ☒ a. Cedula y licencia de conducción
- b. Carnet de la EPS
- c. Manejo defensivo y carnet de vacunas
- d. Afiliación a seguridad social

8.Cuál es la Ley por la cual se expide el Código Nacional de Tránsito Terrestre

- a. 106 de 2002
- ☒ b. 769 de 2002
- c. 2556 de 2001
- d. 173 de 2002

9. De acuerdo al Código Nacional de Tránsito, la separación que debe existir entre dos vehículos que circulan, uno detrás del otro en un mismo carril a 70 km/h, es de:

- a. 10 metros
- b. 25 metros
- ☒ c. 20 metros
- d. 1 metro

10. Cuando me encuentre en alguna condición adversa como conductor debo:

- a. Subir el vidrio
- ☒ b. Reducir la marcha o detener el vehículo
- c. Aumentar la intensidad de la luz
- d. Aumentar RPM

11. Para aprovechar mejor la potencia del motor debemos tener en cuenta:


- a. La velocidad
- b. Selección del cambio más seguido
- ☒ c. Las revoluciones del motor
- d. Subir en un cambio pesado

12. Los frenos no responden adecuadamente cuando:

- a. Están nuevos
- b. Las llantas son radiales
- c. El vehículo pesa lo reglamentario
- ☒ d. Se frena demasiado

13. La velocidad máxima en carretera es:





- a. 70 km/h
- b. 90 km/h
- ☒ c. 80 km/h
- d. 65 km/h





	PROCESO DE GESTIÓN HUMANA	
	PRUEBA TEÓRICA PARA CONDUCTORES	
	CÓDIGO: FGH-02	VERSIÓN: ORIGINAL

14. El límite de velocidad para zonas escolares es:





- a. 60 km/h
- b. 50 km/h
- c. 40 km/h
- ☒ 30 km/h





15. Escriba el significado de cada señal de tránsito: (Responder como mínimo 5 correctamente)


			
Puedo parquear mi vehículo por 5 minutos	Prohibido adelantar	Ancho de carril 3.20 metros	Circulación con luces altas
<input checked="" type="checkbox"/> F <input type="checkbox"/> V	<input type="checkbox"/> F <input checked="" type="checkbox"/> V	<input type="checkbox"/> F <input checked="" type="checkbox"/> V	<input checked="" type="checkbox"/> F <input type="checkbox"/> V

			
Permitido girar a la derecha	Puedo detener el vehículo pero no más de 5 minutos	Prohibida la circulación de vehículo de carga	Siga adelante
<input checked="" type="checkbox"/> F <input type="checkbox"/> V	<input checked="" type="checkbox"/> F <input type="checkbox"/> V	<input type="checkbox"/> F <input checked="" type="checkbox"/> V	<input checked="" type="checkbox"/> F <input type="checkbox"/> V

16. Escriba el significado de cada señal de tránsito: (Responder como mínimo 5 correctamente)

			
No puedo girar a la izquierda	Puente angosto	Precaución zona montañosa	Zona escolar
<input checked="" type="checkbox"/> F <input type="checkbox"/> V	<input type="checkbox"/> F <input checked="" type="checkbox"/> V	<input checked="" type="checkbox"/> F <input type="checkbox"/> V	<input type="checkbox"/> F <input checked="" type="checkbox"/> V

			
Ampliación simétrica de la calzada	Niños en la vía	Zonas de derrumbe	Descenso peligroso
<input checked="" type="checkbox"/> F <input type="checkbox"/> V	<input checked="" type="checkbox"/> F <input type="checkbox"/> V	<input type="checkbox"/> F <input checked="" type="checkbox"/> V	<input type="checkbox"/> F <input checked="" type="checkbox"/> V

	PROCESO DE GESTIÓN HUMANA	
	PRUEBA TEÓRICA PARA CONDUCTORES	
	CÓDIGO: FGH-02	VERSIÓN: ORIGINAL

17. Según la señal de tránsito marque falso o verdadero. El aspirante deberá responder correctamente como mínimo 7 de las 10 señales de tránsito.



Puedo adelantar en cualquier sentido	<input checked="" type="checkbox"/>	V	Ningún sentido puede adelantar	F	<input checked="" type="checkbox"/>	Doble sentido y no puedo adelantar	<input checked="" type="checkbox"/>	V	Puedo adelantar en cualquier sentido	F	<input checked="" type="checkbox"/>
--------------------------------------	-------------------------------------	---	--------------------------------	---	-------------------------------------	------------------------------------	-------------------------------------	---	--------------------------------------	---	-------------------------------------



Puedo adelantar al lado izquierdo	F	<input checked="" type="checkbox"/>	Separa cada fila de vehículos	<input checked="" type="checkbox"/>	V	Línea límite para adelantar vehículo	<input checked="" type="checkbox"/>	V	Cebra o zona peatonal, línea de pare	F	<input checked="" type="checkbox"/>
-----------------------------------	---	-------------------------------------	-------------------------------	-------------------------------------	---	--------------------------------------	-------------------------------------	---	--------------------------------------	---	-------------------------------------

18. La arrancada en un ascenso se realiza con la ayuda del freno estacionario
F () V (☒)

19. El odómetro del tablero de instrumentos, tiene la función de determinar la velocidad
F (☒) V () ☒

20. La barra estabilizadora hace parte de la dirección del vehículo.
F () V (☒)

21. Los semáforos, son dispositivos de seguridad activa.
F () V (☒)

22. La función del aceite en el motor es:

- Lubricar y llenar los conductos, mantener la distancia en las moléculas.
- ☒ Lubricar, enfriar, limpiar y proteger, mantener una película de aceite entre los dos metales en movimiento.
- Limpia, cuida el motor y lo protege de la humedad y el calor.
- Mantener los metales en perfecto alineamiento.



PROCESO DE GESTIÓN HUMANA
PRUEBA TEÓRICA PARA CONDUCTORES

CÓDIGO: FGH-02

VERSIÓN: ORIGINAL

23. El ticket de viaje el pasajero lo debe comprar:

- a. Al conductor
- b. Al auxiliar
- ☒ c. En la taquilla
- d. Al despachador

24. Se realiza una revisión pre-operacional, con el fin de determinar las condiciones de:

- a. El buen estado del vehículo.
- b. Para evitar fallas en el trabajo.
- c. Para mejorar el servicio.
- ☒ d. Todas las anteriores.

25. Cuando detectamos que el embrague entra en contacto:

- ☒ a. Cuando el vehículo se acelera.
- b. Cuando el vehículo se apaga.
- c. Cuando el vehículo se mueve.
- d. Cuando el vehículo vibra.

26. Al atender una novedad durante la prestación del servicio se debe actuar:

- a. Alejándose de los problemas del pasajero.
- b. Escuchando la versión o la inquietud del pasajero.
- ☒ c. De acuerdo con la gravedad de la novedad presentada.
- d. Dependiendo del conflicto.

27. Prestar un servicio de calidad, seguro y responsable por parte del conductor amable, es:

- a. Crítica fuerte del cliente.
- ☒ b. Satisfacción del usuario.
- c. Cumplimiento de la ruta
- d. Daños de los equipajes.

28. Dentro del proceso de la prestación del servicio de transporte intermunicipal, la recepción es en:

- ☒ a. El terminal de transportes.
- b. El paradero.
- c. El parqueadero.
- d. El taller.

29. La especificación SAE 15w – 40 corresponde a:

- ☒ a. Un aceite para motor multigrado
- b. Un aceite para motor monogrado
- c. Un aceite para motor ATF
- d. Un aceite para motor hidráulico



PROCESO DE GESTIÓN HUMANA
PRUEBA TEÓRICA PARA CONDUCTORES

CÓDIGO: FGH-02

VERSIÓN: ORIGINAL

30. Las vías urbanas se clasifican en:

- ☒ a. Metro vía, troncal, férreas, autopistas, arterias principales y secundarias.
- b. Férreas, autopistas, carreras principales, privadas y peatones.
- c. De uso exclusivo, troncales, ciclo vías, peatonales.
- d. Carreteras secundarias, autopistas, arterias, principales y recolectoras.

31. Transitar a la defensiva es:

- ☒ a. Conducir con seguridad adelantándonos a los hechos y a los actos inseguros
- b. Conducir con agresividad adelantándonos a los demás
- c. Conducir de tal manera que estemos lejos de los que intervienen en la vía
- d. Ninguna de las anteriores.

32. Un accidente es:

- a. Cuando los demás no respetan el tránsito
- b. El resultado de manejar a la defensiva
- ☒ c. Hecho inesperado que ocurre en la vía por acción de uno o más usuarios.
- d. Todas las anteriores.

33. Algunas de las causas de los accidentes por factor humano son:

- a. Vehículos, vías, señalización
- ☒ b. Cansancio, distracción e imprudencia
- c. Clima, obras, señales
- d. Ninguna de las anteriores.

34. Las decisiones que tomamos al conducir son producto de:

- a. Lo que los demás nos dejan hacer
- b. Lo que imaginamos, lo que queremos
- c. Lo que se ve, lo que se oye, lo que se siente
- ☒ d. Ninguna de las anteriores.

35. La velocidad adecuada es:

- ☒ a. La que las señales nos indiquen en cada lugar
- b. La que el entorno y el medio nos permitan para transitar seguros
- c. La que el vehículo pueda alcanzar.
- d. Ninguna de las anteriores.

36. Distancia de reacción más distancia de frenado es igual a:

- ☒ a. Distancia total para detenerse
- b. Distancia que recorremos
- c. Distancia para actuar
- d. Distancia de reacción



PROCESO DE GESTIÓN HUMANA
PRUEBA TEÓRICA PARA CONDUCTORES

CÓDIGO: FGH-02


VERSIÓN: ORIGINAL

37. Un conductor profesional integral es el que:

- a. Se comporta como mejor le parezca
- ☒ b. Tiene en cuenta el ser, el hacer y el saber
- c. Conduce de acuerdo a la necesidad
- d. No respeta las normas


FIRMA DEL EVALUADO

NOMBRE: Aled Mendez
CEDULA: 80.436126


FIRMA DEL EVALUADOR
NOMBRE: Carolina Plonco
CEDULA: 105334369A