	PROCESO SG-SST	Código	P-SIG-PESV-PROC -09
		Versión	02
	PRUEBA TEORICA PARA CONDUCTORES	Fecha	12/01/2025

TALLER MANEJO

Ingreso _____

Placa: 500Q857

Seguimiento _____

Anual _____

Nombre: Alexander Alvarez Identificación No.: 19468563

Fecha: _____ Ciudad: _____

TEMA	MANEJO
CALIFICACIÓN	9.8
PUNTAJE TOTAL	Aprobó SI

Referente de Calificación

TEMA	MANEJO
PUNTAJE APROBADO	27


EN LAS SIGUIENTES PREGUNTAS MARCA CON UNA X LA RESPUESTA ADECUADA

1. Líneas discontinuas blancas en el pavimento quieren decir:

- A-Que se permite cruzar la línea con precaución
- B-Que el carril izquierdo es para ciclistas y motoristas
- ☒ C-Que el tráfico se mueve en ambas direcciones
- D-Que no se permite cambiar de carril
- E-Puedes cambiar de carril cuando sea seguro hacerlo

2. Ante una sola línea amarilla discontinua separando dos carriles de tránsito que se mueven en direcciones opuestas...

- A-Puedo cruzar la línea siempre para cambiar de carril
- B-No puedo cruzar la línea en ningún caso
- ☒ C-Puedo cruzar temporalmente la línea cuando rebaso un vehículo que se encuentra frente a mí
- D-Debo mantenerme a la izquierda de la línea

 GLOBAL SERVICE LOGISTICS S.A.S SERVICIOS EN TRANSPORTES, TURISMO, CORPORATIVOS Y LOGISTICOS	PROCESO SG-SST	Código	P-SIG-PESV-PROC -09
		Versión	02
	PRUEBA TEORICA PARA CONDUCTORES	Fecha	12/01/2025

3. Si al aproximarse a una intersección ve esta señal y no hay una línea de detención.
¿Qué debe hacer?

- A-No avanzar y dar vuelta de inmediato
- B-Avanzar lentamente sin detenerte
- ☒ C-Detenerme antes de ingresar en la intersección
- D-Detenerme justo después ingresar en la intersección.

4. Si está en una intersección y escuchas la sirena de algún vehículo de emergencia, debe...

- ☒ A-No avanzar y detenerte de inmediato en la intersección
- B-Avanzar lentamente y detenerte en la intersección
- C-Continuar a través de la intersección y detenerte
- D-Continuar a través de la intersección y avanzar lentamente

5. Mientras conduces en la neblina, debes usar tus...

- ☒ A-Luces bajas
- B-Luces de emergencia
- C-Luces altas
- D-Luces de estacionamiento

6. Cuando haya una línea amarilla sólida y una discontinua en carriles opuestos de tráfico, no debes rebasar...


- A-Si la línea discontinua está de tu lado
- B-Si la línea sólida no está de tu lado
- ☒ C-Si la línea sólida está de tu lado
- D-Ninguna de las anteriores

7. Este letrero azul indica...

- A-Un hospital adelante
- B-Una carretera interestatal adelante
- C-Un hotel adelante
- D-Un estacionamiento para personas con discapacidad adelante

8. Si ves un animal en tu camino, debes...

- A-Aumentar la velocidad y pasar al animal rápidamente
- B-Usar el claxon y mantener tu velocidad
- ☒ C-Reducir la velocidad

	PROCESO SG-SST	Código	P-SIG-PESV-PROC -09
		Versión	02
	PRUEBA TEORICA PARA CONDUCTORES	Fecha	12/01/2025

D-Abrir la ventana y gritarle al animal

9. Si ves dos líneas amarillas sólidas en tu camino, esto significa que...

- A-Rebasar está permitido en cualquier momento
- ☒ B-Rebasar está prohibido
- C-Rebasar está permitido durante el día
- D-Rebasar está permitido durante la noche

10. Las señales amarillas y con forma de diamante, con letras o símbolos negros...

- A-Son señales de detención
- B-Son señales de destino
- ☒ C-Son señales de advertencia
- D-Son señales de servicio

11. ¿Qué debe hacer en condiciones climatológicas inusuales?

- A-Aumentar la velocidad
- B-Aumentar la intensidad de las luces
- ☒ C-Aumentar la distancia entre el vehículo de delante y el mío
- D-Cambiar de carril frecuentemente

12. Si pierdes el control del volante, debes...

- A-Quitar el pie de los frenos
- ☒ B-Quitar el pie del acelerador
- C-Cambiar de velocidad
- D-Aplicar el freno de mano

13.Cuál de las siguientes señales indica al conductor que se aproxima a una glorieta

SP56



A

SP56A



B


SP24



C

SP20



	PROCESO SG-SST	Código	P-SIG-PESV-PROC -09
		Versión	02
	PRUEBA TEORICA PARA CONDUCTORES	Fecha	12/01/2025

14.Cuál de las siguientes señales indica al conductor que la vía está cerrada



15. ¿Cuál de las siguientes señales es una señal de tránsito vertical reglamentaria?



A



~~B~~



C

16. Cuando usted ve la siguiente señal usted debe:



- ~~A~~-Conservar el espacio reglamentario
- B-Girar hacia la derecha
- C-Girar hacia la izquierda
- D-Adelantar el vehículo que va adelante


17. Escribe el nombre de las señales, que debes hacer al verlas:

Pare: Parar

Prohibido Parquear: No Estacionar

No Pase: Desviar por un trayecto diferente.

(Hacer Caso a todas las Señales de tránsito)

	PROCESO SG-SST	Código	P-SIG-PESV-PROC -09
		Versión	02
	PRUEBA TEORICA PARA CONDUCTORES	Fecha	12/01/2025

COMPETENCIA DE MECANICA GENERAL

TEMA	MECÁNICA GENERAL
CALIFICACIÓN	9.9
PUNTAJE TOTAL	Aprobó 51
TEMA	MECÁNICA GENERAL
PUNTAJE APROBADO	

Referente de calificación

EN LAS SIGUIENTES PREGUNTAS MARCA CON UNA X LA RESPUESTA ADECUADA
Mecánica General

1. El nombre que recibe el marcador de revoluciones del motor es:

- A. Manómetro
- ☒ B. Tacómetro
- C. Pluviómetro

2. La función del embrague es:

- A. Frenar el motor del vehículo
- B. Darle fuerza al motor del vehículo
- ☒ C. Conectar y desconectar "la fuerza" del motor a la caja de velocidades


3. La función del carburador es:

- A. Marque una respuesta
- B. Refinar el combustible
- C. Realizar la explosión en el motor
- ☒ D. Realizar la mezcla exacta del aire con el combustible


4. La función del filtro de aire es:

- A. Separar el aire del aceite
- B. Separar el aire del combustible
- ☒ C. Retener las partículas contenidas en el aire, antes de entrar al carburador

5. Si durante la marcha del vehículo (carro) se desconecta un cable de bujía:

 GLOBAL SERVICE LOGISTICS S.A.S SERVICIOS EN TRANSPORTES, TURISMO, CORPORATIVOS Y LOGISTICOS	PROCESO SG-SST	Código	P-SIG-PESV-PROC -09
		Versión	02
	PRUEBA TEORICA PARA CONDUCTORES	Fecha	12/01/2025

- ☐ A. El motor no funciona
☒ B. El motor pierde fuerza
☐ C. El motor gira a la mitad de las revoluciones normales
6. **Cuál de los siguientes líquidos, al llegar a un nivel bajo puede ocasionar accidentes**
- ☐ A. Líquido anticoagulante
☒ B. Líquido de frenos
☐ C. Líquido de batería
☐ D. Líquido refrigerante
7. **El alto consumo de combustible se debe a:**
- ☐ A. Fallas en el sistema de dirección
☒ B. Aceleraciones excesivas en las curvas
☐ C. Frecuentes frenadas y aceleraciones
☐ D. Todas las anteriores
8. **¿cómo nota un conductor que hay fuga en el líquido de frenos?**
- ☐ A. El pedal del freno llega hasta el fondo
☐ B. El pedal del freno está muy duro
☐ C. El pedal del freno tiene poco recorrido
☒ D. El pedal del freno oscila

	PROCESO SG-SST	Código	P-SIG-PESV-PROC -09
		Versión	02
	PRUEBA TEORICA PARA CONDUCTORES	Fecha	12/01/2025

COMPETENCIA NORMATIVIDAD, COMPORTAMIENTO VIAL Y SEGURIDAD VIAL

TEMA	NORMATIVIDAD	COMPORTAMIENT TO VIAL	SEGURIDAD VIAL
CALIFICACIÓN	8	11	15
PUNTAJE TOTAL		Próxima evaluación	Reprobó

Referente de calificación

TEMA	NORMATIVIDAD	COMPORTAMIENT TO VIAL	SEGURIDA D VIAL
PUNTAJE APROBADO	8	11	15

EN LAS SIGUIENTES PREGUNTAS MARCA CON UNA X LA RESPUESTA ADECUADA

Seguridad Vial

1. Intersección es

- A. El área común de calzadas que no se cruzan o divergen
- ☒ B. El área común de las calzadas que cruzan o convergen
- C. Ninguna de las anteriores

2. No se debe adelantar en ninguna circunstancia a otro vehículo en:


- A. En intersecciones
- B. En los tramos de la vía donde exista línea separadores central continua o prohibición de adelantamiento
- ☒ C. En las vías de doble carril
- D. En curvas o pendientes

3. El adelantamiento se deberá hacer por:


- ☒ A. La izquierda
- B. La derecha
- C. Cualquier pista

4. ¿qué debe usted hacer al ser adelantado por otro vehículo?:

- A. Encender las luces bajas

 GLOBAL SERVICE LOGISTICS S.A.S SERVICIOS EN TRANSPORTES, TURISMO, CORPORATIVOS Y LOGISTICOS	PROCESO SG-SST	Código	P-SIG-PESV-PROC -09
		Versión	02
	PRUEBA TEORICA PARA CONDUCTORES	Fecha	12/01/2025

- ☐ B. Frenar bruscamente
☒ C. Mantener su velocidad o disminuirla para permitir el adelantamiento
5. Al acercarse a una señal "zona de escuela", ¿qué debe hacer?
- ☒ A. Disminuir la velocidad
☐ B. Tocar la bocina
☐ C. Aumentar la velocidad
6. Cómo se debe estacionar un vehículo cuando la vía es en subida:
- ☐ A. Con las ruedas delanteras hacia la cuneta
☐ B. Con las ruedas traseras hacia la calzada
☐ C. Con las ruedas delanteras hacia la calzada
7. ¿qué significa doble línea amarilla continua en el centro de una vía?
- ☐ A. Se usa para dividir los sentidos de circulación
☐ B. Que el asfalto está en mal estado
☒ C. Para ambos sentidos de circulación, que no debe ser traspasada ni se puede circular sobre ella
☐ D. Que solo pueden circular vehículos particulares
8. cuando hay involucradas víctimas en un accidente de tránsito, ¿a cuál autoridad le corresponde conocer el siniestro
- ☐ A. El Ministerio de Transporte
☒ B. La autoridad de tránsito
☐ C. Las aseguradoras
☐ D. Las autoridades judiciales
☐ E. b y d son correctas
9. Líneas discontinuas en el pavimento quiere decir:
- ☐ A. Que se permite cruzar la línea con precaución
☐ B. Que el carril izquierdo es para ciclistas y motoristas
☐ C. Que el tráfico se mueve en ambas direcciones
☐ D. Que no se permite cambiar de carril
☒ E. Puedes cambiar de carril cuando sea seguro hacerlo.
10. Cuando haya una línea amarilla sólida y una discontinua en carriles opuestos de tráfico, no debes rebasar
- ☐ A. Si la línea discontinua está de tu lado
☒ B. Si la línea sólida no está de tu lado
☐ C. Si la línea sólida está de tu lado
☐ D. Ninguna de las anteriores

 GLOBAL SERVICE LOGISTICS S.A.S SERVICIOS EN TRANSPORTES, TURISMO, CORPORATIVOS Y LOGISTICOS	PROCESO SG-SST	Código	P-SIG-PESV-PROC -09
		Versión	02
	PRUEBA TEORICA PARA CONDUCTORES	Fecha	12/01/2025

11. Cuando hay agua en el camino, debes reducir tu velocidad para evitar

- A. Desgastar las llantas
- B. Sobrecalentar las llantas
- ☒ C. La tracción de las llantas con el camino
- D. Hidro planeación

12. ¿las señales amarillas y con forma de diamante, con letras o símbolos negros?

- A. Son señales de detención
- B. Son señales de destino
- ☒ C. Son señales de advertencia
- D. Son señales de servicio

Comportamiento Vial

13. ¿un conductor al enfrentar un signo “pare” deberá?

- A. Proseguir su marcha
- ☒ B. Detenerse y permitir el paso de los vehículos que circulan por la otra vía
- C. Encender luces altas

14. Cuando se aproxima un vehículo de emergencia en el mismo sentido, el conductor deberá:


- A. Acelerar y circular delante del vehículo de emergencia
- B. Frenar, bruscamente
- ☒ C. Conducir el vehículo lo más a la izquierda o a la derecha posible, con el objeto de despejar la vía

15. ¿Dónde Puede Efectuar El Viraje En " U" Cuando Circula En Su Vehículo?

- A. En pasos peatonales
- ☒ B. A mitad de cuadra, si no está prohibido
- C. En la intersección

16. Que maniobra debe realizar a la circular por una vía de dos sentidos si va a girar a la izquierda

- A. Situarse al costado derecho de la calzada
- B. Situarse progresivamente al costado derecho del eje de la calzada
- ☒ C. Situarse al costado izquierdo de la calzada

	PROCESO SG-SST	Código	P-SIG-PESV-PROC -09
		Versión	02
	PRUEBA TEORICA PARA CONDUCTORES	Fecha	12/01/2025

17. Si en un caso de emergencia un conductor debe hacer uso de las señales corporales para cruzar a la derecha deberá:

- ☒ A. Sacar el brazo izquierdo y extenderlo horizontalmente
- ☐ B. Sacar el brazo izquierdo formando escuadra con la mano hacia arriba
- ☐ C. Sacar el brazo izquierdo formando escuadra con la mano hacia abajo

18. ¿qué se entiende por conducir a la defensiva?

- ☐ A. Hacer valer sus derechos en todo momento
- ☐ B. Frenar antes de cada cruce
- ☒ C. Tomar en cuenta los posibles errores de los demás
- ☐ D. Hacer ver a los demás sus errores al conducir

19. Que Debe Hacer Usted Cuando Desea Cambiarse De Carril:

- ☐ A. Fijarse en el tránsito que le va siguiendo
- ☐ B. Frenar fuerte antes de cambiarse
- ☒ C. Anunciar oportunamente su intención de cambiarse a través de la direccional
- ☐ D. Acelerar lo más rápido que pueda

20. Como Señaliza Usted Con El Brazo Cuando Va A Girar Hacia La Izquierda:


- ☐ A. Saca el brazo izquierdo y lo extiende hacia arriba
- ☐ B. Saca el brazo izquierdo formando escuadra hacia abajo
- ☒ C. Saca el brazo izquierdo y lo extiende horizontalmente
- ☐ D. Saca el brazo izquierdo formando escuadra con la mano hacia arriba

21. Usted llega a una intersección regulada por semáforo que se encuentra en rojo y, al mismo tiempo, un policía o agente de tránsito le indica que avance, ¿qué debe hacer usted?

- ☐ A. Detenerse, porque la luz roja se lo está indicando
- ☒ B. Avanzar, porque las instrucciones de un agente, prevalecen sobre las señales del tránsito
- ☐ C. Avanzar, sólo si detrás suyo no vienen otros vehículos
- ☐ D. Avanzar, sólo si está seguro que la luz roja está próxima a cambiar

22. Qué debe hacer para evitar colisiones en carretera:

- ☐ A. Permanecer en el lado izquierdo de tu carril mientras manejas

 GLOBAL SERVICE LOGISTICS S.A.S SERVICIOS EN TRANSPORTES, TURISMO, CORPORATIVOS Y LOGISTICOS	PROCESO SG-SST	Código	P-SIG-PESV-PROC -09
		Versión	02
	PRUEBA TEORICA PARA CONDUCTORES	Fecha	12/01/2025

- ☒ B. Mantener una distancia de seguimiento suficiente
- ☐ C. Cambiar de carril frecuentemente
- ☐ D. Seguir a los otros vehículos de cerca

23. ¿en una carretera de doble sentido con un carril central especial, los conductores de cualquier dirección pueden usar este carril para?

- ☐ A. Dar vuelta a la derecha
- ☐ B. Dar vuelta en U
- ☒ C. Rebasar
- ☐ D. Dar vuelta a la izquierda

Normatividad

24. La velocidad máxima permitida en carretera es:

- ☐ A. 105 km/ hr.
- ☐ B. 100 km/ hr.
- ☒ C. 90 km/ hr.

25. ¿qué vigencia tiene el seguro obligatorio soat?


- ☐ A. Dos (2) años para los vehículos de servicio público
- ☐ B. Tres (3) años para los vehículos de servicio particular
- ☒ C. Un (1) año para todos los vehículos que circulan en las vías nacionales

26. Las señales verticales se clasifican en:

- ☒ A. Reglamentarias, informativas y preventivas
- ☐ B. Longitudinales y transversales
- ☐ C. Blancas, amarillas y rojas

27. En ocasiones la autoridad de transito podrá retirar con grúa vehículos de las calles:

- ☐ A. Cuando el vehículo se encuentre estacionado en zonas prohibidas y su conductor no se encuentra cerca del vehículo
- ☐ B. Cuando el vehículo se encuentra abandonado con áreas destinadas al espacio público y su conductor no se encuentra cerca al vehículo
- ☐ C. Cuando se encuentra el vehículo bloqueando una vía principal y su conductor no está cerca del vehículo
- ☒ D. Todas las anteriores

 GLOBAL SERVICE LOGISTICS S.A.S SERVICIOS EN TRANSPORTES, TURISMO, CORPORATIVOS Y LOGÍSTICOS	PROCESO SG-SST	Código	P-SIG-PESV-PROC -09
		Versión	02
	PRUEBA TEORICA PARA CONDUCTORES	Fecha	12/01/2025

28. ¿Cuál es la distancia que debe mantener un conductor con respecto al vehículo de adelante?

- A. Treinta (30) metros
- B. Cien (100) metros
- ☒ C. Una distancia razonable y prudente

29. Los vehículos (carro) deberán llevar encendidas las luces reglamentarias desde:

- A. 1/2 hora antes de la puesta del sol, hasta 1/2 hora antes de su salida
- ☒ B. 1/2 hora después de la puesta del sol, hasta 1/2 hora antes de su salida
- C. Ninguna de las anteriores

30. ¿en cuál caso puede un agente de policía o de tránsito suspender la licencia de conducción a un conductor?

- A. Cuando ocurre un accidente
- B. Cuando el conductor infringe una norma de tránsito
- ☒ C. Cuando el conductor se encuentre en estado de embriaguez
- D. En ningún caso, solamente la puede suspender o cancelar una decisión judicial
- E.

31. Para conducir vehículos de servicio público, la edad mínima para expedir la licencia de conducción es:

- A. Veinte (20) años cumplidos
- B. Dieciséis (16) años cumplidos
- ☒ C. Dieciocho (18) años cumplidos