	PROCESO SG-SST	Código	P-SIG-PESV-PROC -09
		Versión	02
	PRUEBA TEORICA PARA CONDUCTORES	Fecha	12/01/2025

### TALLER MANEJO

Ingreso \_\_\_\_\_

Seguimiento \_\_\_\_\_

Anual ☒

Nombre: Jerónimo Camacho

Placa: TZR419

Identificación No.: 1098623166 Fecha: \_\_\_\_\_ Ciudad: Bogotá

TEMA	MANEJO
CALIFICACIÓN	98%
PUNTAJE TOTAL	51

### EN LAS SIGUIENTES PREGUNTAS MARCA CON UNA X LA RESPUESTA ADECUADA

1. Líneas discontinuas blancas en el pavimento quieren decir:

- ☒ A-Que se permite cruzar la línea con precaución
- ☐ B-Que el carril izquierdo es para ciclistas y motoristas
- ☐ C-Que el tráfico se mueve en ambas direcciones
- ☐ D-Que no se permite cambiar de carril


2. Ante una sola línea amarilla discontinua separando dos carriles de tránsito que se mueven en direcciones opuestas...

- ☐ A-Puedo cruzar la línea siempre para cambiar de carril
- ☐ B-No puedo cruzar la línea en ningún caso
- ☒ C-Puedo cruzar temporalmente la línea cuando rebaso un vehículo que se encuentra frente a mí
- ☐ D-Debo mantenerme a la izquierda de la línea

3. Si al aproximarse a una intersección ve esta señal y no hay una línea de detención. ¿Qué debe hacer?

- ☐ A-No avanzar y dar vuelta de inmediato
- ☐ B-Avanzar lentamente sin detenerte
- ☒ C-Detenerme antes de ingresar en la intersección
- ☐ D-Detenerme justo después ingresar en la intersección.



	PROCESO SG-SST	Código	P-SIG-PESV-PROC -09
		Versión	02
	PRUEBA TEORICA PARA CONDUCTORES	Fecha	12/01/2025

4. Si está en una intersección y escuchas la sirena de algún vehículo de emergencia, debe...

- A-No avanzar y detenerte de inmediato en la intersección
- B-Avanzar lentamente y detenerte en la intersección
- ☒ C-Continuar a través de la intersección y detenerte
- D-Continuar a través de la intersección y avanzar lentamente

5. Mientras conduces en la neblina, debes usar tus...

- A-Luces bajas
- B-Luces de emergencia
- C-Luces altas
- ☒ D-Luces de estacionamiento

6. Cuando haya una línea amarilla sólida y una discontinua en carriles opuestos de tráfico, no debes rebasar...

- ☒ A-Si la línea discontinua está de tu lado
- B-Si la línea sólida no está de tu lado
- C-Si la línea sólida está de tu lado
- D-Ninguna de las anteriores

7. Este letrero azul indica...

- A-Un hospital adelante
- B-Una carretera interestatal adelante
- ☒ C-Un hotel adelante
- D-Un estacionamiento para personas con discapacidad adelante




8. Si ves un animal en tu camino, debes...

- A-Aumentar la velocidad y pasar al animal rápidamente
- B-Usar el claxon y mantener tu velocidad
- ☒ C-Reducir la velocidad
- D-Abrir la ventana y gritarle al animal

9. Si ves dos líneas amarillas sólidas en tu camino, esto significa que...

- A-Rebasar está permitido en cualquier momento
- ☒ B-Rebasar está prohibido
- C-Rebasar está permitido durante el día
- D-Rebasar está permitido durante la noche

	PROCESO SG-SST	Código	P-SIG-PESV-PROC -09
		Versión	02
	PRUEBA TEORICA PARA CONDUCTORES	Fecha	12/01/2025

**10. Las señales amarillas y con forma de diamante, con letras o símbolos negros...**

- A-Son señales de detención
- B-Son señales de destino
- ☒ C-Son señales de advertencia
- D-Son señales de servicio

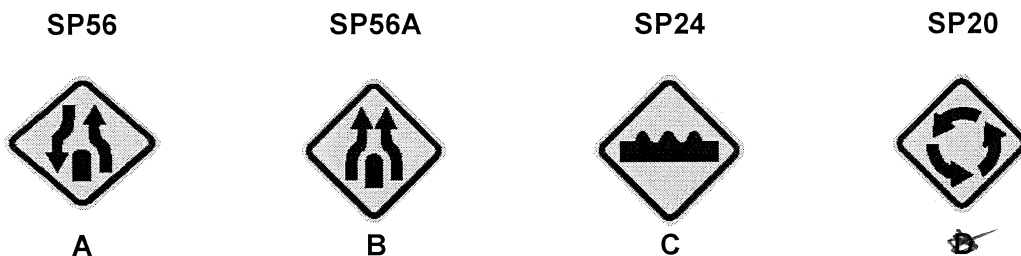
**11. ¿Qué debe hacer en condiciones climatológicas inusuales?**

- A-Aumentar la velocidad
- B-Aumentar la intensidad de las luces
- ☒ C-Aumentar la distancia entre el vehículo de delante y el mío
- D-Cambiar de carril frecuentemente

**12. Si pierdes el control del volante, debes...**

- A-Quitar el pie de los frenos
- B-Quitar el pie del acelerador
- ☒ C-Cambiar de velocidad
- D-Aplicar el freno de mano

**13.Cuál de las siguientes señales indica al conductor que se aproxima a una glorieta**




**14.Cuál de las siguientes señales indica al conductor que la vía está cerrada**



Respuesta: C

**15. ¿Cuál de las siguientes señales es una señal de tránsito vertical reglamentaria?**

	PROCESO SG-SST	Código	P-SIG-PESV-PROC -09
		Versión	02
	PRUEBA TEORICA PARA CONDUCTORES	Fecha	12/01/2025



A



B



C

16. Cuando usted ve la siguiente señal usted debe:



- ☒ A-Conservar el espacio reglamentario
- ☐ B-Girar hacia la derecha
- ☐ C-Girar hacia la izquierda
- ☐ D-Adelantar el vehículo que va adelante

17. Escribe el nombre de las señales, que debes hacer al verlas:



Resalto.




No invadir el carril.



Prohibido carro pesado



Prohibido parqueo

 <b>GLOBAL SERVICE LOGISTICS S.A.S</b> SERVICIOS EN TRANSPORTES, TURISMO, CORPORATIVOS Y LOGÍSTICOS	<b>PROCESO SG-SST</b>	<b>Código</b>	P-SIG-PESV-PROC -09
		<b>Versión</b>	02
	<b>PRUEBA TEORICA PARA CONDUCTORES</b>	<b>Fecha</b>	12/01/2025

### COMPETENCIA DE MECANICA GENERAL

TEMA	MECÁNICA GENERAL
CALIFICACIÓN	99%
PUNTAJE TOTAL	51

Referente de calificación

**EN LAS SIGUIENTES PREGUNTAS MARCA CON UNA X LA RESPUESTA ADECUADA**  
**Mecánica General**

**1. El nombre que recibe el marcador de revoluciones del motor es:**

- A. Manómetro
- ☒ B. Tacómetro
- C. Pluviómetro

**2. La función del embrague es:**

- A. Frenar el motor del vehículo
- B. Darle fuerza al motor del vehículo
- ☒ C. Conectar y desconectar "la fuerza" del motor a la caja de velocidades

**3. La función del carburador es:**


- A. Refinar el combustible
- B. Realizar la explosión en el motor
- ☒ C. Realizar la mezcla exacta del aire con el combustible

**4. La función del filtro de aire es:**

- A. Separar el aire del aceite
- B. Separar el aire del combustible
- ☒ C. Retener las partículas contenidas en el aire, antes de entrar al carburador

**5. Si durante la marcha del vehículo (carro) se desconecta un cable de bujía:**

- A. El motor no funciona
- ☒ B. El motor pierde fuerza
- C. El motor gira a la mitad de las revoluciones normales

 <b>GLOBAL SERVICE LOGISTICS S.A.S</b> SERVICIOS EN TRANSPORTES, TURISMO, CORPORATIVOS Y LOGÍSTICOS	<b>PROCESO SG-SST</b>	<b>Código</b>	P-SIG-PESV-PROC -09
		<b>Versión</b>	02
	<b>PRUEBA TEORICA PARA CONDUCTORES</b>	<b>Fecha</b>	12/01/2025

**6. Cuál de los siguientes líquidos, al llegar a un nivel bajo puede ocasionar accidentes**


- A. Líquido anticoagulante
- ☒ B. Líquido de frenos
- C. Líquido de batería
- D. Líquido refrigerante

**7. El alto consumo de combustible se debe a:**

- A. Fallas en el sistema de dirección
- ☒ B. Aceleraciones excesivas en las curvas
- ☒ C. Frecuentes frenadas y aceleraciones
- D. Todas las anteriores

**8. ¿Cómo nota un conductor que hay fuga en el líquido de frenos?**

- ☒ A. El pedal del freno llega hasta el fondo
- B. El pedal del freno está muy duro
- C. El pedal del freno tiene poco recorrido
- D. El pedal del freno oscila

	PROCESO SG-SST	Código	P-SIG-PESV-PROC -09
		Versión	02
	PRUEBA TEORICA PARA CONDUCTORES	Fecha	12/01/2025

### COMPETENCIA NORMATIVIDAD, COMPORTAMIENTO VIAL Y SEGURIDAD VIAL

TEMA	NORMATIVIDAD	COMPORTAMIENT TO VIAL	SEGURIDAD VIAL
CALIFICACIÓN	8	11	15
PUNTAJE TOTAL	51	Próxima evaluación	Reprobó

EN LAS SIGUIENTES PREGUNTAS MARCA CON UNA X LA RESPUESTA ADECUADA

#### Seguridad Vial

**1. Intersección es**

- A. El área común de calzadas que no se cruzan o divergen
- ☒ B. El área común de las calzadas que cruzan o convergen
- C. Ninguna de las anteriores

**2. No se debe adelantar en ninguna circunstancia a otro vehículo en:**

- A. En intersecciones
- B. En los tramos de la vía donde exista línea separadores central continua o prohibición de adelantamiento
- C. En las vías de doble carril
- ☒ D. En curvas o pendientes

**3. El adelantamiento se deberá hacer por:**


- ☒ A. La izquierda
- B. La derecha
- C. Cualquier pista

**4. ¿Qué debe usted hacer al ser adelantado por otro vehículo?:**

- A. Encender las luces bajas
- B. Frenar bruscamente
- ☒ C. Mantener su velocidad o disminuirla para permitir el adelantamiento

**5. Al acercarse a una señal "zona de escuela", ¿qué debe hacer?**

- ☒ A. Disminuir la velocidad

 <b>GLOBAL SERVICE LOGISTICS S.A.S</b> SERVICIOS EN TRANSPORTES, TURISMO, CORPORATIVOS Y LOGÍSTICOS	<b>PROCESO SG-SST</b>	<b>Código</b>	P-SIG-PESV-PROC -09
		<b>Versión</b>	02
	<b>PRUEBA TEORICA PARA CONDUCTORES</b>	<b>Fecha</b>	12/01/2025

- B. Tocar la bocina
- C. Aumentar la velocidad

**6. Cómo se debe estacionar un vehículo cuando la vía es en subida:**

- A. Con las ruedas delanteras hacia la cuneta
- B. Con las ruedas traseras hacia la calzada
- ☒ C. Con las ruedas delanteras hacia la calzada

**7. ¿Qué significa doble línea amarilla continua en el centro de una vía?**

- A. Se usa para dividir los sentidos de circulación
- B. Que el asfalto está en mal estado
- ☒ C. Para ambos sentidos de circulación, que no debe ser traspasada ni se puede circular sobre ella
- D. Que solo pueden circular vehículos particulares

**8. Cuando hay involucradas víctimas en un accidente de tránsito, ¿a cuál autoridad le corresponde conocer el siniestro**

- A. El Ministerio de Transporte
- B. La autoridad de tránsito
- ☒ C. Las aseguradoras
- ☒ D. Las autoridades judiciales
- E. b y d son correctas

**9. Cuando hay agua en el camino, debes reducir tu velocidad para evitar**

- A. Desgastar las llantas
- B. Sobrecalentar las llantas
- ☒ C. La tracción de las llantas con el camino
- D. Hidro planeación


### **Comportamiento Vial**

**10. ¿Un conductor al enfrentar un signo “pare” deberá?**

- A. Proseguir su marcha
- ☒ B. Detenerse y permitir el paso de los vehículos que circulan por la otra vía
- C. Encender luces altas

**11. Cuando se aproxima un vehículo de emergencia en el mismo sentido, el conductor deberá:**



 <b>GLOBAL SERVICE LOGISTICS S.A.S</b> SERVICIOS EN TRANSPORTES, TURISMO, CORPORATIVOS Y LOGÍSTICOS	<b>PROCESO SG-SST</b>	<b>Código</b>	P-SIG-PESV-PROC -09
		<b>Versión</b>	02
	<b>PRUEBA TEORICA PARA CONDUCTORES</b>	<b>Fecha</b>	12/01/2025

- A. Acelerar y circular delante del vehículo de emergencia
- B. Frenar, bruscamente
- ☒ C. Conducir el vehículo lo más a la izquierda o a la derecha posible, con el objeto de despejar la vía

**12. ¿Dónde puede efectuar el viraje en " u" cuando circula en su vehículo?**

- A. En pasos peatonales
- B. A mitad de cuadra, si no está prohibido
- ☒ C. En la intersección

**13. Que maniobra debe realizar a la circular por una vía de dos sentidos si va a girar a la izquierda**

- A. Situarse al costado derecho de la calzada
- B. Situarse progresivamente al costado derecho del eje de la calzada
- ☒ C. Situarse al costado izquierdo de la calzada

**14. Si en un caso de emergencia un conductor debe hacer uso de las señales corporales para cruzar a la derecha deberá:**

- A. Sacar el brazo izquierdo y extenderlo horizontalmente
- ☒ B. Sacar el brazo izquierdo formando escuadra con la mano hacia arriba
- C. Sacar el brazo izquierdo formando escuadra con la mano hacia abajo

**15. ¿Qué se entiende por conducir a la defensiva?**


- A. Hacer valer sus derechos en todo momento
- B. Frenar antes de cada cruce
- C. Tomar en cuenta los posibles errores de los demás
- ☒ D. Hacer ver a los demás sus errores al conducir

**16. Que debe hacer usted cuando desea cambiarse de carril:**

- A. Fijarse en el tránsito que le va siguiendo
- B. Frenar fuerte antes de cambiarse
- ☒ C. Anunciar oportunamente su intención de cambiarse a través de la direccional
- D. Acelerar lo más rápido que pueda

**17. Como señala usted con el brazo cuando va a girar hacia la izquierda:**

- A. Saca el brazo izquierdo y lo extiende hacia arriba

 <p>GLOBAL SERVICE LOGISTICS S.A.S SERVICIOS EN TRANSPORTES, TURISMO, CORPORATIVOS Y LOGÍSTICOS</p>	PROCESO SG-SST	Código	P-SIG-PESV-PROC -09
		Versión	02
	PRUEBA TEORICA PARA CONDUCTORES	Fecha	12/01/2025

- ☒ B. Saca el brazo izquierdo formando escuadra hacia abajo
- ☐ C. Saca el brazo izquierdo y lo extiende horizontalmente
- ☐ D. Saca el brazo izquierdo formando escuadra con la mano hacia arriba

**18. Usted llega a una intersección regulada por semáforo que se encuentra en rojo y, al mismo tiempo, un policía o agente de tránsito le indica que avance, ¿qué debe hacer usted?**

- ☐ A. Detenerse, porque la luz roja se lo está indicando
- ☒ B. Avanzar, porque las instrucciones de un agente, prevalecen sobre las señales del tránsito
- ☐ C. Avanzar, sólo si detrás suyo no vienen otros vehículos
- ☐ D. Avanzar, sólo si está seguro que la luz roja está próxima a cambiar

**19. Qué debe hacer para evitar colisiones en carretera:**

- ☐ A. Permanecer en el lado izquierdo de tu carril mientras manejas
- ☒ B. Mantener una distancia de seguimiento suficiente
- ☐ C. Cambiar de carril frecuentemente
- ☐ D. Seguir a los otros vehículos de cerca

**20. ¿En una carretera de doble sentido con un carril central especial, los conductores de cualquier dirección pueden usar este carril para?**

- ☐ A. Dar vuelta a la derecha
- ☐ B. Dar vuelta en U
- ☒ C. Rebasar
- ☐ D. Dar vuelta a la izquierda


### **Normatividad**

**21. La velocidad máxima permitida en carretera es:**

- ☐ A. 105 km/ hr.
- ☐ B. 100 km/ hr.
- ☒ C. 90 km/ hr.

**22. ¿Qué vigencia tiene el seguro obligatorio SOAT?**

- ☐ A. Dos (2) años para los vehículos de servicio público
- ☐ B. Tres (3) años para los vehículos de servicio particular

 <p>GLOBAL SERVICE LOGISTICS S.A.S SERVICIOS EN TRANSPORTES, TURISMO, CORPORATIVOS Y LOGÍSTICOS</p>	PROCESO SG-SST	Código	P-SIG-PESV-PROC -09
		Versión	02
	PRUEBA TEORICA PARA CONDUCTORES	Fecha	12/01/2025

☒ C. Un (1) año para todos los vehículos que circulan en las vías nacionales

**23. Las señales verticales se clasifican en:**

- ☒ A. Reglamentarias, informativas y preventivas
- B. Longitudinales y transversales
- C. Blancas, amarillas y rojas

**24. En ocasiones la autoridad de tránsito podrá retirar con grúa vehículos de las calles:**

- A. Cuando el vehículo se encuentre estacionado en zonas prohibidas y su conductor no se encuentra cerca del vehículo
- B. Cuando el vehículo se encuentra abandonado con áreas destinadas al espacio público y su conductor no se encuentra cerca al vehículo
- C. Cuando se encuentra el vehículo bloqueando una vía principal y su conductor no está cerca del vehículo
- ☒ D. Todas las anteriores

**25. ¿Cuál es la distancia que debe mantener un conductor con respecto al vehículo de adelante?**

- A. Treinta (30) metros
- B. Cien (100) metros
- ☒ C. Una distancia razonable y prudente


**26. Los vehículos (carro) deberán llevar encendidas las luces reglamentarias desde:**

- A. 1/2 hora antes de la puesta del sol, hasta 1/2 hora antes de su salida
- B. 1/2 hora después de la puesta del sol, hasta 1/2 hora antes de su salida
- C. Ninguna de las anteriores

**27. ¿En cuál caso puede un agente de policía o de tránsito suspender la licencia de conducción a un conductor?**

- A. Cuando ocurre un accidente
- B. Cuando el conductor infringe una norma de tránsito
- ☒ C. Cuando el conductor se encuentre en estado de embriaguez
- D. En ningún caso, solamente la puede suspender o cancelar una decisión judicial

**28. Para conducir vehículos de servicio público, la edad mínima para expedir la licencia de conducción es:**

 <b>GLOBAL SERVICE LOGISTICS S.A.S</b> SERVICIOS EN TRANSPORTES, TURISMO, CORPORATIVOS Y LOGÍSTICOS	<b>PROCESO SG-SST</b>	<b>Código</b>	P-SIG-PESV-PROC -09
		<b>Versión</b>	02
	<b>PRUEBA TEORICA PARA CONDUCTORES</b>	<b>Fecha</b>	12/01/2025

- A. Veinte (20) años cumplidos
- B. Dieciséis (16) años cumplidos
- ☒ C. Dieciocho (18) años cumplidos