


| | | | |
|--|--|----------------|---------------------|
|  GLOBAL SERVICE LOGISTICS S.A.S SERVICIOS EN TRANSPORTES, TURISMO, CORPORATIVOS Y LOGISTICOS | PROCESO SG-SST | Código | P-SIG-PESV-PROC -09 |
| | | Versión | 02 |
| | PRUEBA TEORICA PARA CONDUCTORES | Fecha | 12/01/2025 |

TALLER MANEJO

Ingreso _____

Placa: WCS 259

Seguimiento _____

Anual _____

Nombre: NESTOR SALVADOR HUMARDO RICHECO Identificación No.: 79120467

Fecha: _____ Ciudad: _____

| TEMA | MANEJO |
|----------------------|------------------|
| CALIFICACIÓN | |
| PUNTAJE TOTAL | Aprobó <u>SI</u> |

Referente de Calificación

| TEMA | MANEJO |
|-------------------------|-----------|
| PUNTAJE APROBADO | <u>27</u> |


EN LAS SIGUIENTES PREGUNTAS MARCA CON UNA X LA RESPUESTA ADECUADA

1. Líneas discontinuas blancas en el pavimento quieren decir:

- A-Que se permite cruzar la línea con precaución
- B-Que el carril izquierdo es para ciclistas y motoristas
- C-Que el tráfico se mueve en ambas direcciones
- D-Que no se permite cambiar de carril
- ☒ E-Puedes cambiar de carril cuando sea seguro hacerlo

2. Ante una sola línea amarilla discontinua separando dos carriles de tránsito que se mueven en direcciones opuestas...

- A-Puedo cruzar la línea siempre para cambiar de carril
- B-No puedo cruzar la línea en ningún caso
- ☒ C-Puedo cruzar temporalmente la línea cuando rebaso un vehículo que se encuentra frente a mí
- D-Debo mantenerme a la izquierda de la línea

| | | | |
|--|--|----------------|---------------------|
|  GLOBAL SERVICE LOGISTICS S.A.S SERVICIOS EN TRANSPORTES, TURISMO, CORPORATIVOS Y LOGÍSTICOS | PROCESO SG-SST | Código | P-SIG-PESV-PROC -09 |
| | | Versión | 02 |
| | PRUEBA TEORICA PARA CONDUCTORES | Fecha | 12/01/2025 |

3. Si al aproximarse a una intersección ve esta señal y no hay una línea de detención.
¿Qué debe hacer?

- A-No avanzar y dar vuelta de inmediato
- B-Avanzar lentamente sin detenerte
- ☒ C-Detenerme antes de ingresar en la intersección
- D-Detenerme justo después ingresar en la intersección.

4. Si está en una intersección y escuchas la sirena de algún vehículo de emergencia, debe...

- A-No avanzar y detenerte de inmediato en la intersección
- B-Avanzar lentamente y detenerte en la intersección
- ☒ C-Continuar a través de la intersección y detenerte
- D-Continuar a través de la intersección y avanzar lentamente

5. Mientras conduces en la neblina, debes usar tus...

- ☒ A-Luces bajas
- B-Luces de emergencia
- C-Luces altas
- D-Luces de estacionamiento

6. Cuando haya una línea amarilla sólida y una discontinua en carriles opuestos de tráfico, no debes rebasar...


- A-Si la línea discontinua está de tu lado
- B-Si la línea sólida no está de tu lado
- ☒ C-Si la línea sólida está de tu lado
- D-Ninguna de las anteriores

7. Este letrero azul indica...

- A-Un hospital adelante
- ☒ B-Una carretera interestatal adelante
- C-Un hotel adelante
- D-Un estacionamiento para personas con discapacidad adelante

8. Si ves un animal en tu camino, debes...

- A-Aumentar la velocidad y pasar al animal rápidamente
- B-Usar el claxon y mantener tu velocidad
- ☒ C-Reducir la velocidad

| | | | |
|---|---------------------------------|---------|---------------------|
|  | PROCESO SG-SST | Código | P-SIG-PESV-PROC -09 |
| | | Versión | 02 |
| | PRUEBA TEORICA PARA CONDUCTORES | Fecha | 12/01/2025 |

D-Abrir la ventana y gritarle al animal

9. Si ves dos líneas amarillas sólidas en tu camino, esto significa que...

A-Rebasar está permitido en cualquier momento

☒ B-Rebasar está prohibido

C-Rebasar está permitido durante el día

D-Rebasar está permitido durante la noche

10. Las señales amarillas y con forma de diamante, con letras o símbolos negros...

A-Son señales de detención

B-Son señales de destino

☒ C-Son señales de advertencia

D-Son señales de servicio

11. ¿Qué debe hacer en condiciones climatológicas inusuales?

A-Aumentar la velocidad

B-Aumentar la intensidad de las luces

☒ C-Aumentar la distancia entre el vehículo de delante y el mío

D-Cambiar de carril frecuentemente

12. Si pierdes el control del volante, debes...

A-Quitar el pie de los frenos

☒ B-Quitar el pie del acelerador

C-Cambiar de velocidad

D-Aplicar el freno de mano

13.Cuál de las siguientes señales indica al conductor que se aproxima a una glorieta

SP56



A

SP56A



B


SP24



C

SP20



| | | | |
|---|---------------------------------|---------|---------------------|
|  | PROCESO SG-SST | Código | P-SIG-PESV-PROC -09 |
| | | Versión | 02 |
| | PRUEBA TEORICA PARA CONDUCTORES | Fecha | 12/01/2025 |

14.Cuál de las siguientes señales indica al conductor que la vía está cerrada



15. ¿Cuál de las siguientes señales es una señal de tránsito vertical reglamentaria?



A



B



C


16. Cuando usted ve la siguiente señal usted debe:



- ☒ A-Conservar el espacio reglamentario
- ☐ B-Girar hacia la derecha
- ☐ C-Girar hacia la izquierda
- ☐ D-Adelantar el vehículo que va adelante

17. Escribe el nombre de las señales, que debes hacer al verlas:

- * SP-20 GLORIETA = Reducir la velocidad y ceder el paso al ingresar y es una señal preventiva
- * SEÑAL NO PASE = Prohibe transitar en zona restringida o donde hay contr flujo es una señal reglamentaria SR-04
- * SEÑAL DE PARE = Indica que se debe detener por completo el vehículo es una señal reglamentaria SR-01
- * SEÑAL ESPACIAMIENTO SR-44 Guardar distancia mínimo para evitar colisiones es una señal reglamentaria

| | | | |
|--|--|----------------|---------------------|
|  GLOBAL SERVICE LOGISTICS S.A.S SERVICIOS EN TRANSPORTES, TURISMO, CORPORATIVOS Y LOGISTICOS | PROCESO SG-SST | Código | P-SIG-PESV-PROC -09 |
| | | Versión | 02 |
| | PRUEBA TEORICA PARA CONDUCTORES | Fecha | 12/01/2025 |

COMPETENCIA DE MECANICA GENERAL

| | |
|-------------------------|-------------------------|
| TEMA | MECÁNICA GENERAL |
| CALIFICACIÓN | |
| PUNTAJE TOTAL | Aprobó 51 |
| TEMA | MECÁNICA GENERAL |
| PUNTAJE APROBADO | |

Referente de calificación

EN LAS SIGUIENTES PREGUNTAS MARCA CON UNA X LA RESPUESTA ADECUADA
Mecánica General

1. El nombre que recibe el marcador de revoluciones del motor es:

- A. Manómetro
- ☒ B. Tacómetro
- C. Pluviómetro

2. La función del embrague es:

- A. Frenar el motor del vehículo
- B. Darle fuerza al motor del vehículo
- ☒ C. Conectar y desconectar "la fuerza" del motor a la caja de velocidades


3. La función del carburador es:

- A. Marque una respuesta
- B. Refinar el combustible
- C. Realizar la explosión en el motor
- ☒ D. Realizar la mezcla exacta del aire con el combustible


4. La función del filtro de aire es:

- A. Separar el aire del aceite
- B. Separar el aire del combustible
- ☒ C. Retener las partículas contenidas en el aire, antes de entrar al carburador

5. Si durante la marcha del vehículo (carro) se desconecta un cable de bujía:

| | | | |
|--|--|----------------|---------------------|
|  GLOBAL SERVICE LOGISTICS S.A.S SERVICIOS EN TRANSPORTES, TURISMO, CORPORATIVOS Y LOGISTICOS | PROCESO SG-SST | Código | P-SIG-PESV-PROC -09 |
| | | Versión | 02 |
| | PRUEBA TEORICA PARA CONDUCTORES | Fecha | 12/01/2025 |

- ☐ A. El motor no funciona
☒ B. El motor pierde fuerza
☐ C. El motor gira a la mitad de las revoluciones normales
6. **Cuál de los siguientes líquidos, al llegar a un nivel bajo puede ocasionar accidentes**
- ☐ A. Líquido anticoagulante
☒ B. Líquido de frenos
☐ C. Líquido de batería
☐ D. Líquido refrigerante
7. **El alto consumo de combustible se debe a:**
- ☐ A. Fallas en el sistema de dirección
☐ B. Aceleraciones excesivas en las curvas
☒ C. Frecuentes frenadas y aceleraciones
☐ D. Todas las anteriores
8. **¿cómo nota un conductor que hay fuga en el líquido de frenos?**
- ☒ A. El pedal del freno llega hasta el fondo
☐ B. El pedal del freno está muy duro
☐ C. El pedal del freno tiene poco recorrido
☐ D. El pedal del freno oscila

| | | | |
|--|--|----------------|---------------------|
|  GLOBAL SERVICE LOGISTICS S.A.S SERVICIOS EN TRANSPORTES, TURISMO, CORPORATIVOS Y LOGISTICOS | PROCESO SG-SST | Código | P-SIG-PESV-PROC -09 |
| | | Versión | 02 |
| | PRUEBA TEORICA PARA CONDUCTORES | Fecha | 12/01/2025 |

COMPETENCIA NORMATIVIDAD, COMPORTAMIENTO VIAL Y SEGURIDAD VIAL

| TEMA | NORMATIVIDAD | COMPORTAMIENT TO VIAL | SEGURIDAD VIAL |
|----------------------|--------------|--------------------------|-------------------|
| CALIFICACIÓN | 5 | 5 | 5 |
| PUNTAJE TOTAL | 15 | Próxima evaluación | Reprobó |

Referente de calificación

| TEMA | NORMATIVIDAD | COMPORTAMIENT TO VIAL | SEGURIDA D VIAL |
|-------------------------|--------------|--------------------------|--------------------|
| PUNTAJE APROBADO | 8 | 11 | 15 |

EN LAS SIGUIENTES PREGUNTAS MARCA CON UNA X LA RESPUESTA ADECUADA

Seguridad Vial

1. Intersección es

- A. El área común de calzadas que no se cruzan o divergen
- ☒ B. El área común de las calzadas que cruzan o convergen
- C. Ninguna de las anteriores

2. No se debe adelantar en ninguna circunstancia a otro vehículo en:


- A. En intersecciones
- B. En los tramos de la vía donde exista línea separadores central continua o prohibición de adelantamiento
- C. En las vías de doble carril
- ☒ D. En curvas o pendientes

3. El adelantamiento se deberá hacer por:


- ☒ A. La izquierda
- B. La derecha
- C. Cualquier pista

4. ¿qué debe usted hacer al ser adelantado por otro vehículo?:

- A. Encender las luces bajas

| | | | |
|--|--|----------------|---------------------|
|  GLOBAL SERVICE LOGISTICS S.A.S SERVICIOS EN TRANSPORTES, TURISMO, CORPORATIVOS Y LOGÍSTICOS | PROCESO SG-SST | Código | P-SIG-PESV-PROC -09 |
| | | Versión | 02 |
| | PRUEBA TEORICA PARA CONDUCTORES | Fecha | 12/01/2025 |

- ☐ B. Frenar bruscamente
☒ ~~A.~~ Mantener su velocidad o disminuirla para permitir el adelantamiento
5. Al acercarse a una señal "zona de escuela", ¿qué debe hacer?
- ☒ ~~A.~~ Disminuir la velocidad
☐ B. Tocar la bocina
☐ C. Aumentar la velocidad
6. Cómo se debe estacionar un vehículo cuando la vía es en subida:
- ☐ A. Con las ruedas delanteras hacia la cuneta
☐ B. Con las ruedas traseras hacia la calzada
☐ C. Con las ruedas delanteras hacia la calzada
7. ¿qué significa doble línea amarilla continua en el centro de una vía?
- ☐ A. Se usa para dividir los sentidos de circulación
☐ B. Que el asfalto está en mal estado
☒ ~~C.~~ Para ambos sentidos de circulación, que no debe ser traspasada ni se puede circular sobre ella
☐ D. Que solo pueden circular vehículos particulares
8. cuando hay involucradas víctimas en un accidente de tránsito, ¿a cuál autoridad le ¿corresponde conocer el siniestro
- ☐ A. El Ministerio de Transporte
☐ B. La autoridad de tránsito
☐ C. Las aseguradoras
☐ D. Las autoridades judiciales
☒ ~~E.~~ b y d son correctas
9. Líneas discontinuas en el pavimento quiere decir:
- ☐ A. Que se permite cruzar la línea con precaución
☐ B. Que el carril izquierdo es para ciclistas y motoristas
☐ C. Que el tráfico se mueve en ambas direcciones
☐ D. Que no se permite cambiar de carril
☒ ~~E.~~ Puedes cambiar de carril cuando sea seguro hacerlo.
10. Cuando haya una línea amarilla sólida y una discontinua en carriles opuestos de tráfico, no debes rebasar
- ☐ A. Si la línea discontinua está de tu lado
☐ B. Si la línea sólida no está de tu lado
☒ ~~C.~~ Si la línea sólida está de tu lado
☐ D. Ninguna de las anteriores

| | | | |
|--|--|----------------|---------------------|
|  GLOBAL SERVICE LOGISTICS S.A.S SERVICIOS EN TRANSPORTES, TURISMO, CORPORATIVOS Y LOGÍSTICOS | PROCESO SG-SST | Código | P-SIG-PESV-PROC -09 |
| | | Versión | 02 |
| | PRUEBA TEORICA PARA CONDUCTORES | Fecha | 12/01/2025 |

11. Cuando hay agua en el camino, debes reducir tu velocidad para evitar

- A. Desgastar las llantas
- B. Sobrecalentar las llantas
- C. La tracción de las llantas con el camino
- ☒ D. Hidro planeación

12. ¿las señales amarillas y con forma de diamante, con letras o símbolos negros?

- A. Son señales de detención
- B. Son señales de destino
- ☒ C. Son señales de advertencia
- D. Son señales de servicio

Comportamiento Vial

13. ¿un conductor al enfrentar un signo “pare” deberá?

- A. Proseguir su marcha
- ☒ B. Detenerse y permitir el paso de los vehículos que circulan por la otra vía
- C. Encender luces altas

14. Cuando se aproxima un vehículo de emergencia en el mismo sentido, el conductor deberá:


- A. Acelerar y circular delante del vehículo de emergencia
- B. Frenar, bruscamente
- ☒ C. Conducir el vehículo lo más a la izquierda o a la derecha posible, con el objeto de despejar la vía

15. ¿Dónde Puede Efectuar El Viraje En " U" Cuando Circula En Su Vehículo?

- A. En pasos peatonales
- B. A mitad de cuadra, si no está prohibido
- ☒ C. En la intersección

16. Que maniobra debe realizar a la circular por una vía de dos sentidos si va a girar a la izquierda

- A. Situarse al costado derecho de la calzada
- B. Situarse progresivamente al costado derecho del eje de la calzada
- ☒ C. Situarse al costado izquierdo de la calzada

| | | | |
|--|--|----------------|---------------------|
|  GLOBAL SERVICE LOGISTICS S.A.S SERVICIOS EN TRANSPORTES, TURISMO, CORPORATIVOS Y LOGISTICOS | PROCESO SG-SST | Código | P-SIG-PESV-PROC -09 |
| | | Versión | 02 |
| | PRUEBA TEORICA PARA CONDUCTORES | Fecha | 12/01/2025 |

17. Si en un caso de emergencia un conductor debe hacer uso de las señales corporales para cruzar a la derecha deberá:

- A. Sacar el brazo izquierdo y extenderlo horizontalmente
- ☒ B. Sacar el brazo izquierdo formando escuadra con la mano hacia arriba
- C. Sacar el brazo izquierdo formando escuadra con la mano hacia abajo

18. ¿qué se entiende por conducir a la defensiva?

- A. Hacer valer sus derechos en todo momento
- B. Frenar antes de cada cruce
- ☒ C. Tomar en cuenta los posibles errores de los demás
- D. Hacer ver a los demás sus errores al conducir

19. Que Debe Hacer Usted Cuando Desea Cambiarse De Carril:

- A. Fijarse en el tránsito que le va siguiendo
- B. Frenar fuerte antes de cambiarse
- ☒ C. Anunciar oportunamente su intención de cambiarse a través de la direccional
- D. Acelerar lo más rápido que pueda

20. Como Señaliza Usted Con El Brazo Cuando Va A Girar Hacia La Izquierda:


- A. Saca el brazo izquierdo y lo extiende hacia arriba
- ☒ B. Saca el brazo izquierdo formando escuadra hacia abajo
- C. Saca el brazo izquierdo y lo extiende horizontalmente
- D. Saca el brazo izquierdo formando escuadra con la mano hacia arriba

21. Usted llega a una intersección regulada por semáforo que se encuentra en rojo y, al mismo tiempo, un policía o agente de tránsito le indica que avance, ¿qué debe hacer usted?

- A. Detenerse, porque la luz roja se lo está indicando
- ☒ B. Avanzar, porque las instrucciones de un agente, prevalecen sobre las señales del tránsito
- C. Avanzar, sólo si detrás suyo no vienen otros vehículos
- D. Avanzar, sólo si está seguro que la luz roja está próxima a cambiar

22. Qué debe hacer para evitar colisiones en carretera:

- A. Permanecer en el lado izquierdo de tu carril mientras manejas

| | | | |
|--|--|----------------|---------------------|
|  GLOBAL SERVICE LOGISTICS S.A.S SERVICIOS EN TRANSPORTES, TURISMO, CORPORATIVOS Y LOGISTICOS | PROCESO SG-SST | Código | P-SIG-PESV-PROC -09 |
| | | Versión | 02 |
| | PRUEBA TEORICA PARA CONDUCTORES | Fecha | 12/01/2025 |

- ☒ Mantener una distancia de seguimiento suficiente
- ☐ C. Cambiar de carril frecuentemente
- ☐ D. Seguir a los otros vehículos de cerca

23. ¿en una carretera de doble sentido con un carril central especial, los conductores de cualquier dirección pueden usar este carril para?

- ☐ A. Dar vuelta a la derecha
- ☐ B. Dar vuelta en U
- ☒ C. Rebasar
- ☐ D. Dar vuelta a la izquierda

Normatividad

24. La velocidad máxima permitida en carretera es:

- ☐ A. 105 km/ hr.
- ☒ B. 100 km/ hr.
- ☐ C. 90 km/ hr.

25. ¿qué vigencia tiene el seguro obligatorio soat?


- ☐ A. Dos (2) años para los vehículos de servicio público
- ☐ B. Tres (3) años para los vehículos de servicio particular
- ☒ C. Un (1) año para todos los vehículos que circulan en las vías nacionales

26. Las señales verticales se clasifican en:

- ☒ A. Reglamentarias, informativas y preventivas
- ☐ B. Longitudinales y transversales
- ☐ C. Blancas, amarillas y rojas

27. En ocasiones la autoridad de transito podrá retirar con grúa vehículos de las calles:

- ☐ A. Cuando el vehículo se encuentre estacionado en zonas prohibidas y su conductor no se encuentra cerca del vehículo
- ☐ B. Cuando el vehículo se encuentra abandonado con áreas destinadas al espacio público y su conductor no se encuentra cerca al vehículo
- ☐ C. Cuando se encuentra el vehículo bloqueando una vía principal y su conductor no está cerca del vehículo
- ☒ D. Todas las anteriores

| | | | |
|--|--|----------------|---------------------|
|  GLOBAL SERVICE LOGISTICS S.A.S SERVICIOS EN TRANSPORTES, TURISMO, CORPORATIVOS Y LOGÍSTICOS | PROCESO SG-SST | Código | P-SIG-PESV-PROC -09 |
| | | Versión | 02 |
| | PRUEBA TEORICA PARA CONDUCTORES | Fecha | 12/01/2025 |

28. ¿Cuál es la distancia que debe mantener un conductor con respecto al vehículo de adelante?

- A. Treinta (30) metros
- B. Cien (100) metros
- ☒ C. Una distancia razonable y prudente

29. Los vehículos (carro) deberán llevar encendidas las luces reglamentarias desde:

- A. 1/2 hora antes de la puesta del sol, hasta 1/2 hora antes de su salida
- B. 1/2 hora después de la puesta del sol, hasta 1/2 hora antes de su salida
- ☒ C. Ninguna de las anteriores

30. ¿en cuál caso puede un agente de policía o de tránsito suspender la licencia de conducción a un conductor?


- A. Cuando ocurre un accidente
- B. Cuando el conductor infringe una norma de tránsito
- ☒ C. Cuando el conductor se encuentre en estado de embriaguez
- D. En ningún caso, solamente la puede suspender o cancelar una decisión judicial
- E.

31. Para conducir vehículos de servicio público, la edad mínima para expedir la licencia de conducción es:

- A. Veinte (20) años cumplidos
- B. Dieciséis (16) años cumplidos
- ☒ C. Dieciocho (18) años cumplidos

| | | | |
|---------------------------------------|-----------------|--|---|
| | | Sistema de Gestión de la Seguridad y Salud en el Trabajo | |
| | | FORMATO N°: | FT-SST-050 |
| FORMATO DE INSPECCIONES DE BOTIQUINES | | | Fecha: 21 Versión: 01 Página 1 de 1 |
| Responsable: | NESTOR SALVADOR | Vehículo: | WC3259 |
| Cargo: | CONDUCTOR | Fecha: | 25-02-2020 |
| Cédula: | 79120467 | | |

| ELEMENTOS | SI | NO | CANTIDAD | FECHA DE VENCIMIENTO | OBSERVACIONES |
|---------------------------------------|----|----|----------|----------------------|---------------|
| GASAS LIMPIAS PAQUETE | ✓ | | | | |
| ESPARADRAPO DE TELA ROLLO de 4" | ✓ | | | | |
| BAJA LENGUAS | ✓ | | | | |
| GUANTES DE LÁTEX | ✓ | | | | |
| VENDA ELÁSTICA | | | | | |
| VENDA DE ALGODÓN | ✓ | | | | |
| TAPABOCAS | ✓ | | | | |
| YODOPOVIDONA (JABÓN QUIRÚRGICO) | ✓ | | | | |
| SOLUCIÓN SALINA | | | | | |
| TERMÓMETRO DE MERCURIO O DIGITAL | ✓ | | | | |
| ALCOHOL ANTISÉPTICO FRASCO POR 275 ml | ✓ | | | | |
| INMOVILIZADOR CERVICAL | ✓ | | | | |
| TIJERAS DE PUNTA ROMA | | | | | |
| PITO | ✓ | | | | |
| BOLSAS ROJAS | | | | | |
| CURAS | ✓ | | | | |
| BAJA LENGUAS | ✓ | | | | |
| APLICADORES | ✓ | | | | |
| PARCHE OCULAR | | | | | |
| LINTERNA | ✓ | | | | |
| MANUAL DE PRIMEROS AUXILIOS | | | | | |
| MICROPORE | ✓ | | | | |

| | | |
|--------------------------|----------------|--|
| Observaciones generales: | | |
| NOMBRE DE QUIEN RECIBE: | Andrés Sánchez | FIRMA:  |
| CÉDULA: | 02425324 BFA. | FECHA DE ENTREGA: 25-02-2020 |
| CARGO: | | |

Nota: En cumplimiento de la Ley 1581 de 2012 y el Decreto 1377 de 2013 y las demás normas que los modifiquen, adicionen o complementen, le informamos que usted puede conocer la Política de Tratamiento de los Datos Personales del Ministerio de Vivienda, Ciudad y Territorio, a través del siguiente link: <http://portal.minvivienda.local/ProcesosCorporativos/GPT-L-01%20Lineamiento%20tratamiento%20datos%20personales%201.0.pdf>

