



EVALUACIÓN PRÁCTICA

CONDUCCIÓN SEGURA DE VEHÍCULOS

Versión: 03
Fecha: 20/06/2023

DATOS DEL EVALUADO:				FECHA: 24/04/2023								
NOMBRE: Juan Guillermo G. G.				HORA INICIO Y FINAL DE PRUEBA: 10:30 - 10:55								
IDENTIFICACIÓN: 1036 670 178				TIPO DE VEHÍCULO: 300801 PLACA: J00-801								
PREOPERACIONAL		SI	NO	N/A	ADELANTAMIENTO		SI	NO	N/A			
1	REVISIÓN DE FLUIDOS	✓			22	TRANSMITE SEGURIDAD SU MANIOBRA?	✓					
2	CONOCE LOS RELOJES DEL TABLERO DE CONTROL?	✓			23	MANTIENE ESPACIOS LATERALES?	✓					
3	REVISÓ LAS LUCES?	✓			24	MANTIENE VISIBILIDAD?	✓					
4	REVISÓ DOCUMENTOS DEL VEHICULO?	✓			25	USA DIRECCIONALES?	✓					
5	REVISÓ EQUIPO DE CARRETERA	✓										
6					OBSERVACIONES:							
					INTERSECCIONES Y GLORIETAS					SI	NO	N/A
PUESTA EN MARCHA					SI	NO	N/A	26	CONTROLA VELOCIDAD ANTES DE SU USO?	✓		
7	AJUSTÓ SILLA?	✓						27	RESPECTA LA SENAL DE PARE Y SEDA EL PASO?	✓		
8	AJUSTÓ RETROVISORES?	✓						28	CONTROLA RIESGOS DE PROXIMIDAD?	✓		
9	ENCENDIÓ EL VEHÍCULO?	✓			OBSERVACIONES:							
10	USA CINTURÓN SEGURIDAD?	✓										
11	TOMA EL VOLANTE CORRECTAMENTE?	✓										
12	APOYA EL CODO SOBRE MARCO DE LA PUERTA?		✓		GIROS					SI	NO	N/A
13	CONDUCE CON MANO SOBRE PALANCA		✓		29	SE UBICA CORRECTAMENTE PARA GIRAR	✓					
14	APLICA HIGIENE POSTURAL?	✓			30	CORRECTO INGRESO A OTRO CARRIL O VIA?	✓					
OBSERVACIONES:					31	CORRECTA TECNICA / USO DE LAS MANOS	✓					
					32							
MOVILIDAD GENERAL					SI	NO	N/A					
15	MANTIENE ACELERACION CONSTANTE?		✓									
16	MANTIENE VELOCIDAD ADECUADA?	✓			GENERALIDADES					SI	NO	N/A
17	FRENA BRUSCAMENTE?		✓		33	BUEN COMPORTAMIENTO ANTE PEATONES?	✓					
18	UTILIZA RETROVISORES CONSTANTEMENTE?	✓			34	USO CORRECTO DE BOCINA / CLAXON?	✓					
19	GUARDA DISTANCIA DE OTROS VEHICULOS?	✓			35	CONOCE Y RESPETA LAS SEÑALES DE TRÁNSITO?	✓					
20	CONTROLA RIESGOS TRASEROS Y/O LATERAL?	✓			36	BUENA PRESENTACIÓN PERSONAL?	✓					
21	DETIENE LA MARCHA EMBRAGANDO?		✓		37	ATENDIÓ EL CELULAR MIENTRAS CONDUCA?			✓			
OBSERVACIONES GENERALES												
Reforzar temas de Seguridad Vial.												
HALLAZGOS / ACCION CORRECTIVA												
EVALUADOR: Jesús Briceño				LÍDER DEL PESV: Jesús Briceño								
IDENTIFICACION: 2883274				APROBADO: SI / NO								



PRUEBA TEORICA DE CONDUCCIÓN

Versión 03
Fecha: 19/04/2023

26/36 72,22% Aprobado.

NOMBRE: Juan Guillermo Brayales IDENTIFICACIÓN: 1036670178
FECHA: 24/04/2023 EMPRESA: TES DE OCCIDENTE SAS

La conducción de vehículos en Colombia es una actividad regulada por normas de Seguridad vial, Tránsito y Transporte, que exige idoneidad para ejercerla; El Conductor de Vehículo Automotor, es la persona habilitada y capacitada física, mental, técnica y teóricamente para operar un vehículo con las consiguientes obligaciones y responsabilidades que demanda el desarrollo de esta actividad catalogada como peligrosa.

EL SIGUIENTE CUESTIONARIO CUENTA CON PREGUNTAS DE SELECCIÓN MULTIPLE Y ÚNICA RESPUESTA

ASPECTOS GENERALES EN SEGURIDAD VIAL, TRÁNSITO Y TRANSPORTE

1. la licencia de conducción es:

- A. un documento público que identifica un vehículo automotor, acredita su propiedad e identifica a su propietario y autoriza a dicho vehículo para circular por las vías públicas y por las privadas abiertas al público
- ☒ B. un documento público de carácter personal e intransferible expedido por autoridad competente, el cual autoriza a una persona para la conducción de vehículos con validez en todo el territorio nacional.

- C. un documento público con validez en todo el territorio nacional, el cual identifica externa y privativamente un vehículo

2. la vigencia de la licencia de conducción para vehículos de servicio público es de:

- A. cinco (5) años a partir de la fecha de expedición.
- ☒ B. De Tres (3) años y si el conductor es mayor de 60 años de edad por un (1) año.
- C. Cada que el empleador lo solicite debe refrendada.

3. La licencia de conducción para manejo de Automóvil, Motocarro, Cuatrimoto, Camper, Camioneta y Microbús para el servicio particular y público corresponden a las categorías:

- A. A1, A2
- B. B2, C2
- ☒ C. B1, C1
- D. B3, C3

4. En una curva, ¿es apropiado que el conductor pise?

- ☒ A. El freno
- B. El embrague
- C. Ninguno de los dos

5. En pavimento mojado, el estado de los neumáticos influye en la distancia de frenado del vehículo:

- A. No, la distancia de frenado depende solamente de la velocidad
- B. No, porque una vez se activa el freno la distancia de frenado de un vehículo es siempre igual
- ☒ C. Sí, porque a mayor desgaste de las llantas mayor es la distancia del frenado.

6. De los documentos relacionados a continuación, ¿Cuál no es de porte obligatorio para el conductor de un vehículo particular, cuando está en circulación por las vías nacionales?

- A. Licencia de Conducción
- B. Seguro Obligatorio SOAT
- C. Certificación de la revisión técnico mecánica y de emisión de gases
- ☒ D. Factura de compra

7. Los daños que cubre el seguro obligatorio son:

- A. Tanto daños materiales como lesiones personales hasta el límite de cobertura.
- B. Tanto lesiones personales como daños materiales sin límite de cobertura.
- ☒ C. Únicamente la atención básica de lesiones personales de las víctimas del accidente.

8. Corresponde a un acto imprudente más que a una falta de tránsito

- A. No usar los correctores que se indican en la Licencia de Conducir.
- ☒ B. Estacionarse en un sendero peatonal.
- C. No llevar mientras conduce, la Licencia de Conducir y la Tarjeta de Propiedad.

NORMAS DE COMPORTAMIENTO

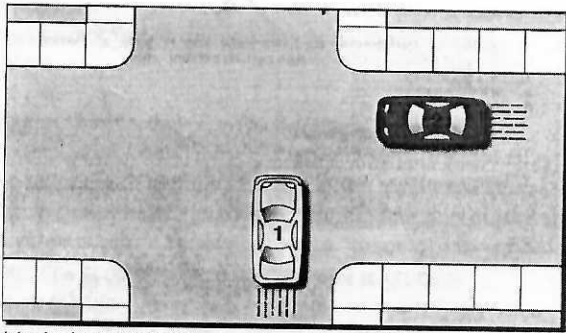
Elaboró: Coordinador SST y PESV	Revisó: Asesor SST	Aprobó: Gerente
---------------------------------	--------------------	-----------------



PRUEBA TEORICA DE CONDUCCIÓN

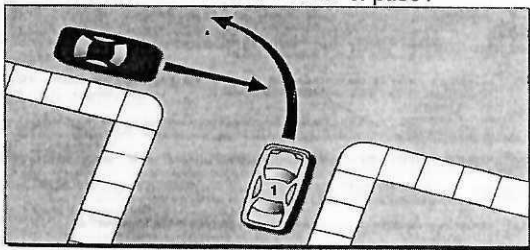
Versión 03
Fecha: 19/04/2023

9. ¿Cuál de los siguientes vehículos tiene la preferencia del paso?



- A. El vehículo 1, por haber ingresado antes a la intersección
- ☒ B. El vehículo 2, por encontrarse a la derecha del otro
- C. El vehículo 1, por encontrarse a la izquierda del otro

10. ¿Cuál de los dos vehículos debe ceder el paso?



- ☒ A. El 1, porque el 2 avanza en línea recta
- B. El 1, porque no puede seguir de frente
- C. El 2, porque el 1 va a realizar un giro a la izquierda

11. ¿Qué importancia tienen las instrucciones que le pueda dar un policía o agente de tránsito?

- A. Ud. debe obedecerlas siempre.
- ☒ B. Ud. debe obedecerlas siempre que ellas coincidan con las señales de tránsito
- C. Ud. no debe obedecerlas.

12. ¿Qué vigencia tiene el seguro obligatorio SOAT?

- A. Dos (2) años para los vehículos de servicio público
- B. Tres (3) años para los vehículos de servicio particular
- ☒ C. Un (1) año para todos los vehículos que circulan en las vías Nacionales

13. Para realizar una maniobra de adelantamiento, un conductor de vehículo automotor deberá:

- A. Disminuir la velocidad
- B. Avisar anticipadamente la maniobra a través de señales luminosas direccionales
- C. Valerse de la señal corporal en caso de no contar con direcciones
- ☒ D. Efectuar la maniobra sin entorpecer el tránsito o poner en riesgo la seguridad de los demás vehículos

14. El cinturón de seguridad es un elemento de seguridad pasiva que tiene como finalidad?

- A. Proteger la cabeza del conductor y los viajeros para evitar lesiones o reducir su gravedad
- B. Permitir manejar derecho todo el trayecto
- ☒ C. Proteger y retener el cuerpo del conductor y demás ocupantes absorbiendo parte del impacto de choque

15. Si el vehículo cuenta con Air Bag (bolsa de aire) es necesario abrocharse el cinturón de seguridad?

- ☒ A. Si, en todo caso debe usarse cinturón de seguridad
- B. No, porque el vehículo dispone de un sistema de seguridad análogo y por lo tanto no se recomienda el uso del cinturón de seguridad
- C. Si, pero sólo cuando transite por vías intermunicipales

16. A mayor peso del vehículo:

- ☒ A. Se requiere de mayor distancia para parar
- B. Se requiere de menor distancia para parar
- C. No se requiere de distancia para parar

17. ¿Cuál de los siguientes elementos NO forma parte de un equipo de prevención y seguridad de un vehículo según el código nacional de tránsito?

- A. Un gato con capacidad para el tipo de vehículo.
- ☒ B. Él apoya cabezas.
- C. Dos señales de carretera en forma de triángulo en material reflectivo y provistas de soportes para ser colocadas en forma vertical.
- D. Botiquín de primeros auxilios

18. ¿El tiempo de reacción de un conductor, se ve afectado por la ingestión de alcohol?

- ☒ A. Si, se ve aumentado
- B. Si, se ve disminuido
- C. No, el alcohol no afecta al tiempo de reacción

19. Ud. se va acercando con su vehículo a niños que juegan en el anden, ¿Qué debería hacer?

- ☒ A. Reducir la velocidad y continuar preparado para frenar
- B. Tocar la bocina y continuar
- C. Continuar a la misma velocidad para no entorpecer a quienes vienen detrás de Ud.
- D. Continuar a la misma velocidad porque los niños saben que no pueden bajar a la calzada

Elaboró: Coordinador SST y PESV

Revisó: Asesor SST

Aprobó: Gerente



PRUEBA TEORICA DE CONDUCCIÓN

Versión 03
Fecha: 19/04/2023

SEÑALES DE TRÁNSITO

20. En una vía de dos carriles de doble sentido de circulación, se pueden hacer maniobras de adelantamiento por:

- A. El carril de la derecha con precaución
- B. No se pueden realizar adelantamientos
- ☒ C. El carril de la izquierda con precaución

21.Cuál de las siguientes definiciones describe mejor lo que son las señales de tránsito:

- A. Dispositivo físico o marca especial, preventiva, reglamentaria e informativa, que indica la forma correcta como deben transitar los usuarios de las vías.
- ☒ B. Un sistema directo de comunicación mediante el cual se emiten mensajes convencionales a conductores y usuarios de las vías, para que estos respondan con un comportamiento adecuado.
- C. Un sistema de elementos pintados en el piso, que informan a las personas que transitan por una vía cómo y por donde debe desplazarse

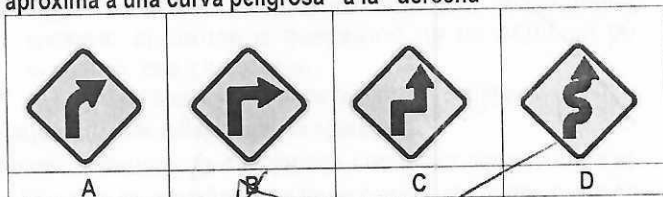
22. Cuáles de las siguientes funciones no le corresponde a las señales de tránsito:

- ☒ A. Adornar la ciudad
- B. Informar a los usuarios
- C. Aumentar la seguridad
- D. Mejorar la movilidad de las personas

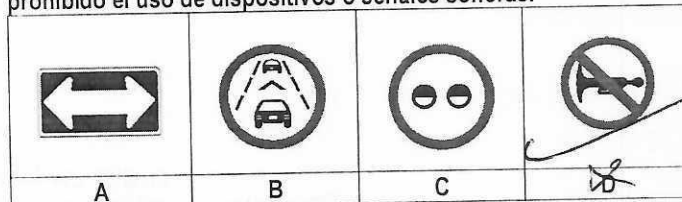
23. Las señales verticales se clasifican en:

- A. Longitudinales y transversales
- B. Blancas y amarillas
- C. Rayas dobles continuas y discontinuas
- ☒ D. Reglamentarias, informativas, preventivas y transitorias.

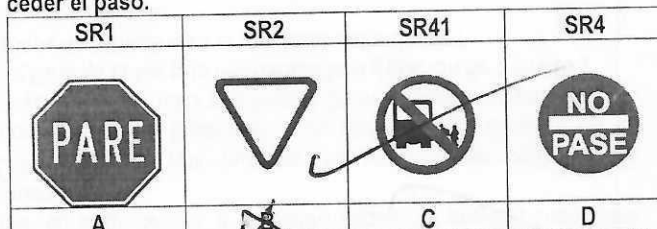
24. Cuál de las siguientes señales indica al conductor que se aproxima a una curva peligrosa a la derecha



25. Cuál de las siguientes señales indica al conductor que está prohibido el uso de dispositivos o señales sonoras.



26. Cuál de las siguientes señales indica al conductor que debe ceder el paso.



27. Cuál de las siguientes señales previene al conductor que se aproxima a una zona donde puede circular maquinaria agrícola.



28. Cuál de las siguientes señales indica al conductor que se aproxima a una curva pronunciada a la derecha



29. Cuando usted va por una calzada de dos carriles, doble sentido de circulación y en la mitad hay pintadas dos líneas amarillas continuas, esto le indica que:

- A. Puede adelantar al vehículo que va adelante con cuidado
- B. Que la visibilidad y las condiciones geométricas de la vía son deficientes
- ☒ C. Que no puede realizar adelantamientos en ningún sentido
- D. Que puede cambiar de carril.

Elaboró: Coordinador SST y PESV

Revisó: Asesor SST

Aprobó: Gerente



PRUEBA TEORICA DE CONDUCCIÓN

Versión 03
Fecha: 19/04/2023

INFRACCIONES, SANCIONES Y PROCEDIMIENTOS

30. ¿En cuál de las siguientes infracciones, el conductor de un vehículo automotor es sancionado con multa equivalente a 45 salarios mínimos legales diarios vigentes?

- ☒ A. Conducir sin portar los seguros ordenados por la Ley. Además, el vehículo, será inmovilizado
- ☐ B. Realizar el cargue o descargue de un vehículo en sitios y horas prohibidas por las autoridades competentes, de acuerdo con lo establecido en las normas correspondientes
- ☐ C. Proveer combustible a vehículos de servicio público con pasajeros a bordo

31. El conductor de un vehículo automotor que incurra en la infracción:

"NO RESPETAR EL PASO DE PEATONES QUE CRUZAN UNA VÍA EN SITIO PARA ELLOS O NO DARLES LA PRELACIÓN EN LAS FRANJAS ESTABLECIDAS PARA ELLOS",

Será sancionado con:

- ☐ A. Multa equivalente a 30 Salarios mínimos legales diarios vigentes
- ☐ B. Multa equivalente a 08 Salarios mínimos legales diarios vigentes
- ☒ C. Multa equivalente a 15 Salarios mínimos legales diarios vigentes

32. Las multas son impuestas a:

- ☐ A. A quien no tenga licencia de conducción
- ☐ B. A quien cometa una infracción
- ☒ C. A Y B son correctas
- ☐ D. Ninguno de los anteriores

33. Un comparendo por infracción a una norma de tránsito es:

- ☒ A. Una orden de pago de la multa que debe ser cancelada a la secretaria de tránsito del lugar donde se cometió la infracción.
- ☐ B. El informe del policía o agente de tránsito que conoció la infracción para el pago de la respectiva multa.
- ☐ C. Una orden de comparecer ante las autoridades de tránsito de la localidad donde se cometió la infracción, con el fin de rendir descargos e iniciar la investigación con sus recursos.

D. Un requisito para el control sobre el cumplimiento de las normas de tránsito.

34. Los comparendos por infracciones a las normas de tránsito los pueden diligenciar:

- ☒ A. Los agentes y policías de tránsito de la jurisdicción.
- ☐ B. Los inspectores de aduanas
- ☐ C. Cualquier autoridad de tránsito
- ☐ D. Las autoridades municipales o departamentales.

35. En caso de un accidente de tránsito entre dos vehículos, estando usted involucrado como conductor y haya lesionados. ¿Qué procedimiento debe realizar?

- ☐ A. Apartar los dos vehículos involucrados de la vía para evitar una congestión vehicular. Prevalecen los daños materiales.
- ☐ B. Prevalecer los daños humanos. Los vehículos se ponen a un costado para habilitar una porción de la vía y no ocasionar caos vehicular.
- ☒ C. Los vehículos son llevados a un parqueadero o lugar cercano para que las autoridades puedan inmovilizarlo y no ocasionar trancones. Llevando a los heridos a un centro asistencial prevaleciendo vidas humanas.

☒ D. Prevalece la vida humana, se trasladan en vehículos de emergencia a los lesionados. Los vehículos accidentados no se mueven del lugar hasta que lleguen las autoridades competentes.

36. ¿Cuál es la ley que contempla la regulación de tránsito y transporte terrestre en el territorio colombiano?

- ☐ A. Ley 697 de 2002
- ☒ B. Ley 796 de 2012
- ☐ C. Ley 769 de 2002
- ☐ D. Ley 967 de 2012

Revisó:

Jesús Alberto Briceño Medina
Coordinador de SST-Líder del PESV

Elaboró: Coordinador SST y PESV

Revisó: Asesor SST

Aprobó: Gerente