





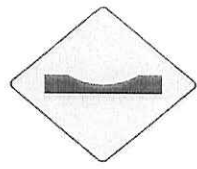
Nombre actual del cargo: *conductor vehículo liviano*

Nombre del evaluado: *Ramon Emilio Panera*

Identificación: *7038062463*

Lea cuidadosamente las preguntas antes de contestarlas, si no entiende alguno de los enunciados por favor solicite a quien supervisa la aplicación de la prueba que le aclare las inquietudes.

1. Coloque al frente el significado o el nombre correspondiente a la señal

 SR-14	<i>Prohibido culebrar y sacar entre carriles</i>	✓
 SR-11	<i>vía de doble sentido</i>	✓
 SR-28A	<i>Prohibido estacionarse y estacionar</i>	✓
 SR-26	<i>No adelantar Prohibido</i>	✓
 SP-26	<i>Reductor o resalto en pavimento</i>	✓

PRUEBA DE CONOCIMIENTOS CONDUCTORES

 <p>SP-44</p>	<p>Advertencia via resbalosa - húmeda - lisa</p>	✓
 <p>SP-42</p>	<p>Advertencia de derrumbes en la vía</p>	✓
 <p>SP-27</p>	<p>Bajada muy inclinada bajar con precaución.</p>	✓
 <p>SI-22</p>	<p>Estacion de servicio de combustible</p>	✓
 <p>SI-25</p>	<p>Zona exclusivamente para personas discapacitadas</p>	✓
<p>SI-23</p>  <p>SI-23</p>	<p>monta llantas</p>	✓
 <p>SI-21</p>	<p>Taller de mecánica</p>	✓



pavimentar
ingeniería al futuro

PRUEBA DE CONOCIMIENTOS CONDUCTORES

Señale con una X o un círculo la respuesta correcta:

2. El documento que acredita a una persona como conductor es:

- A. Cedula de ciudadanía
- B. la matricula
- ☒ C. La licencia de conducción
- D. La tarjeta de operación

3. Está prohibido adelantar en:

- A. Vías arterias
- B. Avenidas
- ☒ C. Curvas, puentes y pasos a nivel
- D. Ninguna de las anteriores

4. La berma es parte de:

- A. El andén
- B. El vehículo
- ☒ C. La vía
- D. Ninguna de las anteriores

5. Las señales reglamentarias son:

- A. Fondo amarilla y forma negra
- B. Azules y blancas
- ☒ C. Círculo rojo, fondo blanco y símbolo negro

6. La señalización horizontal sobre la vía que permite adelantar otro vehículo es:

- A. La línea sencilla y continua
- ☒ B. Las líneas doble y a trazos
- C. Las líneas dobles y continua
- D. Las flechas

7. La señal de pare es:

- A. Preventiva
- B. Informativa
- ☒ C. Reglamentaria
- D. Ninguna de las anteriores



pavimentar
ingeniería al futuro

PRUEBA DE CONOCIMIENTOS CONDUCTORES

8. El semáforo es:

- ☒ A. Una señal de tránsito
- B. Un dispositivo de regulación de tránsito
- C. Una marca vial
- D. Un poste de iluminación

9. La parte de la vía destinada para el tránsito de peatones se llama:

- A. Peralte
- B. Bahía
- ☒ C. Andén
- D. separador

10. Las señales preventivas son:

- A. Rojas y blancas
- ☒ B. Amarillas y negras
- C. Azules y blancas

11. ¿Qué es manejo defensivo?

- ☒ A. Un conjunto de habilidades que te permiten defenderte de la probabilidad de un accidente
- B. Adelantamiento rápido a otro vehículo para llegar primero al destino
- C. Tener toda la documentación del vehículo al día
- D. Ninguna de las anteriores

12. Según el artículo 30 del código nacional de tránsito los elementos mínimos que debe tener un vehículo en su equipo de carretera para poder transitar son.

- A. Un gato con capacidad para elevar el vehículo
- B. Una cruceta
- C. Dos señales de carretera en forma de triángulo en material reflectivo
- D. Un botiquín de primeros auxilios
- E. Un extintor
- F. Dos tacos para bloquear el vehículo
- G. Llantia de repuesto
- H. Linterna
- I. Caja de herramientas básica que como mínimo deberá contener, alicate, destornilladores, llave de expansión y llaves fijas
- ☒ J. Todas las anteriores