

NOMBRE Y APELLIDO: Juan RIVERA

FECHA: 08/07/25

EDAD: 31

Marque una sola respuesta.

1. Al conducir se presenta unos espacios los cuales no se pueden ver ni siquiera por los espejos a estos espacios se les conoce como puntos:

- a) Invisibles
- b) Ocultos
- c) Recónditos
- ☒ d) Ciegos

2. Las personas bajo la influencia de alcohol, drogas alucinógenas, trastornos mentales, invidentes, sordomudos, menores de 6 años y los ancianos pertenecen a peatones:


- a) Imprudentes
- ☒ b) Especiales
- c) Ignorantes
- d) Ciegos.

3. De acuerdo con el código nacional de tránsito donde se encuentra concentración de personas debe reducir la velocidad a:

- a) 20 km / h.
- b) 25 km / h.
- ☒ c) 30 km / h.
- d) 35 km / h

4. En las vías urbanas donde está permitido el estacionamiento se hará lo más cercano posible al andén, a una distancia no superior a:

- ☒ a) (30) centímetros del andén.
- b) (35) centímetros del andén.
- c) (40) centímetros del andén.
- d) (45) centímetros del andén.

	<p>PRUEBA TEÓRICA PARA CONDUCTORES</p>	<p>Aprobó Gerente General 07/05/2025</p>
		<p>S-SIG-PESV-F-20 V.2</p>

5. El manejo preventivo o defensivo es:

- a) Exigir a los otros conductores que respeten mis derechos en la vía.
- b) Maniobrar el vehículo a muy baja velocidad por el carril derecho.
- ✓ ☒ c) Operar el vehículo evitando cualquier tipo de riesgo y accidente.
- d) Conducir el vehículo gastando combustible y piezas en menor porcentaje.

Marque una sola respuesta

6. Viajando de noche usted es encandilado por las luces de un vehículo que viene en sentido contrario, ¿Qué debería usted hacer?

- ✓ ☒ a) Bajar su visión de protección solar
- b) Poner luces delanteras atrás
- c) Poner sus manos sobre sus ojos
- ☒ d) Bajar la velocidad y eventualmente detenerse.

7. En qué caso se reduce la velocidad a 30 Km / h

- ✓ ☒ a) Zonas escolares
- b) En pasos peatonales
- c) Por la berma o por la derecha de un vehículo

8. Que ley dicta las disposiciones penales administrativas bajo el influjo de alcohol u otras sustancias.

- ✓ ☒ a) Ley 1811
- b) Ley 1005
- ☒ c) Ley 1696


9.Cuál es el Artículo que habla de las Multas de la Ley 1383 de 2010

- a) Artículo 80
- ✓ ☒ b) Artículo 131
- c) Artículo 90
- d) Artículo 60

10. En que Artículo se habla de: Ningún vehículo podrá llevar un número de pasajeros superior a la capacidad señalada en la Tarjeta de Propiedad con excepción de los niños de brazos.

- a) Artículo 86
- b) Artículo 79
- c) Artículo 82

11. Un bus está detenido en una parada delante suyo. El intermitente izquierdo del bus está parpadeando. ¿Qué hace usted?




- a) Hace parpadear sus luces delanteras y disminuye la velocidad
- b) Toca la bocina y continua
- c) Disminuye la velocidad y luego toca la bocina
- d) Disminuye la velocidad y cede el paso al bus, siempre que ello sea seguro.

12. Esta imagen a que grupo de Señales de Transito pertenecen



- a) Señales Informativas
- b) Señales Reglamentarias
- c) Señales Preventivas
- d) Señales de Piso.

	PRUEBA TEÓRICA PARA CONDUCTORES	Aprobó Gerente General 07/05/2025
		S-SIG-PESV-F-20 V.2

13. Que significa la doble línea Amarilla

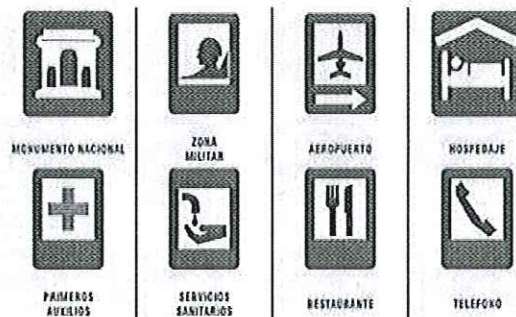
- ✓
- a) Es un puente invisible.
 - b) Autorizado para adelantar
 - ✓ c) Por ninguna razón no se puede adelantar otro vehículo
 - d) Es una línea que Indica detenerse

14. ¿De qué le advierte esta señal?



- a) Presencia de escolares
- b) Cruce de peatones
- c) Presencia de niños jugando
- d) Parque o plaza

15. Explique qué significan Las señales Informativas de tránsito



Mostrar a Los usuarios de la vía información de lugares
de interés

	PRUEBA TEÓRICA PARA CONDUCTORES	Aprobó Gerente General 07/05/2025
		S-SIG-PESV-F-20 V.2

- X
- a) Señales Reglamentarias
 - ☒ b) Señales Preventivas
 - c) Señales Transitorias
 - d) Señales Informativas

21. Mientras va conduciendo su vehículo suena el celular. Si su celular no cuenta con el sistema de manos libres ¿Qué hace para responder la llamada?

- ✓
- a) Reduce su velocidad
 - ☒ b) Estacionar el vehículo en un sitio seguro para contestar la llamada
 - c) Conduce con una mano en el volante y la otra contesta la llamada
 - d) Es especialmente cauteloso en las intersecciones

22. Al ir circulando en su vehículo usted enfrenta esta señal. ¿Qué significa?




- X
- a) Que usted puede conducir hasta el 10% más rápido. Porque la señal es solo una recomendación
 - b) Que, en días no hábiles, cuando hay poco tránsito, no rige tal restricción.
 - c) Que usted no debe exceder esta velocidad
 - ☒ d) Que usted debe mantener una velocidad inferior a la indicada en la señal

23. ¿Qué significa esta señal de tránsito?



- a) Gravilla suelta
- b) Peligro de que se pinche los neumáticos
- ☒ c) Pavimento resbaladizo

24.Cuál de los siguientes tipos de señales le indican el prohibido.

	<p>PRUEBA TEÓRICA PARA CONDUCTORES</p>	<p>Aprobó Gerente General 07/05/2025</p>
		<p>S-SIG-PESV-F-20 V.2</p>

16. Cuáles son las Señales de tránsito que están clasificadas en Señales Horizontales.

- ✓ ☒ a) Señales Lineales, Oblicuas y Transversales
☐ b) Señales Reglamentarias, Preventivas
☐ c) Señales Informativas y Preventivas

17. Cada cuanto se realiza los alistamientos del vehículo.

- ✓ ☐ a) Mensual
☐ b) Semanal
☒ c) Diario
☐ d) Cada quince días

18. Que cubre la Póliza de Responsabilidad civil Extracontractual.

- ✓ ☒ a) Daños materiales y lesiones personales causados a terceros.
☐ b) Accidentes de tránsito
☐ c) Perjuicios materiales causados a los pasajeros

19. Un vehículo de transporte especial cada cuanto realiza las revisiones preventivas.

- ✓ ☒ a) Bimensual
☐ b) Diario
☐ c) Semanal
☐ d) Mensual

20. Estas señales de tránsito son:



Banderillero




Hombre trabajando



Equipo pesado en la vía



Trabajos en la banquina



a.



b.



c.

a) __, b) __, c) ~~X~~,

25. ¿Que esta indicando esta señal?




- a) Semáforo fuera de servicio
- ☒ b) Proximidad de semáforo
- c) Semáforo activado por peatones
- d) Semáforos sincronizados

26. Que es una Bifurcación y para qué sirve:



División de Carretera / una o mas alternativa de camino

27. Explique cómo es la figura y el color de las señales reglamentarias de tránsito

	<p>PRUEBA TEÓRICA PARA CONDUCTORES</p>	<p>Aprobó Gerente General 07/05/2025</p> <p>S-SIG-PESV-F-20 V.2</p>
--	--	---

✓ Ocultates - Reglas - Blanco y letras Negras

28. Como están Clasificadas las Señales de Tránsito.

- ✓
- a) Verticales y Horizontales.
 - ☒ b) Reglamentarias y Preventivas
 - c) Transversales y Oblicuas.

29. Que significa esta Señal de transito



- a) Doble vía
- ☒ b) Túnel
- c) Ceda el paso

30. Esta imagen a que grupo de Señales de Tránsito pertenecen



- a) Señales Reglamentarias.
- ☒ b) Señales Preventivas.


c) Señales Informativas.

31. Cuál de estas señales informan que hay una estación de servicio

Marque una respuesta:



a.



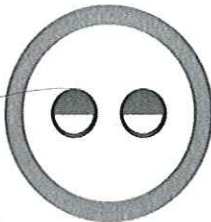
b.



c.

a) __, b) ~~X~~, c) __


32. ¿Cuál de estas señales reglamentarias es la señal de circulación con luces bajas?



a.



b.



c.

~~a~~

b.

c.

DIRECCION DE TRANSITO Y TRANSPORTE PUBLICOS

