



PRUEBA TEÓRICA PARA  
CONDUCTORES

Aprobó Gerente General  
07/05/2025

S-SIG-PESV-F-20 V.2

NOMBRE Y APELLIDO: Jose Alfredo Peña

FECHA: 01-07-2025

EDAD: 67 AÑOS

Marque una sola respuesta.

1. Al conducir se presenta unos espacios los cuales no se pueden ver ni siquiera por los espejos a estos espacios se les conoce como puntos:

- ✓
- a) Invisibles
  - b) Ocultos
  - c) Recónditos
  - ☒ d) Ciegos

2. Las personas bajo la influencia de alcohol, drogas alucinógenas, trastornos mentales, invidentes, sordomudos, menores de 6 años y los ancianos pertenecen a peatones:


- ✓
- a) Imprudentes
  - ☒ b) Especiales
  - c) Ignorantes
  - d) Ciegos.

3. De acuerdo con el código nacional de tránsito donde se encuentra concentración de personas debe reducir la velocidad a:

- ✓
- a) 20 km / h.
  - b) 25 km / h.
  - ☒ c) 30 km / h.
  - d) 35 km / h

4. En las vías urbanas donde está permitido el estacionamiento se hará lo más cercano posible al andén, a una distancia no superior a:

- ✓
- ☒ a) (30) centímetros del andén.
  - b) (35) centímetros del andén.
  - c) (40) centímetros del andén.
  - d) (45) centímetros del andén.

	PRUEBA TEÓRICA PARA CONDUCTORES	Aprobó Gerente General 07/05/2025
		S-SIG-PESV-F-20 V.2

5. El manejo preventivo o defensivo es:

- ✓
- a) Exigir a los otros conductores que respeten mis derechos en la vía.
  - b) Maniobrar el vehículo a muy baja velocidad por el carril derecho.
  - ☒ c) Operar el vehículo evitando cualquier tipo de riesgo y accidente.
  - d) Conducir el vehículo gastando combustible y piezas en menor porcentaje.

Marque una sola respuesta

6. Viajando de noche usted es encandilado por las luces de un vehículo que viene en sentido contrario, ¿Qué debería usted hacer?

- ✓
- a) Bajar su visión de protección solar
  - b) Poner luces delanteras atrás
  - c) Poner sus manos sobre sus ojos
  - ☒ d) Bajar la velocidad y eventualmente detenerse.

7. En qué caso se reduce la velocidad a 30 Km / h


- ✓
- ☒ a) Zonas escolares
  - b) En pasos peatonales
  - c) Por la berma o por la derecha de un vehículo

8. Que ley dicta las disposiciones penales administrativas bajo el influjo de alcohol u otras sustancias.

- ✓
- a) Ley 1811
  - b) Ley 1005
  - ☒ c) Ley 1696

9.Cuál es el Artículo que habla de las Multas de la Ley 1383 de 2010

- ✓
- a) Artículo 80
  - ☒ b) Artículo 131
  - c) Artículo 90
  - d) Artículo 60

	<p>PRUEBA TEÓRICA PARA CONDUCTORES</p>	<p>Aprobó Gerente General 07/05/2025</p>
		<p>S-SIG-PESV-F-20 V.2</p>

10. En que Artículo se habla de: Ningún vehículo podrá llevar un número de pasajeros superior a la capacidad señalada en la Tarjeta de Propiedad con excepción de los niños de brazos.

- ✓
- a) Artículo 86
  - b) Artículo 79
  - ☒ c) Artículo 82

11. Un bus está detenido en una parada delante suyo. El intermitente izquierdo del bus está parpadeando. ¿Qué hace usted?




- ✓
- a) Hace parpadear sus luces delanteras y disminuye la velocidad
  - b) Toca la bocina y continua
  - c) Disminuye la velocidad y luego toca la bocina
  - ☒ d) Disminuye la velocidad y cede el paso al bus, siempre que ello sea seguro.

12. Esta imagen a que grupo de Señales de Transito pertenecen



- ✓
- a) Señales Informativas
  - ☒ b) Señales Reglamentarias
  - c) Señales Preventivas
  - d) Señales de Piso.

	<b>PRUEBA TEÓRICA PARA CONDUCTORES</b>	Aprobó Gerente General 07/05/2025
		<b>S-SIG-PESV-F-20 V.2</b>

13. Que significa la doble línea Amarilla

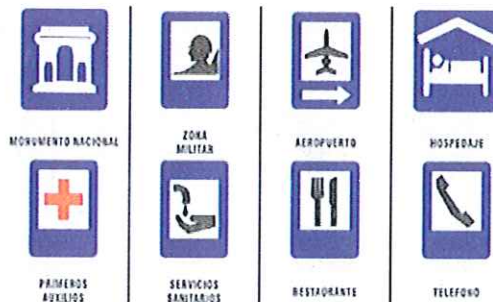
- ✓
- a) Es un puente invisible.
  - b) Autorizado para adelantar
  - ☒ c) Por ninguna razón no se puede adelantar otro vehículo
  - d) Es una línea que Indica detenerse

14. ¿De qué le advierte esta señal?




- X
- a) Presencia de escolares
  - ☒ b) Cruce de peatones
  - c) Presencia de niños jugando
  - d) Parque o plaza

15. Explique qué significan Las señales Informativas de tránsito



informa sitios zona militar hospitales  
restaurante hoteles aeropuertos iglesias



	PRUEBA TEÓRICA PARA CONDUCTORES	Aprobó Gerente General 07/05/2025
		S-SIG-PESV-F-20 V.2

16. Cuáles son las Señales de tránsito que están clasificadas en Señales Horizontales.

- ✗
- a) Señales Lineales, Oblicuas y Transversales
  - b) Señales Reglamentarias, Preventivas
  - ✗ c) Señales Informativas y Preventivas

17. Cada cuanto se realiza los alistamientos del vehículo.

- ✓
- a) Mensual
  - b) Semanal
  - ✗ c) Diario
  - d) Cada quince días

18. Que cubre la Póliza de Responsabilidad civil Extracontractual.

- ✓
- ✗ a) Daños materiales y lesiones personales causados a terceros.
  - b) Accidentes de tránsito
  - c) Perjuicios materiales causados a los pasajeros

19. Un vehículo de transporte especial cada cuanto realiza las revisiones preventivas.

- ✓
- ✗ a) Bimensual
  - b) Diario
  - c) Semanal
  - d) Mensual

20. Estas señales de tránsito son:



Banderillero




Hombre trabajando



Equipo pesado en la vía



Trabajos en la banquina

	PRUEBA TEÓRICA PARA CONDUCTORES	Aprobó Gerente General 07/05/2025
		S-SIG-PESV-F-20 V.2

- ☒ a) Señales Reglamentarias  
☐ b) Señales Preventivas  
☐ c) Señales Transitorias  
☒ d) Señales Informativas

21. Mientras va conduciendo su vehículo suena el celular. Si su celular no cuenta con el sistema de manos libres ¿Qué hace para responder la llamada?

- ☒ a) Reduce su velocidad  
☒ b) Estacionar el vehículo en un sitio seguro para contestar la llamada  
☐ c) Conduce con una mano en el volante y la otra contesta la llamada  
☐ d) Es especialmente cauteloso en las intersecciones

22. Al ir circulando en su vehículo usted enfrenta esta señal. ¿Qué significa?




- ☒ a) Que usted puede conducir hasta el 10% más rápido. Porque la señal es solo una recomendación  
☐ b) Que, en días no hábiles, cuando hay poco tránsito, no rige tal restricción.  
☒ c) Que usted no debe exceder esta velocidad  
☐ d) Que usted debe mantener una velocidad inferior a la indicada en la señal




23. ¿Qué significa esta señal de tránsito?



- ☒ a) Grava suelta  
☐ b) Peligro de que se pinche los neumáticos  
☒ c) Pavimento resbaladizo

24.Cuál de los siguientes tipos de señales le indican el prohibido.

	<b>PRUEBA TEÓRICA PARA CONDUCTORES</b>	Aprobó Gerente General 07/05/2025
		S-SIG-PESV-F-20 V.2

- ✓
- a.  b.  c. 
- a) \_\_, b) \_\_, c) X

25. ¿Que esta indicando esta señal?



- a) Semáforo fuera de servicio  
**b) Proximidad de semáforo**  
c) Semáforo activado por peatones  
d) Semáforos sincronizados

26. Que es una Bifurcación y para qué sirve:




señal en crucijada

\_\_\_\_\_

\_\_\_\_\_


27. Explique cómo es la figura y el color de las señales reglamentarias de tránsito

	<p>PRUEBA TEÓRICA PARA CONDUCTORES</p>	<p>Aprobó Gerente General 07/05/2025</p>
		<p>S-SIG-PESV-F-20 V.2</p>

28. Como están Clasificadas las Señales de Tránsito.

- ✓ a) Verticales y Horizontales.  
~~b)~~ Reglamentarias y Preventivas  
c) Transversales y Oblicuas.

29. Que significa esta Señal de tránsito




- ✓ a) Doble vía  
~~b)~~ Túnel  
c) Ceda el paso

30. Esta imagen a que grupo de Señales de Tránsito pertenecen



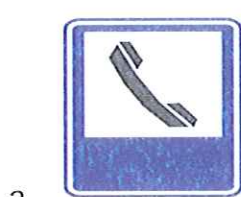
- ✓ a) Señales Reglamentarias.  
~~b)~~ Señales Preventivas.



	PRUEBA TEÓRICA PARA CONDUCTORES	Aprobó Gerente General 07/05/2025
		S-SIG-PESV-F-20 V.2

c) Señales Informativas.

31. Cuál de estas señales informan que hay una estación de servicio  
Marque una respuesta:

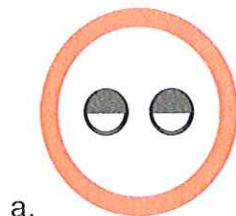


c



a) \_\_, b) ~~✓~~, c) \_\_

32. ¿Cuál de estas señales reglamentarias es la señal de circulación con luces bajas?



b.



c.



b.

c.

DIRECCION DE TRANSITO Y TRANSPORTE PUBLICOS

