

C: 31/32

NOMBRE Y APELLIDO: José Gustavo González  
FECHA: Dic. 17 / 2024 EDAD: 61

Marque una sola respuesta.

1. Al conducir se presenta unos espacios los cuales no se pueden ver ni siquiera por los espejos a estos espacios se les conoce como puntos:

- a) Invisibles
- b) Ocultos
- ☒ c) Recónditos
- ☒ d) Ciegos

2. Las personas bajo la influencia de alcohol, drogas alucinógenas, trastornos mentales, invidentes, sordomudos, menores de 6 años y los ancianos pertenecen a peatones:

- a) Imprudentes
- ☒ b) Especiales
- c) Ignorantes
- d) Ciegos.

3. De acuerdo con el código nacional de tránsito donde se encuentra concentración de personas debe reducir la velocidad a:

- a) 20 km / h.
- ☒ b) 25 km / h.
- ☒ c) 30 km / h.
- d) 35 km / h

4. En las vías urbanas donde está permitido el estacionamiento se hará lo más cercano posible al andén, a una distancia no superior a:

- ☒ a) (30) centímetros del andén.
- b) (35) centímetros del andén.
- c) (40) centímetros del andén.
- d) (45) centímetros del andén.

5. El manejo preventivo o defensivo es:

- ☐ a) Exigir a los otros conductores que respeten mis derechos en la vía.
- ☐ b) Maniobrar el vehículo a muy baja velocidad por el carril derecho.
- ☒ c) Operar el vehículo evitando cualquier tipo de riesgo y accidente.
- ☐ d) Conducir el vehículo gastando combustible y piezas en menor porcentaje.

Marque una sola respuesta

6. Viajando de noche usted es encandilado por las luces de un vehículo que viene en sentido contrario, ¿Qué debería usted hacer?

- ☐ a) Bajar su visión de protección solar
- ☐ b) Poner luces delanteras atrás
- ☒ c) Poner sus manos sobre sus ojos
- ☒ d) Bajar la velocidad y eventualmente detenerse.

7. En qué caso se reduce la velocidad a 30 Km / h

- ☒ a) Zonas escolares
- ☐ b) En pasos peatonales
- ☐ c) Por la berma o por la derecha de un vehículo

8. Que ley dicta las disposiciones penales administrativas bajo el influjo de alcohol u otras sustancias.

- ☒ a) Ley 1811
- ☐ b) Ley 1005
- ☒ c) Ley 1696

9.Cuál es el Artículo que habla de las Multas de la Ley 1383 de 2010

- ☒ a) Artículo 80
- ☒ b) Artículo 131
- ☐ c) Artículo 90
- ☐ d) Artículo 60

10. En que Artículo se habla de: Ningún vehículo podrá llevar un número de pasajeros superior a la capacidad señalada en la Tarjeta de Propiedad con excepción de los niños de brazos.

- a) Artículo 86
- b) Artículo 79
- ☒ c) Artículo 82

11. Un bus está detenido en una parada delante suyo. El intermitente izquierdo del bus está parpadeando. ¿Qué hace usted?



- a) Hace parpadear sus luces delanteras y disminuye la velocidad
- b) Toca la bocina y continua
- ☒ c) Disminuye la velocidad y luego toca la bocina
- ☒ d) Disminuye la velocidad y cede el paso al bus, siempre que ello sea seguro.

12. Esta imagen a que grupo de Señales de Transito pertenecen



- ☒ a) Señales Informativas
- ☒ b) Señales Reglamentarias
- c) Señales Preventivas
- d) Señales de Piso.



13. Que significa la doble línea Amarilla

- a) Es un puente invisible.
- b) Autorizado para adelantar
- ✓ ☒ c) Por ninguna razón no se puede adelantar otro vehículo
- d) Es una línea que Indica detenerse

14. ¿De qué le advierte esta señal?



- ✓ ☒ a) Presencia de escolares
- b) Cruce de peatones
- c) Presencia de niños jugando
- d) Parque o plaza

15. Explique qué significan Las señales Informativas de transito



Escenarios o Sitios de  
Interés

16. Cuáles son las Señales de tránsito que están clasificadas en Señales Horizontales.

- ☒ a) ~~Señales Lineales, Oblicuas y Transversales~~
- ☒ b) Señales Reglamentarias, Preventivas
- c) Señales Informativas y Preventivas

17. Cada cuanto se realiza los alistamientos del vehículo.

- a) Mensual
- ☒ b) Semanal
- ☒ c) ~~Diario~~
- d) Cada quince días

18. Que cubre la Póliza de Responsabilidad civil Extracontractual.

- ☒ a) ~~Daños materiales y lesiones personales causados a terceros.~~
- ☒ b) Accidentes de tránsito
- c) Perjuicios materiales causados a los pasajeros

19. Un vehículo de transporte especial cada cuanto realiza las revisiones preventivas.

- ☒ a) ~~Bimensual~~
- ☒ b) Diario
- c) Semanal
- d) Mensual

20. Estas señales de tránsito son:



- ☒ a) Señales Reglamentarias
- b) Señales Preventivas
- ☒ c) ~~Señales Transitorias~~
- ☒ d) ~~Señales Informativas~~

21. Mientras va conduciendo su vehículo suena el celular. Si su celular no cuenta con el sistema de manos libres ¿Qué hace para responder la llamada?


- a) Reduce su velocidad
- ☒ b) Estacionar el vehículo en un sitio seguro para contestar la llamada
- ☒ c) Conduce con una mano en el volante y la otra contesta la llamada
- d) Es especialmente cauteloso en las intersecciones

22. Al ir circulando en su vehículo usted enfrenta esta señal. ¿Qué significa?



- a) Que usted puede conducir hasta el 10% más rápido. Porque la señal es solo una recomendación
- ☒ b) Que, en días no hábiles, cuando hay poco tránsito, no rige tal restricción.
- ☒ c) Que usted no debe exceder esta velocidad
- d) Que usted debe mantener una velocidad inferior a la indicada en la señal

23. ¿Qué significa esta señal de tránsito?



- ☒ a) Gravilla suelta
- b) Peligro de que se pinche los neumáticos
- ☒ c) Pavimento resbaladizo

24.Cuál de los siguientes tipos de señales le indican el prohibido.



a.



b.




c.

a)\_\_\_, b)\_\_\_,

c) ☒



25. ¿Que esta indicando esta señal?



- a) Semáforo fuera de servicio
- ☒ b) Proximidad de semáforo
- c) Semáforo activado por peatones
- d) Semáforos sincronizados

26. Que es una Bifurcación y para qué sirve:



☒ Indica que la vía se separa a la derecha e izquierda

27. Explique cómo es la figura y el color de las señales reglamentarias de tránsito

☒ Forma Circular o rectangular Verde  
de un círculo rojo

28. Como están Clasificadas las Señales de Tránsito.

- ☒ a) Verticales y Horizontales.
- ☒ b) Reglamentarias y Preventivas
- c) Transversales y Oblicuas.

29. Que significa esta Señal de transito





- ✓
- a) Doble vía
  - ☒ b) Túnel
  - c) Ceda el paso

30. Esta imagen a que grupo de Señales de Transito pertenecen



- X
- a) Señales Reglamentarias.
  - b) Señales Preventivas.
  - ☒ c) Señales Informativas.

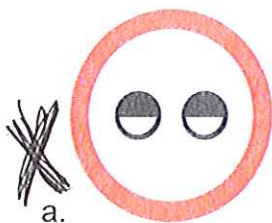
31. Cuál de estas señales informan que hay una estación de servicio  
Marque una respuesta:





a)\_\_\_\_, b) ~~X~~, c)\_\_\_\_

32. ¿Cuál de estas señales reglamentarias es la señal de circulación con luces bajas?



a.



b.



c.

a.

b.

c.