

	PRUEBA TEÓRICA PARA CONDUCTORES	Aprobó Gerente General 07/05/2025
		S-SIG-PESV-F-20 V.2

NOMBRE Y APELLIDO: JULIAN GUSTAVO PINZON

FECHA: 07/07/2025 \_\_\_\_\_ EDAD:

47

Marque una sola respuesta.

- Al conducir se presenta unos espacios los cuales no se pueden ver ni siquiera por los espejos a estos espacios se les conoce como puntos:
  - Invisibles
  - Ocultos
  - Recónditos
  - Ciegos**
- Las personas bajo la influencia de alcohol, drogas alucinógenas, trastornos mentales, invidentes, sordomudos, menores de 6 años y los ancianos pertenecen a peatones:
  - Imprudentes
  - Especiales**
  - Ignorantes
  - Ciegos.
- De acuerdo con el código nacional de tránsito donde se encuentra concentración de personas debe reducir la velocidad a:
  - 20 km / h.
  - 25 km / h.
  - 30 km / h.**
  - 35 km / h
- En las vías urbanas donde está permitido el estacionamiento se hará lo más cercano posible al andén, a una distancia no superior a:
  - (30) centímetros del andén.**
  - (35) centímetros del andén.
  - (40) centímetros del andén.
  - (45) centímetros del andén.

	<b>PRUEBA TEÓRICA PARA CONDUCTORES</b>	<b>Aprobó Gerente General 07/05/2025</b>
		<b>S-SIG-PESV-F-20 V.2</b>

5. El manejo preventivo o defensivo es:

- a) Exigir a los otros conductores que respeten mis derechos en la vía.
- b) Maniobrar el vehículo a muy baja velocidad por el carril derecho.
- c) Operar el vehículo evitando cualquier tipo de riesgo y accidente.
- d) Conducir el vehículo gastando combustible y piezas en menor porcentaje.

Marque una sola respuesta

6. Viajando de noche usted es encandilado por las luces de un vehículo que viene en sentido contrario, ¿Qué debería usted hacer?

- a) Bajar su visión de protección solar
- b) Poner luces delanteras atrás
- c) Poner sus manos sobre sus ojos
- d) Bajar la velocidad y eventualmente detenerse.

7. En qué caso se reduce la velocidad a 30 Km / h

- a) Zonas escolares
- b) En pasos peatonales
- c) Por la berma o por la derecha de un vehículo

8. Que ley dicta las disposiciones penales administrativas bajo el influjo de alcohol u otras sustancias.

- a) Ley 1811
- b) Ley 1005
- c) Ley 1696

9. Cuál es el Artículo que habla de las Multas de la Ley 1383 de 2010

- a) Artículo 80
- b) Artículo 131
- c) Artículo 90
- d) Artículo 60

	<b>PRUEBA TEÓRICA PARA CONDUCTORES</b>	<b>Aprobó Gerente General 07/05/2025</b>
		<b>S-SIG-PESV-F-20 V.2</b>

10. En que Artículo se habla de: Ningún vehículo podrá llevar un número de pasajeros superior a la capacidad señalada en la Tarjeta de Propiedad con excepción de los niños de brazos.

- a) Artículo 86
- b) Artículo 79
- c) Artículo 82

11. Un bus está detenido en una parada delante suyo. El intermitente izquierdo del bus está parpadeando. ¿Qué hace usted?



- a) Hace parpadear sus luces delanteras y disminuye la velocidad
- b) Toca la bocina y continua
- c) Disminuye la velocidad y luego toca la bocina
- d) Disminuye la velocidad y cede el paso al bus, siempre que ello sea seguro.

12. Esta imagen a que grupo de Señales de Transito pertenecen



- a) Señales Informativas
- b) Señales Reglamentarias
- c) Señales Preventivas
- d) Señales de Piso.

	<b>PRUEBA TEÓRICA PARA CONDUCTORES</b>	<b>Aprobó Gerente General 07/05/2025</b>
		<b>S-SIG-PESV-F-20 V.2</b>

13. Que significa la doble línea Amarilla

- a) Es un puente invisible.
- b) Autorizado para adelantar
- c) Por ninguna razón no se puede adelantar otro vehículo
- d) Es una línea que Indica detenerse

14. ¿De qué le advierte esta señal?



- a) Presencia de escolares
- b) Cruce de peatones
- c) Presencia de niños jugando
- d) Parque o plaza

15. Explique qué significan Las señales Informativas de transito



Son señales que proporcionan información útil al conductor y a los peatones sobre servicios, direcciones, destinos, lugares de interés o características de la vía.

	<b>PRUEBA TEÓRICA PARA CONDUCTORES</b>	<b>Aprobó Gerente General 07/05/2025</b>
		<b>S-SIG-PESV-F-20 V.2</b>

16. Cuáles son las Señales de tránsito que están clasificadas en Señales Horizontales.

- a) Señales Lineales, Oblicuas y Transversales
- b) Señales Reglamentarias, Preventivas
- c) Señales Informativas y Preventivas

17. Cada cuanto se realiza los alistamientos del vehículo.

- a) Mensual
- b) Semanal
- c) Diario
- d) Cada quince días

18. Que cubre la Póliza de Responsabilidad civil Extracontractual.

- a) Daños materiales y lesiones personales causados a terceros.
- b) Accidentes de tránsito
- c) Perjuicios materiales causados a los pasajeros

19. Un vehículo de transporte especial cada cuanto realiza las revisiones preventivas.

- a) Bimensual
- b) Diario
- c) Semanal
- d) Mensual

20. Estas señales de tránsito son:



	<b>PRUEBA TEÓRICA PARA CONDUCTORES</b>	<b>Aprobó Gerente General 07/05/2025</b>
		<b>S-SIG-PESV-F-20 V.2</b>

- a) Señales Reglamentarias
- b) Señales Preventivas
- c) Señales Transitorias**
- d) Señales Informativas

21. Mientras va conduciendo su vehículo suena el celular. Si su celular no cuenta con el sistema de manos libres ¿Qué hace para responder la llamada?

- a) Reduce su velocidad
- b) Estacionar el vehículo en un sitio seguro para contestar la llamada**
- c) Conduce con una mano en el volante y la otra contesta la llamada
- d) Es especialmente cauteloso en las intersecciones

22. Al ir circulando en su vehículo usted enfrenta esta señal. ¿Qué significa?



- a) Que usted puede conducir hasta el 10% más rápido. Porque la señal es solo una recomendación
- b) Que, en días no hábiles, cuando hay poco tránsito, no rige tal restricción.
- c) Que usted no debe exceder esta velocidad**
- d) Que usted debe mantener una velocidad inferior a la indicada en la señal




23. ¿Qué significa esta señal de transito?



- a) Gravilla suelta
- b) Peligro de que se pinche los neumáticos
- c) Pavimento resbaladizo**

24.Cuál de los siguientes tipos de señales le indican el prohibido.

	<b>PRUEBA TEÓRICA PARA CONDUCTORES</b>	<b>Aprobó Gerente General 07/05/2025</b>
		<b>S-SIG-PESV-F-20 V.2</b>

- a. 
- b. 
- c. 
- a) \_\_\_, b) \_\_\_, c) X,

25. ¿Que esta indicando esta señal?



- a) Semáforo fuera de servicio
- b) Proximidad de semáforo**
- c) Semáforo activado por peatones
- d) Semáforos sincronizados

26. Que es una Bifurcación y para qué sirve:



Es una división de una vía en dos o más ramales. Sirve para que los vehículos puedan tomar diferentes direcciones de circulación.

27. Explique cómo es la figura y el color de las señales reglamentarias de tránsito

	<b>PRUEBA TEÓRICA PARA CONDUCTORES</b>	<b>Aprobó Gerente General 07/05/2025</b>
		<b>S-SIG-PESV-F-20 V.2</b>

Son de forma generalmente circular, con fondo blanco y borde rojo; sus símbolos o leyendas son de color negro. La excepción son las de "Pare" y "Ceda el paso".

28. Como están Clasificadas las Señales de Tránsito.

- a) Verticales y Horizontales.
- b) Reglamentarias y Preventivas
- c) Transversales y Oblicuas.

29. Que significa esta Señal de tránsito



- a) Doble vía
- b) Túnel
- c) Ceda el paso

30. Esta imagen a que grupo de Señales de Tránsito pertenecen






- a) Señales Reglamentarias.
- b) Señales Preventivas.






	<b>PRUEBA TEÓRICA PARA CONDUCTORES</b>	<b>Aprobó Gerente General 07/05/2025</b>
		<b>S-SIG-PESV-F-20 V.2</b>

c) Señales Informativas.

31. Cuál de estas señales informan que hay una estación de servicio  
Marque una respuesta:

- a.  b.  c. 
- a)\_\_\_, b)X, c)\_\_\_\_\_

32. ¿Cuál de estas señales reglamentarias es la señal de circulación con luces bajas?

- a.  b.  c. 
- a. X b. c.

**DIRECCION DE TRANSITO Y TRANSPORTE PUBLICOS**