

C=  $\frac{30}{32}$ .

NOMBRE Y APELLIDO: David Samuel Ballen.

FECHA: 29 de octubre / 2024.

EDAD: 43.

Marque una sola respuesta.

1. Al conducir se presenta unos espacios los cuales no se pueden ver ni siquiera por los espejos a estos espacios se les conoce como puntos:

a) Invisibles  
b) Ocultos  
c) Recónditos  
☒ d) Ciegos ✓

2. Las personas bajo la influencia de alcohol, drogas alucinógenas, trastornos mentales, invidentes, sordomudos, menores de 6 años y los ancianos pertenecen a peatones:

a) Imprudentes  
☒ b) Especiales ✓  
c) Ignorantes  
d) Ciegos.

3. De acuerdo con el código nacional de tránsito donde se encuentra concentración de personas debe reducir la velocidad a:

☒ a) 20 km / h.  
b) 25 km / h.  
c) 30 km / h. X  
d) 35 km / h

4. En las vías urbanas donde está permitido el estacionamiento se hará lo más cercano posible al andén, a una distancia no superior a:

☒ a) (30) centímetros del andén. 2 ✓  
b) (35) centímetros del andén.  
c) (40) centímetros del andén.  
d) (45) centímetros del andén.

5. El manejo preventivo o defensivo es:

- ☒ a) Exigir a los otros conductores que respeten mis derechos en la vía.
- b) Maniobrar el vehículo a muy baja velocidad por el carril derecho.
- c) Operar el vehículo evitando cualquier tipo de riesgo y accidente. X
- d) Conducir el vehículo gastando combustible y piezas en menor porcentaje.

Marque una sola respuesta

6. Viajando de noche usted es encandilado por las luces de un vehículo que viene en sentido contrario, ¿Qué debería usted hacer?

- a) Bajar su visión de protección solar
- b) Poner luces delanteras atrás
- c) Poner sus manos sobre sus ojos
- ☒ d) Bajar la velocidad y eventualmente detenerse. 2 ✓

7. En qué caso se reduce la velocidad a 30 Km / h

- ☒ a) Zonas escolares ✓
- b) En pasos peatonales
- c) Por la berma o por la derecha de un vehículo

8. Que ley dicta las disposiciones penales administrativas bajo el influjo de alcohol u otras sustancias.

- a) Ley 1811
- b) Ley 1005
- ☒ c) Ley 1696 ✓

9.Cuál es el Artículo que habla de las Multas de la Ley 1383 de 2010

- a) Artículo 80
- ☒ b) Artículo 131 ✓
- c) Artículo 90
- d) Artículo 60

10. En que Artículo se habla de: Ningún vehículo podrá llevar un número de pasajeros superior a la capacidad señalada en la Tarjeta de Propiedad con excepción de los niños de brazos.

- a) Artículo 86
- b) Artículo 79
- ☒ c) Artículo 82 ✓

11. Un bus está detenido en una parada delante suyo. El intermitente izquierdo del bus está parpadeando. ¿Qué hace usted?



- a) Hace parpadear sus luces delanteras y disminuye la velocidad
- b) Toca la bocina y continua
- c) Disminuye la velocidad y luego toca la bocina
- ☒ d) Disminuye la velocidad y cede el paso al bus, siempre que ello sea seguro. ✓

12. Esta imagen a que grupo de Señales de Transito pertenecen



- a) Señales Informativas
- ☒ b) Señales Reglamentarias ✓
- c) Señales Preventivas
- d) Señales de Piso.



13. Que significa la doble línea Amarilla

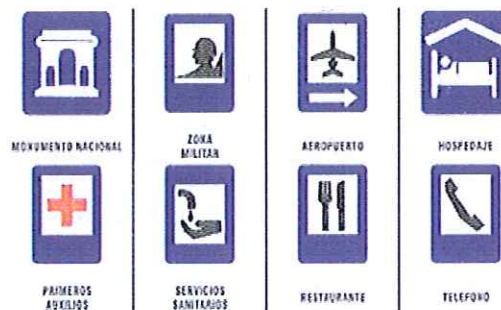
- a) Es un puente invisible.
- b) Autorizado para adelantar
- ☒ c) Por ninguna razón no se puede adelantar otro vehículo ✓
- d) Es una línea que Indica detenerse

14. ¿De qué le advierte esta señal?



- ☒ a) Presencia de escolares ✓
- b) Cruce de peatones
- c) Presencia de niños jugando
- d) Parque o plaza

15. Explique qué significan Las señales Informativas de tránsito



son como su nombre lo indica son señales que nos indican  
que a tal distancia hay de estos lugares. Hospital, Aeropuerto,  
Restaurante etc.

16. Cuáles son las Señales de tránsito que están clasificadas en Señales Horizontales.

- ☒ a) Señales Lineales, Oblicuas y Transversales ✓
- b) Señales Reglamentarias, Preventivas
- c) Señales Informativas y Preventivas

17. Cada cuanto se realiza los alistamientos del vehículo.

- a) Mensual
- b) Semanal
- ☒ c) Diario ✓
- d) Cada quince días

18. Que cubre la Póliza de Responsabilidad civil Extracontractual.

- ☒ a) Daños materiales y lesiones personales causados a terceros. ✓
- b) Accidentes de tránsito
- c) Perjuicios materiales causados a los pasajeros

19. Un vehículo de transporte especial cada cuanto realiza las revisiones preventivas.

- ☒ a) Bimensual ✓
- b) Diario
- c) Semanal
- d) Mensual

20. Estas señales de tránsito son:



Banderillero



Hombre trabajando



Equipo pesado en la vía



Trabajos en la banquina

- a) Señales Reglamentarias
- b) Señales Preventivas
- ☒ c) Señales Transitorias ✓
- d) Señales Informativas

21. Mientras va conduciendo su vehículo suena el celular. Si su celular no cuenta con el sistema de manos libres ¿Qué hace para responder la llamada?

- a) Reduce su velocidad
- ☒ b) Estacionar el vehículo en un sitio seguro para contestar la llamada ✓
- c) Conduce con una mano en el volante y la otra contesta la llamada
- d) Es especialmente cauteloso en las intersecciones

22. Al ir circulando en su vehículo usted enfrenta esta señal. ¿Qué significa?



- a) Que usted puede conducir hasta el 10% más rápido. Porque la señal es solo una recomendación
- b) Que, en días no hábiles, cuando hay poco tránsito, no rige tal restricción.
- ☒ c) Que usted no debe exceder esta velocidad ✓
- d) Que usted debe mantener una velocidad inferior a la indicada en la señal

23. ¿Qué significa esta señal de tránsito?



- a) Gravilla suelta
- b) Peligro de que se pinche los neumáticos
- ☒ c) Pavimento resbaladizo ✓

24.Cuál de los siguientes tipos de señales le indican el prohibido.



a.



b.



c.

a) \_\_, b) \_\_,

c) X, ✓



25. ¿Que esta indicando esta señal?



- a) Semáforo fuera de servicio
- ☒ b) Proximidad de semáforo ✓
- c) Semáforo activado por peatones
- d) Semáforos sincronizados

26. Que es una Bifurcación y para qué sirve:



Donde la via se divide en 2 direcciones.  
donde uno puede tomar ala derecha o ala izquierda. ✓

27. Explique cómo es la figura y el color de las señales reglamentarias de transito

Las Señales Reglamentarias son de color Rojo y siempre.  
tienen una raya horizontal que significa el prohibido. ✓

28. Como están Clasificadas las Señales de Tránsito.

- a) Verticales y Horizontales.
- ☒ b) Reglamentarias y Preventivas ✓
- c) Transversales y Oblicuas.

29. Que significa esta Señal de transito



- a) Doble vía
- ☒ b) Túnel
- c) Ceda el paso

30. Esta imagen a que grupo de Señales de Transito pertenecen



- a) Señales Reglamentarias.
- ☒ b) Señales Preventivas.
- c) Señales Informativas.

31. Cuál de estas señales informan que hay una estación de servicio  
Marque una respuesta:

a.



☒





c.





a) \_\_, b) ~~\_\_~~, c) \_\_

32. ¿Cuál de estas señales reglamentarias es la señal de circulación con luces bajas?



a. ~~X~~

b.

c.

✓