



PRUEBA TEÓRICA PARA
CONDUCTORES

Aprobó Gerente General
07/05/2025

S-SIG-PESV-F-20 V.2

NOMBRE Y APELLIDO: WILFREDO MENDOZA TAPIERO

FECHA: 08.03.2025

EDAD: 47

Marque una sola respuesta.

1. Al conducir se presenta unos espacios los cuales no se pueden ver ni siquiera por los espejos a estos espacios se les conoce como puntos:

- ✓
- a) Invisibles
 - b) Ocultos
 - c) Recónditos
 - ☒ d) Ciegos

2. Las personas bajo la influencia de alcohol, drogas alucinógenas, trastornos mentales, invidentes, sordomudos, menores de 6 años y los ancianos pertenecen a peatones:


- ✓
- a) Imprudentes
 - ☒ b) Especiales
 - c) Ignorantes
 - d) Ciegos.

3. De acuerdo con el código nacional de tránsito donde se encuentra concentración de personas debe reducir la velocidad a:

- ✓
- a) 20 km / h.
 - b) 25 km / h.
 - ☒ c) 30 km / h.
 - d) 35 km / h

4. En las vías urbanas donde está permitido el estacionamiento se hará lo más cercano posible al andén, a una distancia no superior a:

- ✓
- ☒ a) (30) centímetros del andén.
 - b) (35) centímetros del andén.
 - c) (40) centímetros del andén.
 - d) (45) centímetros del andén.

	PRUEBA TEÓRICA PARA CONDUCTORES	Aprobó Gerente General 07/05/2025
		S-SIG-PESV-F-20 V.2

5. El manejo preventivo o defensivo es:

- a) Exigir a los otros conductores que respeten mis derechos en la vía.
- b) Maniobrar el vehículo a muy baja velocidad por el carril derecho.
- ✓ ☒ c) Operar el vehículo evitando cualquier tipo de riesgo y accidente.
- d) Conducir el vehículo gastando combustible y piezas en menor porcentaje.

Marque una sola respuesta

6. Viajando de noche usted es encandilado por las luces de un vehículo que viene en sentido contrario, ¿Qué debería usted hacer?

- a) Bajar su visión de protección solar
- ✓ ☒ b) Poner luces delanteras atrás
- c) Poner sus manos sobre sus ojos
- ☒ d) Bajar la velocidad y eventualmente detenerse.

7. En qué caso se reduce la velocidad a 30 Km / h


- ✓ ☒ a) Zonas escolares
- b) En pasos peatonales
- c) Por la berma o por la derecha de un vehículo

8. Que ley dicta las disposiciones penales administrativas bajo el influjo de alcohol u otras sustancias.

- ✓ ☒ a) Ley 1811
- b) Ley 1005
- ☒ c) Ley 1696

9. Cuál es el Artículo que habla de las Multas de la Ley 1383 de 2010

- ✓ ☒ a) Artículo 80
- ☒ b) Artículo 131
- c) Artículo 90
- d) Artículo 60

	PRUEBA TEÓRICA PARA CONDUCTORES	Aprobó Gerente General 07/05/2025
		S-SIG-PESV-F-20 V.2

10. En que Artículo se habla de: Ningún vehículo podrá llevar un número de pasajeros superior a la capacidad señalada en la Tarjeta de Propiedad con excepción de los niños de brazos.

- ✓
- a) Artículo 86
 - b) Artículo 79
 - ☒ c) Artículo 82

11. Un bus está detenido en una parada delante suyo. El intermitente izquierdo del bus está parpadeando. ¿Qué hace usted?




- ✓
- a) Hace parpadear sus luces delanteras y disminuye la velocidad
 - b) Toca la bocina y continua
 - c) Disminuye la velocidad y luego toca la bocina
 - ☒ d) Disminuye la velocidad y cede el paso al bus, siempre que ello sea seguro.

12. Esta imagen a que grupo de Señales de Transito pertenecen



- ✓
- a) Señales Informativas
 - ☒ b) Señales Reglamentarias
 - c) Señales Preventivas
 - d) Señales de Piso.

	PRUEBA TEÓRICA PARA CONDUCTORES	Aprobó Gerente General 07/05/2025
		S-SIG-PESV-F-20 V.2

13. Que significa la doble línea Amarilla

- ✓
- a) Es un puente invisible.
 - b) Autorizado para adelantar
 - ⓐ Por ninguna razón no se puede adelantar otro vehículo
 - d) Es una línea que Indica detenerse

14. ¿De qué le advierte esta señal?

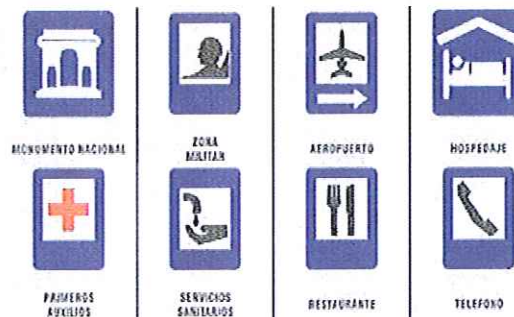
✓




- ⓐ Presencia de escolares
- b) Cruce de peatones
- c) Presencia de niños jugando
- d) Parque o plaza

15. Explique qué significan Las señales Informativas de tránsito

✓



INFORMACION DE SEÑAL EMERGENCIAS Y DE SERVICIOS

	<p>PRUEBA TEÓRICA PARA CONDUCTORES</p>	<p>Aprobó Gerente General 07/05/2025</p>
		<p>S-SIG-PESV-F-20 V.2</p>

16. Cuáles son las Señales de tránsito que están clasificadas en Señales Horizontales.

- ☒ a) Señales Lineales, Oblicuas y Transversales
- ☐ b) Señales Reglamentarias, Preventivas
- ☐ c) Señales Informativas y Preventivas

17. Cada cuanto se realiza los alistamientos del vehículo.

- ☐ a) Mensual
- ☒ b) Semanal
- ☐ c) Diario
- ☐ d) Cada quince días

18. Que cubre la Póliza de Responsabilidad civil Extracontractual.


- ☒ a) Daños materiales y lesiones personales causados a terceros.
- ☐ b) Accidentes de transito
- ☐ c) Perjuicios materiales causados a los pasajeros

19. Un vehículo de transporte especial cada cuanto realiza las revisiones preventivas.

- ☒ a) Bimensual
- ☐ b) Diario
- ☐ c) Semanal
- ☐ d) Mensual

20. Estas señales de tránsito son:



	PRUEBA TEÓRICA PARA CONDUCTORES	Aprobó Gerente General 07/05/2025
		S-SIG-PESV-F-20 V.2

- ✓
- a) Señales Reglamentarias
 - b) Señales Preventivas
 - ☒ c) Señales Transitorias
 - d) Señales Informativas

21. Mientras va conduciendo su vehículo suena el celular. Si su celular no cuenta con el sistema de manos libres ¿Qué hace para responder la llamada?


- ✓
- a) Reduce su velocidad
 - ☒ b) Estacionar el vehículo en un sitio seguro para contestar la llamada
 - c) Conduce con una mano en el volante y la otra contesta la llamada
 - d) Es especialmente cauteloso en las intersecciones

22. Al ir circulando en su vehículo usted enfrenta esta señal. ¿Qué significa?




- +
- a) Que usted puede conducir hasta el 10% más rápido. Porque la señal es solo una recomendación
 - b) Que, en días no hábiles, cuando hay poco tránsito, no rige tal restricción.
 - c) Que usted no debe exceder esta velocidad
 - ☒ d) Que usted debe mantener una velocidad inferior a la indicada en la señal

23. ¿Qué significa esta señal de tránsito?




- ↓
- a) Gravilla suelta
 - b) Peligro de que se pinche los neumáticos
 - ☒ c) Pavimento resbaladizo

24.Cuál de los siguientes tipos de señales le indican el prohibido.



a) __, b) __, c) X,

25. ¿Que esta indicando esta señal?



- a) Semáforo fuera de servicio
☒ b) Proximidad de semáforo
 c) Semáforo activado por peatones
 d) Semáforos sincronizados

26. Que es una Bifurcación y para qué sirve:



Cuando se divide o se separa la via

27. Explique cómo es la figura y el color de las señales reglamentarias de tránsito

Blanca con Reflector Rojo y Reflector

28. Como están Clasificadas las Señales de Tránsito.

- ☒ a) Verticales y Horizontales.
- b) Reglamentarias y Preventivas
- c) Transversales y Oblicuas.

29. Que significa esta Señal de tránsito




- a) Doble vía
- ☒ b) Túnel
- c) Ceda el paso

30. Esta imagen a que grupo de Señales de Tránsito pertenecen



- a) Señales Reglamentarias.
- ☒ b) Señales Preventivas.

	PRUEBA TEÓRICA PARA CONDUCTORES	Aprobó Gerente General 07/05/2025
		S-SIG-PESV-F-20 V.2

c) Señales Informativas.

31. Cuál de estas señales informan que hay una estación de servicio
Marque una respuesta:



a.



b.



c.




a)___, b) ~~X~~, c)___

32. ¿Cuál de estas señales reglamentarias es la señal de circulación con luces bajas?



~~X~~



b.



c.



~~X~~

b.

c.

DIRECCION DE TRANSITO Y TRANSPORTE PUBLICOS

