

	PRUEBA TEÓRICA PARA CONDUCTORES	Aprobó Gerente General 07/05/2025
		S-SIG-PESV-F-20 V.2

NOMBRE Y APELLIDO: JHON ALEXANDER TENJO TORRES

FECHA: 08/07/2025 **EDAD:** 45

Marque una sola respuesta.

1. Al conducir se presenta unos espacios los cuales no se pueden ver ni siquiera por los espejos a estos espacios se les conoce como puntos:
 - a) Invisibles
 - ☒ b) Ocultos
 - c) Recónditos
 - d) Ciegos

2. Las personas bajo la influencia de alcohol, drogas alucinógenas, trastornos mentales, invidentes, sordomudos, menores de 6 años y los ancianos pertenecen a peatones:
 - a) Imprudentes
 - ☒ b) Especiales
 - c) Ignorantes
 - d) Ciegos.

3. De acuerdo con el código nacional de tránsito donde se encuentra concentración de personas debe reducir la velocidad a:
 - ☒ a) 20 km / h.
 - b) 25 km / h.
 - c) 30 km / h.
 - d) 35 km / h

4. En las vías urbanas donde está permitido el estacionamiento se hará lo más cercano posible al andén, a una distancia no superior a:
 - a) (30) centímetros del andén.
 - b) (35) centímetros del andén.
 - c) (40) centímetros del andén.
 - ☒ d) (45) centímetros del andén.

	<p align="center">PRUEBA TEÓRICA PARA CONDUCTORES</p>	<p align="center">Aprobó Gerente General 07/05/2025</p>
		<p align="center">S-SIG-PESV-F-20 V.2</p>

5. El manejo preventivo o defensivo es:

- a) Exigir a los otros conductores que respeten mis derechos en la vía.
- b) Maniobrar el vehículo a muy baja velocidad por el carril derecho.
- ☒ c) Operar el vehículo evitando cualquier tipo de riesgo y accidente.
- d) Conducir el vehículo gastando combustible y piezas en menor porcentaje.

Marque una sola respuesta

6. Viajando de noche usted es encandilado por las luces de un vehículo que viene en sentido contrario, ¿Qué debería usted hacer?

- a) Bajar su visión de protección solar
- b) Poner luces delanteras atrás
- c) Poner sus manos sobre sus ojos
- ☒ d) Bajar la velocidad y eventualmente detenerse.

7. En qué caso se reduce la velocidad a 30 Km / h

- ☒ a) Zonas escolares
- b) En pasos peatonales
- c) Por la berma o por la derecha de un vehículo

8. Que ley dicta las disposiciones penales administrativas bajo el influjo de alcohol u otras sustancias.

- a) Ley 1811
- ☒ b) Ley 1005
- c) Ley 1696

9.Cuál es el Artículo que habla de las Multas de la Ley 1383 de 2010

- a) Artículo 80
- b) Artículo 131
- ☒ c) Artículo 90
- d) Artículo 60

	PRUEBA TEÓRICA PARA CONDUCTORES	Aprobó Gerente General 07/05/2025
		S-SIG-PESV-F-20 V.2

10. En que Artículo se habla de: Ningún vehículo podrá llevar un número de pasajeros superior a la capacidad señalada en la Tarjeta de Propiedad con excepción de los niños de brazos.

- a) Artículo 86
- ☒ b) Artículo 79
- c) Artículo 82

11. Un bus está detenido en una parada delante suyo. El intermitente izquierdo del bus está parpadeando. ¿Qué hace usted?




- a) Hace parpadear sus luces delanteras y disminuye la velocidad
- b) Toca la bocina y continua
- c) Disminuye la velocidad y luego toca la bocina
- ☒ d) Disminuye la velocidad y cede el paso al bus, siempre que ello sea seguro.

12. Esta imagen a que grupo de Señales de Transito pertenecen



- a) Señales Informativas
- ☒ b) Señales Reglamentarias
- c) Señales Preventivas
- d) Señales de Piso.

	PRUEBA TEÓRICA PARA CONDUCTORES	Aprobó Gerente General 07/05/2025
		S-SIG-PESV-F-20 V.2

13. Que significa la doble línea Amarilla

- a) Es un puente invisible.
- b) Autorizado para adelantar
- ☒ c) Por ninguna razón no se puede adelantar otro vehículo
- d) Es una línea que Indica detenerse

14. ¿De qué le advierte esta señal?



- ☒ a) Presencia de escolares
- b) Cruce de peatones
- c) Presencia de niños jugando
- d) Parque o plaza

15. Explique qué significan Las señales Informativas de transito



Las señales informativas de tránsito orientan a conductores y peatones, indicando servicios como hospitales, gasolineras o aeropuertos. Se reconocen por su fondo azul y símbolos blancos.

	<p align="center">PRUEBA TEÓRICA PARA CONDUCTORES</p>	<p align="center">Aprobó Gerente General 07/05/2025</p>
		<p align="center">S-SIG-PESV-F-20 V.2</p>

16. Cuáles son las Señales de tránsito que están clasificadas en Señales Horizontales.

- ☒ a) Señales Lineales, Oblicuas y Transversales
- b) Señales Reglamentarias, Preventivas
- c) Señales Informativas y Preventivas

17. Cada cuanto se realiza los alistamientos del vehículo.

- a) Mensual
- b) Semanal
- ☒ c) Diario
- d) Cada quince días

18. Que cubre la Póliza de Responsabilidad civil Extracontractual.

- ☒ a) Daños materiales y lesiones personales causados a terceros.
- b) Accidentes de tránsito
- c) Perjuicios materiales causados a los pasajeros

19. Un vehículo de transporte especial cada cuanto realiza las revisiones preventivas.

- a) Bimensual
- b) Diario
- c) Semanal
- ☒ d) Mensual

20. Estas señales de tránsito son:



	PRUEBA TEÓRICA PARA CONDUCTORES	Aprobó Gerente General 07/05/2025
		S-SIG-PESV-F-20 V.2

- a) Señales Reglamentarias
- ☒ b) Señales Preventivas
- c) Señales Transitorias
- d) Señales Informativas

21. Mientras va conduciendo su vehículo suena el celular. Si su celular no cuenta con el sistema de manos libres ¿Qué hace para responder la llamada?

- a) Reduce su velocidad
- ☒ b) Estacionar el vehículo en un sitio seguro para contestar la llamada
- c) Conduce con una mano en el volante y la otra contesta la llamada
- d) Es especialmente cauteloso en las intersecciones

22. Al ir circulando en su vehículo usted enfrenta esta señal. ¿Qué significa?



- a) Que usted puede conducir hasta el 10% más rápido. Porque la señal es solo una recomendación
- b) Que, en días no hábiles, cuando hay poco tránsito, no rige tal restricción.
- c) Que usted no debe exceder esta velocidad
- ☒ d) Que usted debe mantener una velocidad inferior a la indicada en la señal

23. ¿Qué significa esta señal de transito?



- a) Gravilla suelta
- b) Peligro de que se pinche los neumáticos
- ☒ c) Pavimento resbaladizo

24.Cuál de los siguientes tipos de señales le indican el prohibido.

	PRUEBA TEÓRICA PARA CONDUCTORES	Aprobó Gerente General 07/05/2025
		S-SIG-PESV-F-20 V.2




a.



b.




c.

a) ____, b) ____, c) ,

25. ¿Que esta indicando esta señal?



- a) Semáforo fuera de servicio
-  b) Proximidad de semáforo
- c) Semáforo activado por peatones
- d) Semáforos sincronizados

26. Que es una Bifurcación y para qué sirve:



Una bifurcación es una división de la vía en dos caminos o direcciones. Advierte que se aproxima a un punto donde debe elegir una dirección. Sirve para alertar sobre tomar una decisión y reducir la velocidad para hacerlo de forma segura.

27. Explique cómo es la figura y el color de las señales reglamentarias de tránsito

	PRUEBA TEÓRICA PARA CONDUCTORES	Aprobó Gerente General 07/05/2025
		S-SIG-PESV-F-20 V.2

Las señales reglamentarias tienen forma generalmente circular y sus colores característicos
Son el fondo blanco con borde rojo y símbolos negros. Estas señales indican normas y
restricciones obligatorias que deben ser acatadas por todos los usuarios de la vía.

28. Como están Clasificadas las Señales de Tránsito.

- ☒ Verticales y Horizontales.
- b) Reglamentarias y Preventivas
- c) Transversales y Oblicuas.

29. Que significa esta Señal de tránsito



- a) Doble vía
- ☒ Túnel
- c) Ceda el paso

30. Esta imagen a que grupo de Señales de Tránsito pertenecen






- a) Señales Reglamentarias.
- ☒ Señales Preventivas.




	PRUEBA TEÓRICA PARA CONDUCTORES	Aprobó Gerente General 07/05/2025
		S-SIG-PESV-F-20 V.2

c) Señales Informativas.

31. Cuál de estas señales informan que hay una estación de servicio
Marque una respuesta:

- a. 
- b. 
- c. 
- a) ___, b) ~~✗~~, c) ___

32. ¿Cuál de estas señales reglamentarias es la señal de circulación con luces bajas?

- a. 
- b. 
- c. 
- a. ~~✗~~ b. c.

DIRECCION DE TRANSITO Y TRANSPORTE PUBLICOS