


C=29/32

	<p style="text-align: center;">PRUEBA TEÓRICA PARA CONDUCTORES</p>	<p style="text-align: center;">Aprobó Gerente General 07/05/2025</p>
		<p style="text-align: center;">S-SIG-PESV-F-20 V.2</p>

NOMBRE Y APELLIDO: EDGAR MAURICIO BRICENO CASTILLO

FECHA: 01/08/2025 EDAD: 44

Marque una sola respuesta.

1. Al conducir se presenta unos espacios los cuales no se pueden ver ni siquiera por los espejos a estos espacios se les conoce como puntos:

- a) Invisibles
- b) Ocultos
- c) Recónditos
- ✓ ☒ d) Ciegos

2. Las personas bajo la influencia de alcohol, drogas alucinógenas, trastornos mentales, invidentes, sordomudos, menores de 6 años y los ancianos pertenecen a peatones:


- a) Imprudentes
- ✓ ☒ b) Especiales
- c) Ignorantes
- d) Ciegos.

3. De acuerdo con el código nacional de tránsito donde se encuentra concentración de personas debe reducir la velocidad a:

- a) 20 km / h.
- ✓ ☒ b) 25 km / h.
- ☒ c) 30 km / h.
- d) 35 km / h

4. En las vías urbanas donde está permitido el estacionamiento se hará lo más cercano posible al andén, a una distancia no superior a:

- ✓ ☒ a) (30) centímetros del andén.
- b) (35) centímetros del andén.
- c) (40) centímetros del andén.
- d) (45) centímetros del andén.

	<p>PRUEBA TEÓRICA PARA CONDUCTORES</p>	<p>Aprobó Gerente General 07/05/2025</p> <p>S-SIG-PESV-F-20 V.2</p>
--	--	---

5. El manejo preventivo o defensivo es:

- a) Exigir a los otros conductores que respeten mis derechos en la vía.
- b) Maniobrar el vehículo a muy baja velocidad por el carril derecho.
- ✓ ☒ c) Operar el vehículo evitando cualquier tipo de riesgo y accidente.
- d) Conducir el vehículo gastando combustible y piezas en menor porcentaje.

Marque una sola respuesta

6. Viajando de noche usted es encandilado por las luces de un vehículo que viene en sentido contrario, ¿Qué debería usted hacer?

- a) Bajar su visión de protección solar
- ✓ ☒ b) Poner luces delanteras atrás
- c) Poner sus manos sobre sus ojos
- ☒ d) Bajar la velocidad y eventualmente detenerse.

7. En qué caso se reduce la velocidad a 30 Km / h

- ✓ ☒ a) Zonas escolares
- b) En pasos peatonales
- c) Por la berma o por la derecha de un vehículo

8. Que ley dicta las disposiciones penales administrativas bajo el influjo de alcohol u otras sustancias.

- ✓ ☒ a) Ley 1811
- b) Ley 1005
- ☒ c) Ley 1696

9. Cuál es el Artículo que habla de las Multas de la Ley 1383 de 2010

- ✓ ☒ a) Artículo 80
- ☒ b) Artículo 131
- c) Artículo 90
- d) Artículo 60

10. En que Artículo se habla de: Ningún vehículo podrá llevar un número de pasajeros superior a la capacidad señalada en la Tarjeta de Propiedad con excepción de los niños de brazos.

- ✓ a) Artículo 86  
b) Artículo 79  
✗ c) Artículo 82

11. Un bus está detenido en una parada delante suyo. El intermitente izquierdo del bus está parpadeando. ¿Qué hace usted?




- ✓ a) Hace parpadear sus luces delanteras y disminuye la velocidad  
b) Toca la bocina y continua  
c) Disminuye la velocidad y luego toca la bocina  
✗ d) Disminuye la velocidad y cede el paso al bus, siempre que ello sea seguro.

12. Esta imagen a que grupo de Señales de Transito pertenecen



- ✓ a) Señales Informativas  
✗ b) Señales Reglamentarias  
c) Señales Preventivas  
d) Señales de Piso.

	<b>PRUEBA TEÓRICA PARA CONDUCTORES</b>	<b>Aprobó Gerente General 07/05/2025</b>
		<b>S-SIG-PESV-F-20 V.2</b>

13. Que significa la doble línea Amarilla

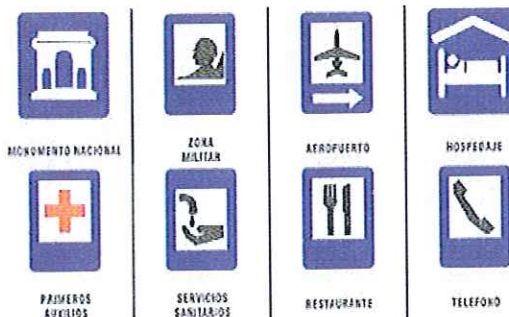
- ✓
- a) Es un puente invisible.
  - b) Autorizado para adelantar
  - ✓ c) Por ninguna razón no se puede adelantar otro vehículo
  - d) Es una línea que Indica detenerse

14. ¿De qué le advierte esta señal?




- ✓ ~~a)~~ Presencia de escolares
- b) Cruce de peatones
- c) Presencia de niños jugando
- d) Parque o plaza

15. Explique qué significan Las señales Informativas de tránsito



1) MUSEO 2) ZONA MILITAR 3) AEROPUERTO 4) LLEGADA A HOTEL  
 5) HOSPITAL CERCA 6) RESTAURANTE CERCA - 7) TELEFONO  
 CERCA



	<p>PRUEBA TEÓRICA PARA CONDUCTORES</p>	<p>Aprobó Gerente General 07/05/2025</p> <p>S-SIG-PESV-F-20 V.2</p>
--	--	---

16. Cuáles son las Señales de tránsito que están clasificadas en Señales Horizontales.

- ✓ ☒ a) Señales Lineales, Oblicuas y Transversales
- ☐ b) Señales Reglamentarias, Preventivas
- ☐ c) Señales Informativas y Preventivas

17. Cada cuanto se realiza los alistamientos del vehículo.

- ☒ a) Mensual
- ☐ b) Semanal
- ☒ c) Diario
- ☐ d) Cada quince días

18. Que cubre la Póliza de Responsabilidad civil Extracontractual.

- ✓ ☒ a) Daños materiales y lesiones personales causados a terceros.
- ☐ b) Accidentes de tránsito
- ☐ c) Perjuicios materiales causados a los pasajeros

19. Un vehículo de transporte especial cada cuanto realiza las revisiones preventivas.

- ✓ ☒ a) Bimensual
- ☐ b) Diario
- ☐ c) Semanal
- ☐ d) Mensual

20. Estas señales de tránsito son: SEÑAL TEMPORAL DE OBRA



Banderillero




Hombre trabajando



Equipo pesado en la vía



Trabajos en la banquina

	PRUEBA TEÓRICA PARA CONDUCTORES	Aprobó Gerente General 07/05/2025
		S-SIG-PESV-F-20 V.2

- ☒ a) Señales Reglamentarias  
☐ b) Señales Preventivas  
☐ c) Señales Transitorias  
☒ d) Señales Informativas

21. Mientras va conduciendo su vehículo suena el celular. Si su celular no cuenta con el sistema de manos libres ¿Qué hace para responder la llamada?

- ☒ a) Reduce su velocidad  
☒ b) Estacionar el vehículo en un sitio seguro para contestar la llamada  
☐ c) Conduce con una mano en el volante y la otra contesta la llamada  
☐ d) Es especialmente cauteloso en las intersecciones

22. Al ir circulando en su vehículo usted enfrenta esta señal. ¿Qué significa?



- ☒ a) Que usted puede conducir hasta el 10% más rápido. Porque la señal es solo una recomendación  
☒ b) Que, en días no hábiles, cuando hay poco tránsito, no rige tal restricción.  
☒ c) Que usted no debe exceder esta velocidad  
☐ d) Que usted debe mantener una velocidad inferior a la indicada en la señal

23. ¿Qué significa esta señal de tránsito?



- ☒ a) Gravilla suelta  
☐ b) Peligro de que se pinche los neumáticos  
☒ c) Pavimento resbaladizo

24.Cuál de los siguientes tipos de señales le indican el prohibido.



a.



b.



c.

a) \_\_, b) \_\_, c) X,

25. ¿Que esta indicando esta señal?



- a) Semáforo fuera de servicio
- ☒ b) Proximidad de semáforo
- c) Semáforo activado por peatones
- d) Semáforos sincronizados

26. Que es una Bifurcación y para qué sirve:



UN PUNTO EN LA VIA DONDE SE DIVIDEN 2  
CAMINOS

27. Explique cómo es la figura y el color de las señales reglamentarias de tránsito

X. COLOR ROJO - REDONDAS

## 28. Como están Clasificadas las Señales de Tránsito.

- a) Verticales y Horizontales.
- b) Reglamentarias y Preventivas
- c) Transversales y Oblicuas.

29. Que significa esta Señal de transito




- a) Doble vía  
☒ b) Túnel  
c) Ceda el paso

30. Esta imagen a que grupo de Señales de Tránsito pertenecen



- ☒ a) Señales Reglamentarias.





	<p>PRUEBA TEÓRICA PARA CONDUCTORES</p>	<p>Aprobó Gerente General 07/05/2025</p>
		<p>S-SIG-PESV-F-20 V.2</p>

c) Señales Informativas.

31. Cuál de estas señales informan que hay una estación de servicio  
Marque una respuesta:

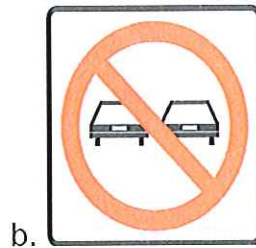
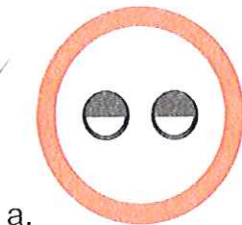
✓



a) \_\_, b) X, c) \_\_

32. ¿Cuál de estas señales reglamentarias es la señal de circulación con luces bajas?

✓



a. X

b.

c.

DIRECCION DE TRANSITO Y TRANSPORTE PUBLICOS

