	PRUEBA TEORICA	Fecha: 15/03/2025
		Versión: 01
		Código: FO-SGI-04
		Pag 1 de 1

NOMBRE Y APELLIDO: JAIME ALBERTO ROJAS SILVA
FECHA: 05-06-2025 EDAD: 54

Marque una sola respuesta.

1. Al conducir se presenta unos espacios los cuales no se pueden ver ni siquiera por los espejos a estos espacios se les conoce como puntos:

a) Invisibles
b) Ocultos
c) Recónditos
☒ d) Ciegos

2. Las personas bajo la influencia de alcohol, drogas alucinógenas, trastornos mentales, invidentes, sordomudos, menores de 6 años y los ancianos pertenecen a peatones:

a) Imprudentes
☒ b) Especiales
c) Ignorantes
d) Ciegos.

3. De acuerdo con el código nacional de tránsito donde se encuentra concentración de personas debe reducir la velocidad a:

a) 20 km / h.
b) 25 km / h.
☒ c) 30 km / h.
d) 35 km / h

4. En las vías urbanas donde está permitido el estacionamiento se hará lo más cercano posible al andén, a una distancia no superior a:

☒ a) (30) centímetros del andén.
b) (35) centímetros del andén.
c) (40) centímetros del andén.
d) (45) centímetros del andén.



5. El manejo preventivo o defensivo es:

- a) Exigir a los otros conductores que respeten mis derechos en la vía.
- b) Maniobrar el vehículo a muy baja velocidad por el carril derecho.
- ☒ c) Operar el vehículo evitando cualquier tipo de riesgo y accidente.
- d) Conducir el vehículo gastando combustible y piezas en menor porcentaje.

Marque una sola respuesta

6. Viajando de noche usted es encandilado por las luces de un vehículo que viene en sentido contrario, ¿Qué debería usted hacer?

- a) Bajar su visión de protección solar
- b) Poner luces delanteras atrás
- c) Poner sus manos sobre sus ojos
- ☒ d) Bajar la velocidad y eventualmente detenerse.

7. En qué caso se reduce la velocidad a 30 Km / h

- ☒ a) Zonas escolares
- b) En pasos peatonales
- c) Por la berma o por la derecha de un vehículo

8. Que ley dicta las disposiciones penales administrativas bajo el influjo de alcohol u otras sustancias.

- a) Ley 1811
- b) Ley 1005
- ☒ c) Ley 1696

9.Cuál es el Artículo que habla de las Multas de la Ley 1383 de 2010

- a) Artículo 80
- ☒ b) Artículo 131
- c) Artículo 90
- d) Artículo 60

10. En que Artículo se habla de: Ningún vehículo podrá llevar un número de pasajeros superior a la capacidad señalada en la Tarjeta de Propiedad con excepción de los niños de brazos.

- a) Artículo 86
- b) Artículo 79
- ☒ c) Artículo 82

11. Un bus está detenido en una parada delante suyo. El intermitente izquierdo del bus está parpadeando. ¿Qué hace usted?



- a) Hace parpadear sus luces delanteras y disminuye la velocidad
- b) Toca la bocina y continua
- c) Disminuye la velocidad y luego toca la bocina
- ☒ d) Disminuye la velocidad y cede el paso al bus, siempre que ello sea seguro.

12. Esta imagen a que grupo de Señales de Transito pertenecen



- a) Señales Informativas
- ☒ b) Señales Reglamentarias
- c) Señales Preventivas
- d) Señales de Piso.

13. Que significa la doble linea Amarilla

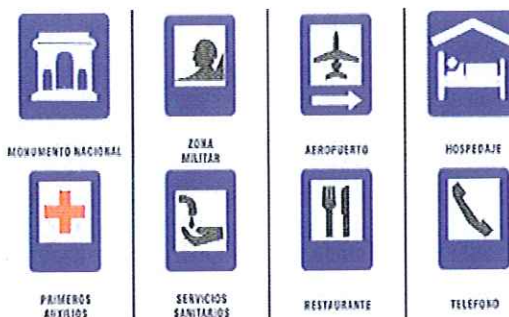
- a) Es un puente invisible.
- b) Autorizado para adelantar
- ☒ c) Por ninguna razón no se puede adelantar otro vehículo
- d) Es una linea que Indica detenerse

14. ¿De qué le advierte esta señal?



- ☒ a) Presencia de escolares
- b) Cruce de peatones
- c) Presencia de niños jugando
- d) Parque o plaza

15. Explique qué significan Las señales Informativas de tránsito



SON AQUELLAS QUE PERMITEN IDENTIFICAR DESTINOS, SERVICIOS, ENTRE
OTROS QUE SE ENCUENTRAN EN LA VÍA.

16. Cuáles son las Señales de tránsito que están clasificadas en Señales Horizontales.

- ☒ a) Señales Lineales, Oblicuas y Transversales
- b) Señales Reglamentarias, Preventivas
- c) Señales Informativas y Preventivas

17. Cada cuanto se realiza los alistamientos del vehículo.

- a) Mensual

Carrera 71 C # 52-34 Normandia

transportes@destinytours.com.co

www.destinytours.com.co

321 442 1632

18. Que cubre la Póliza de Responsabilidad civil Extracontractual.

- a) Daños materiales y lesiones personales causados a terceros.
- b) Accidentes de tránsito
- c) Perjuicios materiales causados a los pasajeros

19. Un vehículo de transporte especial cada cuanto realiza las revisiones preventivas.

- a) Bimensual
- b) Diario
- c) Semanal
- d) Mensual

20. Estas señales de tránsito son:



- a) Señales Reglamentarias
- b) Señales Preventivas
- c) Señales Transitorias ✗
- d) Señales Informativas

21. Mientras va conduciendo su vehículo suena el celular. Si su celular no cuenta con el sistema de manos libres ¿Qué hace para responder la llamada?

- a) Reduce su velocidad
- b) Estacionar el vehículo en un sitio seguro para contestar la llamada ✗
- c) Conduce con una mano en el volante y la otra contesta la llamada
- d) Es especialmente cauteloso en las intersecciones

22. Al ir circulando en su vehículo usted enfrenta esta señal. ¿Qué significa?



- a) Que usted puede conducir hasta el 10% más rápido. Porque la señal es solo una recomendación
- b) Que, en días no hábiles, cuando hay poco tránsito, no rige tal restricción.
- ☒ c) Que usted no debe exceder esta velocidad
- d) Que usted debe mantener una velocidad inferior a la indicada en la señal

23. ¿Qué significa esta señal de tránsito?



- a) Gravilla suelta
- b) Peligro de que se pinche los neumáticos
- ☒ c) Pavimento resbaladizo

24.Cuál de los siguientes tipos de señales le indican el prohibido.



a.



b.



c.

a) __, b) __, c) ☒ __,

25. ¿Que esta indicando esta señal?



- a) Semáforo fuera de servicio

- a) Proximidad de semáforo ✓
 b) Semáforo activado por peatones
 c) Semáforos sincronizados

26. Que es una Bifurcación y para qué sirve:



ES LA DIVISION DE UNA VIA PRINCIPAL EN DOS O MAS RUTAS
 QUE PERMITE TOMAR UN DESVIO EN CUALQUIER DIRECCION.


27. Explique cómo es la figura y el color de las señales reglamentarias de tránsito

PRINCIPALMENTE SON DE FIGURA REDONDA DE FONDO COLOR BLANCO, SIMBOLOS
 DE COLOR NEGRO O BLANCO CON BORDE DE COLOR ROJO. DETERMINAN UNA PROHIBICION
 O REGLAMENTAR ACCIONES EN LA VIA.

28. Como están Clasificadas las Señales de Tránsito.

- a) Verticales y Horizontales.
 b) Reglamentarias y Preventivas ✓
 c) Transversales y Oblicuas.

29. Que significa esta Señal de tránsito



- a) Doble vía

30. Esta imagen a que grupo de Señales de Transito pertenecen



- a) Señales Reglamentarias.
- ☒ b) Señales Preventivas.
- c) Señales Informativas.

31. Cuál de estas señales informan que hay una estación de servicio
Marque una respuesta:



a.




b.



c.

a) __, b) ✓, c) __

32. ¿Cuál de estas señales reglamentarias es la señal de circulación con luces bajas?



a.



b.



c.

a.

b.

c.

DIRECCION DE TRANSITO Y TRANSPORTE PUBLICOS

Carrera 71 C # 52-34 Normandia

transportes@destinytours.com.co

www.destinytours.com.co

321 442 1632