


C: 29/32.

 A World to Discover S.A.S.	PRUEBA TEÓRICA PARA CONDUCTORES	Aprobó Gerente General 07/05/2025
		S-SIG-PESV-F-20 V.2

NOMBRE Y APELLIDO: William Roberto Talero Palacio

FECHA: 05 NOV 2025 EDAD: 40

Marque una sola respuesta.

1. Al conducir se presenta unos espacios los cuales no se pueden ver ni siquiera por los espejos a estos espacios se les conoce como puntos:

- ☐ a) Invisibles
- ☐ b) Ocultos
- ☐ c) Recónditos
- ☒ d) Ciegos

2. Las personas bajo la influencia de alcohol, drogas alucinógenas, trastornos mentales, invidentes, sordomudos, menores de 6 años y los ancianos pertenecen a peatones:

- ☐ a) Imprudentes
- ☒ b) Especiales
- ☐ c) Ignorantes
- ☐ d) Ciegos.

3. De acuerdo con el código nacional de tránsito donde se encuentra concentración de personas debe reducir la velocidad a:

- ☐ a) 20 km / h.
- ☐ b) 25 km / h.
- ☒ c) 30 km / h.
- ☐ d) 35 km / h

4. En las vías urbanas donde está permitido el estacionamiento se hará lo más cercano posible al andén, a una distancia no superior a:

- ☒ a) (30) centímetros del andén.
- ☐ b) (35) centímetros del andén.
- ☐ c) (40) centímetros del andén.
- ☐ d) (45) centímetros del andén.

	<p>PRUEBA TEÓRICA PARA CONDUCTORES</p>	<p>Aprobó Gerente General 07/05/2025</p>
		<p>S-SIG-PESV-F-20 V.2</p>

5. El manejo preventivo o defensivo es:

- ☒ a) Exigir a los otros conductores que respeten mis derechos en la vía.
- ☒ b) Maniobrar el vehículo a muy baja velocidad por el carril derecho.
- ☒ c) Operar el vehículo evitando cualquier tipo de riesgo y accidente.
- ☐ d) Conducir el vehículo gastando combustible y piezas en menor porcentaje.

Marque una sola respuesta

6. Viajando de noche usted es encandilado por las luces de un vehículo que viene en sentido contrario, ¿Qué debería usted hacer?

- ☐ a) Bajar su visión de protección solar
- ☒ b) Poner luces delanteras atrás
- ☒ c) Poner sus manos sobre sus ojos
- ☐ d) Bajar la velocidad y eventualmente detenerse.

7. En qué caso se reduce la velocidad a 30 Km / h


- ☒ a) Zonas escolares
- ☒ b) En pasos peatonales
- ☐ c) Por la berma o por la derecha de un vehículo

8. Que ley dicta las disposiciones penales administrativas bajo el influjo de alcohol u otras sustancias.

- ☒ a) Ley 1811
- ☒ b) Ley 1005
- ☒ c) Ley 1696

9.Cuál es el Artículo que habla de las Multas de la Ley 1383 de 2010

- ☒ a) Artículo 80
- ☒ b) Artículo 131
- ☒ c) Artículo 90
- ☐ d) Artículo 60

	<p>PRUEBA TEÓRICA PARA CONDUCTORES</p>	<p>Aprobó Gerente General 07/05/2025</p>
		<p>S-SIG-PESV-F-20 V.2</p>

10. En que Articulo se habla de: Ningún vehículo podrá llevar un número de pasajeros superior a la capacidad señalada en la Tarjeta de Propiedad con excepción de los niños de brazos.

- ✓ a) Artículo 86
b) Artículo 79
☒ c) Artículo 82

11. Un bus está detenido en una parada delante suyo. El intermitente izquierdo del bus está parpadeando. ¿Qué hace usted?




- ✓ a) Hace parpadear sus luces delanteras y disminuye la velocidad
b) Toca la bocina y continua
c) Disminuye la velocidad y luego toca la bocina
☒ d) Disminuye la velocidad y cede el paso al bus, siempre que ello sea seguro.

12. Esta imagen a que grupo de Señales de Transito pertenecen



- ✓ a) Señales Informativas
☒ b) Señales Reglamentarias
c) Señales Preventivas
d) Señales de Piso.

	PRUEBA TEÓRICA PARA CONDUCTORES	Aprobó Gerente General 07/05/2025
		S-SIG-PESV-F-20 V.2

13. Que significa la doble línea Amarilla

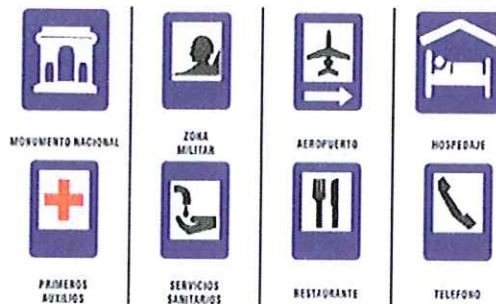
- ✓
- a) Es un puente invisible.
 - b) Autorizado para adelantar
 - c) Por ninguna razón no se puede adelantar otro vehículo
 - d) Es una línea que Indica detenerse

14. ¿De qué le advierte esta señal?




- ✗
- a) Presencia de escolares
 - b) Cruce de peatones
 - c) Presencia de niños jugando
 - d) Parque o plaza

15. Explique qué significan Las señales Informativas de transito



Señales que indican, donde hay sitios provisionales como estación de gasolina, hoteles, restaurantes.

	<p>PRUEBA TEÓRICA PARA CONDUCTORES</p>	<p>Aprobó Gerente General 07/05/2025</p>
		<p>S-SIG-PESV-F-20 V.2</p>

16. Cuáles son las Señales de tránsito que están clasificadas en Señales Horizontales.

- a) Señales Lineales, Oblicuas y Transversales
- b) Señales Reglamentarias, Preventivas
- c) Señales Informativas y Preventivas

17. Cada cuanto se realiza los alistamientos del vehículo.

- a) Mensual
- b) Semanal
- c) Diario
- d) Cada quince días

18. Que cubre la Póliza de Responsabilidad civil Extracontractual.

- a) Daños materiales y lesiones personales causados a terceros.
- b) Accidentes de tránsito
- c) Perjuicios materiales causados a los pasajeros

19. Un vehículo de transporte especial cada cuanto realiza las revisiones preventivas.

- a) Bimensual
- b) Diario
- c) Semanal
- d) Mensual

20. Estas señales de tránsito son:



Banderillero



Hombre trabajando



Equipo pesado en la vía



Trabajos en la banquina

	PRUEBA TEÓRICA PARA CONDUCTORES	Aprobó Gerente General 07/05/2025
		S-SIG-PESV-F-20 V.2

- a) Señales Reglamentarias
- b) Señales Preventivas
- c) Señales Transitorias
- d) Señales Informativas

21. Mientras va conduciendo su vehículo suena el celular. Si su celular no cuenta con el sistema de manos libres ¿Qué hace para responder la llamada?

- a) Reduce su velocidad
- b) Estacionar el vehículo en un sitio seguro para contestar la llamada
- c) Conduce con una mano en el volante y la otra contesta la llamada
- d) Es especialmente cauteloso en las intersecciones

22. Al ir circulando en su vehículo usted enfrenta esta señal. ¿Qué significa?




- a) Que usted puede conducir hasta el 10% más rápido. Porque la señal es solo una recomendación
- b) Que, en días no hábiles, cuando hay poco tránsito, no rige tal restricción.
- c) Que usted no debe exceder esta velocidad
- d) Que usted debe mantener una velocidad inferior a la indicada en la señal




23. ¿Qué significa esta señal de tránsito?



- a) Gravilla suelta
- b) Peligro de que se pinche los neumáticos
- c) Pavimento resbaladizo

24.Cuál de los siguientes tipos de señales le indican el prohibido.

	PRUEBA TEÓRICA PARA CONDUCTORES	Aprobó Gerente General 07/05/2025
		S-SIG-PESV-F-20 V.2

- ✓
- a.  b.  c. 
- a) ___, b) ___, c) ___,

25. ¿Que esta indicando esta señal?



- ✓
- a) Semáforo fuera de servicio
b) Proximidad de semáforo
c) Semáforo activado por peatones
d) Semáforos sincronizados


26. Que es una Bifurcación y para qué sirve:



✓

Es una derivación de la vía, donde se puede continuar a 2 diferentes destinos o direcciones

27. Explique cómo es la figura y el color de las señales reglamentarias de tránsito

	<p>PRUEBA TEÓRICA PARA CONDUCTORES</p>	<p>Aprobó Gerente General 07/05/2025</p> <p>S-SIG-PESV-F-20 V.2</p>
---	--	---

Los colores son rojo y blanco
Figuras redondas y hexagonales

28. Como están Clasificadas las Señales de Tránsito.

- a) Verticales y Horizontales.
b) Reglamentarias y Preventivas
c) Transversales y Oblicuas.

29. Que significa esta Señal de tránsito




- a) Doble vía
b) Túnel
c) Ceda el paso

30. Esta imagen a que grupo de Señales de Tránsito pertenecen

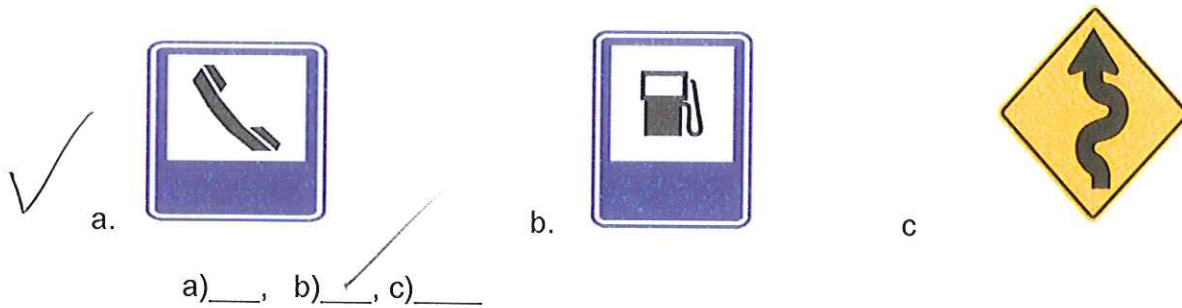


- a) Señales Reglamentarias.
b) Señales Preventivas.

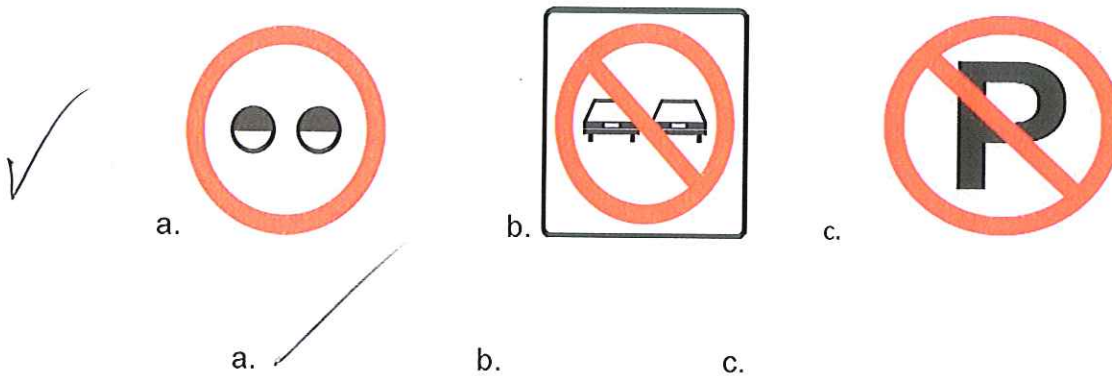
	<p>PRUEBA TEÓRICA PARA CONDUCTORES</p>	<p>Aprobó Gerente General 07/05/2025</p> <p>S-SIG-PESV-F-20 V.2</p>
---	--	---

c) Señales Informativas.

31. Cuál de estas señales informan que hay una estación de servicio
Marque una respuesta:



32. ¿Cuál de estas señales reglamentarias es la señal de circulación con luces bajas?



DIRECCION DE TRANSITO Y TRANSPORTE PUBLICOS