


PROCESO SG-SST			
Versión: 2	PRUEBA TEORICA PARA CONDUCTORES		
Fecha elaboración: 21/02/2023			
Fecha aprobación: 21/02/2023	Documento elaborado por: Coordinadora SG-SST	Aprobado por: Comité de Calidad	
Vigencia a partir de: 21/02/2023			

## TALLER MANEJO

Ingreso X

Seguimiento \_\_\_\_\_

Anual \_\_\_\_\_

Nombre: Daniel Fabricio Salazar Besarano

Identificación No.: 6407318 Fecha: \_\_\_\_\_ Ciudad: Calí

TEMA	MANEJO
CALIFICACIÓN	20.
PUNTAJE TOTAL	Aprobó 74%

### Referente de Calificación

TEMA	MANEJO
PUNTAJE APROBADO	27


### EN LAS SIGUIENTES PREGUNTAS MARCA CON UNA X LA RESPUESTA ADECUADA

1. Líneas discontinuas blancas en el pavimento quieren decir...

- A-Que se permite cruzar la línea con precaución
- B-Que el carril izquierdo es para ciclistas y motoristas
- C-Que el tráfico se mueve en ambas direcciones
- D-Que no se permite cambiar de carril
- E-Puedes cambiar de carril cuando sea seguro hacerlo

2. Si ves esta señal mientras manejas, debes:

- A-Reducir la velocidad de tu vehículo
- B-Incrementar la velocidad de tu vehículo
- C-Dar vuelta a la izquierda y después a la derecha

PROCESO SG-SST			
Versión: 2	PRUEBA TEORICA PARA CONDUCTORES		
Fecha elaboración: 21/02/2023			
Fecha aprobación: 21/02/2023	Documento elaborado por: Coordinadora SG-SST	Aprobado por: Comité de Calidad	
Vigencia a partir de: 21/02/2023			

D-Dar vuelta a la derecha y después a la izquierda



3. Ante una sola línea amarilla discontinua separando dos carriles de tránsito que se mueven en direcciones opuestas...

- A-Puedo cruzar la línea siempre para cambiar de carril
- B-No puedo cruzar la línea en ningún caso
- C-Puedo cruzar temporalmente la línea cuando rebaso un vehículo que se encuentra frente a mí
- D-Debo mantenerme a la izquierda de la línea

4. Si al aproximarte a una intersección ves esta señal y no hay una línea de detención. ¿Qué debes hacer?

- A-No avanzar y dar vuelta de inmediato
- B-Avanzar lentamente sin detenerte
- C-Detenerme antes de ingresar en la intersección
- D-Detenerme justo después ingresar en la intersección




5. El límite legal de concentración de alcohol en sangre (BAC) por encima del cual puedes ser acusado de Conducir Bajo la Influencia (DUI) es...

- A-0.10%
- B-0.08%
- C-0.07%
- D-0.05%

6. ¿Qué significa esta señal?

- A-Vuelta en U no permitida
- B-Vuelta en U permitida
- C-Curva cerrada a la izquierda más adelante

PROCESO SG-SST			
<b>Versión: 2</b>	<b>PRUEBA TEORICA PARA CONDUCTORES</b>		
<b>Fecha elaboración: 21/02/2023</b>			
<b>Fecha aprobación: 21/02/2023</b>	<b>Documento elaborado por:</b> <b>Coordinadora SG-SST</b>	<b>Aprobado por:</b> <b>Comité de Calidad</b>	
<b>Vigencia a partir de: 21/02/2023</b>			

D-Giro hacia la izquierda obligatorio



7. Si estás en una intersección y escuchas la sirena de algún vehículo de emergencia, debes...

A-No avanzar y detenerte de inmediato en la intersección

B-Avanzar lentamente y detenerte en la intersección

✓ C-Continuar a través de la intersección y detenerte

D-Continuar a través de la intersección y avanzar lentamente

8. Si el conductor frente a ti está señalando con su mano y brazo apuntando hacia arriba, esto significa que el conductor quiere...

A-Doblar a la derecha

✓ B-Doblar a la izquierda

C-Disminuir su velocidad Detenerse

9. Esta señal representa...

✓ A-Zona escolar

B-Zona de juegos

C-Paso de peatones

D-Una biblioteca




10. Esta señal te advierte de...

✓ A-Un camino resbaladizo

B-Un camino sinuoso

C-Un camino cuesta arriba

D-Un camino de doble sentido

PROCESO SG-SST			
<b>Versión:</b> 2	<b>PRUEBA TEORICA PARA CONDUCTORES</b>		
<b>Fecha elaboración:</b> 21/02/2023			
<b>Fecha aprobación:</b> 21/02/2023	<b>Documento elaborado por:</b> Coordinadora SG-SST	<b>Aprobado por:</b> Comité de Calidad	
<b>Vigencia a partir de:</b> 21/02/2023			




11. Mientras conduces en la neblina, debes usar tus...

- A-Luces bajas
- B-Luces de emergencia
- C-Luces altas
- D-Luces de estacionamiento

12. Cuando haya una línea amarilla sólida y una discontinua en carriles opuestos de tráfico, no debes rebasar...

- A-Si la línea discontinua está de tu lado
- B-Si la línea sólida no está de tu lado
- C-Si la línea sólida está de tu lado
- D-Ninguna de las anteriores




13. Esta señal de advertencia representa...

- A-Inicio de carretera dividida
- B-Inicio de carril con doble sentido
- C-Fin de carretera dividida
- D-Fin de carril de doble sentido



14. Si quieres dar vuelta a la derecha en una intersección con esta señal

- A-No tienes permitido dar vuelta a la derecha en esta intersección

PROCESO SG-SST			
<b>Versión: 2</b>	<b>PRUEBA TEORICA PARA CONDUCTORES</b>		
<b>Fecha elaboración: 21/02/2023</b>			
<b>Fecha aprobación: 21/02/2023</b>	<b>Documento elaborado por:</b> <b>Coordinadora SG-SST</b>	<b>Aprobado por:</b> <b>Comité de Calidad</b>	
<b>Vigencia a partir de: 21/02/2023</b>			

- B-Lo puedes hacer mientras la carretera esté despejada
- C-Debes detenerte y continuar con precaución
- D-Debes esperar a la luz verde



15. este letrero azul indica...

- A-Un hospital adelante
- B-Una carretera interestatal adelante
- C-Un hotel adelante
- D-Un estacionamiento para personas con discapacidad adelante





16. Si ves un animal en tu camino, debes...

- A-Aumentar la velocidad y pasar al animal rápidamente
- B-Usar el claxon y mantener tu velocidad
- C-Reducir la velocidad
- D-Abrir la ventana y gritarle al animal

17. ¿Qué significa este panel de flechas intermitentes?

- A-El carril adelante está abierto al tráfico
- B-obreros con banderines delante
- C-El carril izquierdo está curvándose adelante
- D-El carril adelante está cerrado

PROCESO SG-SST			
<b>Versión: 2</b>	<b>PRUEBA TEORICA PARA CONDUCTORES</b>		
<b>Fecha elaboración: 21/02/2023</b>			
<b>Fecha aprobación: 21/02/2023</b>	<b>Documento elaborado por:</b> <b>Coordinadora SG-SST</b>	<b>Aprobado por:</b> <b>Comité de Calidad</b>	
<b>Vigencia a partir de: 21/02/2023</b>			



18. Esta figura octagonal es...

- A-Una señal de no entrar
- ✓ B-Una señal de ceder el paso
- C-Una señal de detención
- D-Una señal de camino en construcción




19. Si ves dos líneas amarillas sólidas en tu camino, esto significa que...

- A-Rebasar está permitido en cualquier momento
- ✓ B-Rebasar está prohibido
- C-Rebasar está permitido durante el día
- D-Rebasar está permitido durante la noche

20. Las señales amarillas y con forma de diamante, con letras o símbolos negros...

- A-Son señales de detención
- B-Son señales de destino
- ✓ C-Son señales de advertencia
- D-Son señales de servicio



PROCESO SG-SST			
<b>Versión: 2</b> <b>Fecha elaboración: 21/02/2023</b>	<b>PRUEBA TEORICA PARA CONDUCTORES</b>		
<b>Fecha aprobación: 21/02/2023</b> <b>Vigencia a partir de: 21/02/2023</b>			
<b>Documento elaborado por:</b> <b>Coordinadora SG-SST</b>	<b>Aprobado por:</b> <b>Comité de Calidad</b>		

21. ¿Qué debe hacer en condiciones climatológicas inusuales?

- A-Aumentar la velocidad
- B-Aumentar la intensidad de las luces
- ✓ C-Aumentar la distancia entre el vehículo de delante y el mío
- D-Cambiar de carril frecuentemente

22. Si pierdes el control del volante, debes...

- A-Quitar el pie de los frenos
- ✓ B-Quitar el pie del acelerador
- C-Cambiar de velocidad
- D-Aplicar el freno de mano

23.Cuál de las siguientes señales indica al conductor que se aproxima a una glorieta

SP56



A

SP56A



B

SP24



C

SP20




D ✓

24.Cuál de las siguientes señales indica al conductor que la vía está cerrada



25. ¿Cuál de las siguientes señales es una señal de tránsito vertical reglamentaria?

PROCESO SG-SST			
Versión: 2	<b>PRUEBA TEORICA PARA CONDUCTORES</b>		
Fecha elaboración: 21/02/2023			
Fecha aprobación: 21/02/2023	Documento elaborado por: Coordinadora SG-SST	Aprobado por: Comité de Calidad	
Vigencia a partir de: 21/02/2023			



A



B



C ✓

26. Cuando usted ve la siguiente señal usted debe:



- ✓ A-Conservar el espacio reglamentario
- B-Girar hacia la derecha
- C-Girar hacia la izquierda
- D-Adelantar el vehículo que va adelante

27. Escribe el nombre de las señales, que debes hacer al verlas:




Carretera angosta  
 Conducir con precaución.



SP-25

Policia acostado ✓

<b>PROCESO SG-SST</b>			
Versión: 2	<b>PRUEBA TEORICA PARA CONDUCTORES</b>		
Fecha elaboración: 21/02/2023			
Fecha aprobación: 21/02/2023	Documento elaborado por: Coordinadora SG-SST	Aprobado por: Comité de Calidad	
Vigencia a partir de: 21/02/2023			



Hombre trabajando  
en la vía.




estacionamiento para personas  
con discapacidad.



Prohibido adelantar.



Prohibido el paso.

PROCESO SG-SST			
Versión: 2	PRUEBA TEORICA PARA CONDUCTORES		
Fecha elaboración: 21/02/2023			
Fecha aprobación: 21/02/2023	Documento elaborado por: Coordinadora SG-SST	Aprobado por: Comité de Calidad	
Vigencia a partir de: 21/02/2023			

## COMPETENCIA DE MECANICA GENERAL

TEMA	MECÁNICA GENERAL
CALIFICACIÓN	100 %
PUNTAJE TOTAL	Aprobó 10

Referente de calificación

TEMA	MECÁNICA GENERAL
PUNTAJE APROBADO	10

EN LAS SIGUIENTES PREGUNTAS MARCA CON UNA X LA RESPUESTA ADECUADA

### Mecánica General

1. El nombre que recibe el marcador de revoluciones del motor es:


- A. Manómetro
- B. Tacómetro
- C. Pluviómetro

2. La función del embrague es:

- A. Frenar el motor del vehículo
- B. Darle fuerza al motor del vehículo
- C. Conectar y desconectar "la fuerza" del motor a la caja de velocidades

3. la función del filtro de aceite es:

- A. Marque una respuesta
- B. Restituir la viscosidad del aceite
- C. Retener las partículas gruesas del aceite

PROCESO SG-SST			
Versión: 2	PRUEBA TEORICA PARA CONDUCTORES		
Fecha elaboración: 21/02/2023			
Fecha aprobación: 21/02/2023	Documento elaborado por:	Aprobado por:	
Vigencia a partir de: 21/02/2023	Coordinadora SG-SST	Comité de Calidad	

## COMPETENCIA NORMATIVIDAD, COMPORTAMIENTO VIAL Y SEGURIDAD VIAL

TEMA	NORMATIVIDAD	COMPORTAMIENTO O VIAL	SEGURIDAD VIAL
CALIFICACIÓN	6.	9	12.
PUNTAJE TOTAL	27.	Próxima evaluación 79%	Reprobó

### Referente de calificación

TEMA	NORMATIVIDAD	COMPORTAMIENTO VIAL	SEGURIDAD VIAL
PUNTAJE APROBADO	8	11	15

EN LAS SIGUIENTES PREGUNTAS MARCA CON UNA X LA RESPUESTA ADECUADA

### Seguridad Vial

**1. Intersección es**


- A. El área común de calzadas que no se cruzan o divergen
- B. El área común de las calzadas que cruzan o convergen
- C. Ninguna de las anteriores

**2. No se debe adelantar en ninguna circunstancia a otro vehículo en:**

- A. En intersecciones
- B. En los tramos de la vía donde exista línea separadores central continua o prohibición de adelantamiento
- C. En las vías de doble carril
- D. En curvas o pendientes

**3. ¿qué información le proporciona la siguiente señal y como se clasifica?**



<b>PROCESO SG-SST</b>			
Versión: 2	<b>PRUEBA TEORICA PARA CONDUCTORES</b>		
Fecha elaboración: 21/02/2023			
Fecha aprobación: 21/02/2023	Documento elaborado por: Coordinadora SG-SST	Aprobado por: Comité de Calidad	
Vigencia a partir de: 21/02/2023			




- A. Servicio telefónico / Informativa
  - B. Estación de servicios / reglamentaria ✓
  - C. Servicio mecánico / informativa
4. ¿qué información le proporciona la siguiente señal y como se clasifica?



- A. Solo tránsito liviano / preventiva
  - B. Prohibido doble columna / informativa
  - C. Prohibido adelantar o rebasar / Reglamentaria
5. ¿qué significa esta señal y como se clasifica? X



- A. Más adelante incorporación de tránsito lateral derecho / preventiva
  - B. Más adelante camino lateral / Informativa
  - C. Más adelante empalmes contrarios consecutivos / preventiva
6. El adelantamiento se deberá hacer por: ✓
- A. La izquierda
  - B. La derecha
  - C. Cualquier pista

<b>PROCESO SG-SST</b>			
Versión: 2	<b>PRUEBA TEORICA PARA CONDUCTORES</b>		
Fecha elaboración: 21/02/2023			
Fecha aprobación: 21/02/2023	Documento elaborado por: Coordinadora SG-SST	Aprobado por: Comité de Calidad	
Vigencia a partir de: 21/02/2023			

- A. Acelerar y circular delante del vehículo de emergencia
- B. Frenar, bruscamente
- C. Conducir el vehículo lo más a la izquierda o a la derecha posible, con el objeto de despejar la vía

18. ¿Dónde Puede Efectuar El Viraje En " U" Cuando Circula En Su Vehículo?

- A. En pasos peatonales
- B. A mitad de cuadra, si no está prohibido
- C. En la intersección

19. Que maniobra debe realizar a la circular por una vía de dos sentidos si va a girar a la izquierda

- A. Situarse al costado derecho de la calzada
- B. Situarse progresivamente al costado derecho del eje de la calzada
- C. Situarse al costado izquierdo de la calzada

20. Si en un caso de emergencia un conductor debe hacer uso de las señales corporales para cruzar a la derecha deberá:


- A. Sacar el brazo izquierdo y extenderlo horizontalmente
- B. Sacar el brazo izquierdo formando escuadra con la mano hacia arriba
- C. Sacar el brazo izquierdo formando escuadra con la mano hacia abajo

21. ¿qué se entiende por conducir a la defensiva?

- A. Hacer valer sus derechos en todo momento
- B. Frenar antes de cada cruce
- C. Tomar en cuenta los posibles errores de los demás
- D. Hacer ver a los demás sus errores al conducir

22. Que Debe Hacer Usted Cuando Desea Cambiarse De Carril:

- A. Fijarse en el tránsito que le va siguiendo
- B. Frenar fuerte antes de cambiarse

<b>PROCESO SG-SST</b>			
Versión: 2	<b>PRUEBA TEORICA PARA CONDUCTORES</b>		
Fecha elaboración: 21/02/2023			
Fecha aprobación: 21/02/2023	Documento elaborado por: Coordinadora SG-SST	Aprobado por: Comité de Calidad	
Vigencia a partir de: 21/02/2023			

C. Anunciar oportunamente su intención de cambiarse a través de la direccional

D. Acelerar lo más rápido que pueda

**23. Como Señaliza Usted Con El Brazo Cuando Va A Girar Hacia La Izquierda:**

A. Saca el brazo izquierdo y lo extiende hacia arriba

B. Saca el brazo izquierdo formando escuadra hacia abajo

C. Saca el brazo izquierdo y lo extiende horizontalmente

D. Saca el brazo izquierdo formando escuadra con la mano hacia arriba

**24. Usted llega a una intersección regulada por semáforo que se encuentra en rojo y, al mismo tiempo, un policía o agente de tránsito le indica que avance, ¿qué debe hacer usted?**

A. Detenerse, porque la luz roja se lo está indicando

B. Avanzar, porque las instrucciones de un agente, prevalecen sobre las señales del tránsito

C. Avanzar, sólo si detrás suyo no vienen otros vehículos

D. Avanzar, sólo si está seguro que la luz roja está próxima a cambiar

**25. Qué debe hacer para evitar colisiones en carretera:**

A. Permanecer en el lado izquierdo de tu carril mientras manejas

B. Mantener una distancia de seguimiento suficiente

C. Cambiar de carril frecuentemente

D. Seguir a los otros vehículos de cerca

**26. ¿en una carretera de doble sentido con un carril central especial, los conductores de cualquier dirección pueden usar este carril para?**

A. Dar vuelta a la derecha


B. Dar vuelta en U

C. Rebasar

D. Dar vuelta a la izquierda

**Normatividad**

**27. La velocidad máxima permitida en carretera es:**

<b>PROCESO SG-SST</b>			
Versión: 2	<b>PRUEBA TEORICA PARA CONDUCTORES</b>		
Fecha elaboración: 21/02/2023			
Fecha aprobación: 21/02/2023	<b>Documento elaborado por:</b> Coordinadora SG-SST	<b>Aprobado por:</b> Comité de Calidad	
Vigencia a partir de: 21/02/2023			

- A. 105 km/ hr. ✓
- B. 100 km/ hr.
- ✗ C. 90 km/ hr.

28. ¿qué vigencia tiene el seguro obligatorio soat?

- A. Dos (2) años para los vehículos de servicio público
- B. Tres (3) años para los vehículos de servicio particular ✓
- ✗ C. Un (1) año para todos los vehículos que circulan en las vías nacionales

29. Las señales verticales se clasifican en:

- ✗ A. Reglamentarias, informativas y preventivas ✓
- B. Longitudinales y transversales
- C. Blancas, amarillas y rojas

30. En ocasiones la autoridad de tránsito podrá retirar con grúa vehículos de las calles:

- A. Cuando el vehículo se encuentre estacionado en zonas prohibidas y su conductor no se encuentra cerca del vehículo
- B. Cuando el vehículo se encuentra abandonado con áreas destinadas al espacio público y su conductor no se encuentra cerca al vehículo ✓
- C. Cuando se encuentra el vehículo bloqueando una vía principal y su conductor no está cerca del vehículo
- ✗ D. Todas las anteriores

31. ¿Cuál es la distancia que debe mantener un conductor con respecto al vehículo de adelante?

- A. Treinta (30) metros
- B. Cien (100) metros ✓
- ✗ C. Una distancia razonable y prudente

32. Los vehículos (carro) deberán llevar encendidas las luces reglamentarias desde:

- ✗ A. 1/2 hora antes de la puesta del sol, hasta 1/2 hora antes de su salida

PROCESO SG-SST		
Versión: 2 Fecha de elaboración: 21/02/2023 Fecha de aprobación: 21/02/2023 Fecha de vigencia a partir de: 21/02/2023	<b>PRUEBA TEORICA PARA CONDUCTORES</b>	
	<b>Documento elaborado por:</b> Coordinadora SG-SST	<b>Aprobado por:</b> Comité de Calidad



- B. 1/2 hora después de la puesta del sol, hasta 1/2 hora antes de su salida  
 C. Ninguna de las anteriores



33. ¿en cuál caso puede un agente de policía o de tránsito suspender la licencia de conducción a un conductor?

- A. Cuando ocurre un accidente  
 B. Cuando el conductor infringe una norma de tránsito  
 C. Cuando el conductor se encuentre en estado de embriaguez  
 ✗ D. En ningún caso, solamente la puede suspender o cancelar una decisión judicial



34. Para conducir vehículos de servicio público, la edad mínima para expedir la licencia de conducción es:

- ✗ A. Veinte (20) años cumplidos  
 B. Dieciséis (16) años cumplidos  
 C. Dieciocho (18) años cumplidos



