	PLAN ESTRATEGICO DE SEGURIDAD VIAL	VERSION	1
	PRUEBA DE CONOCIMIENTO	FECHA	13/09/2024

Nombre: <u>Julian Cuesta</u>	C.C. N°: <u>1006692473</u>
Cargo: <u>Conductor</u>	Fecha: <u>20/11/2025</u>
Tema de la Capacitación:	Calificación:


**1) Defina el significado de las siguientes señales, marque A, B, C o D según sea el caso:**

A. Curva peligrosa

B. Curva y contra curva pronunciada

☒ C. Curva pronunciada

D. Curva sucesivas primera




**2) Defina el significado de las siguientes señales, marque A, B, C o D según sea el caso:**

A. Peatones en la vía

☒ B. Zona deportiva

C. Zona escolar

D. Ninguna de las anteriores




**3) Defina el significado de las siguientes señales, marque A, B, C o D según sea el caso:**

A. Kilometraje

☒ B. Altura máxima permitida

C. Ruta departamental

D. Ninguna de las anteriores




**4) Defina el significado de las siguientes señales, marque A, B, C o D según sea el caso:**

☒ A. Curva a La izquierda

B. Giro a La derecha

C. Prohibido giro

D. Giro solamente a la izquierda




**5) Defina el significado de las siguientes señales, marque A, B, C o D según sea el caso:**

☒ A. Prohibido el cambio de calzada

B. Prohibido parquear a La derecha

C. Prohibido el cambio de carril

D. Ninguna de las anteriores





**Prelación en intersecciones o giros "Art 70 ley 769 de 2002"**

6) Si dos (2) o más vehículos que transitan en sentido opuesto llegan a una intersección y uno de ellos va a girar a la izquierda, tiene prelación el vehículo que va a seguir derecho.

R/: (F) O ☒

7) Cuando un vehículo se encuentre dentro de una glorieta, tiene prelación sobre los que están en ella, siempre y cuando esté en movimiento.

R/: (F) O ☒

8) Cuando dos vehículos que transitan por vías diferentes llegan a una intersección y uno de Ellos van a girar a la derecha, tiene prelación el vehículo que se encuentra a la derecha.

R/: (F) O ☒

9). Cuando un vehículo desee girar a la izquierda o a la derecha, debe buscar con anterioridad el carril más cercano a su giro e ingresar a la otra vía por el carril más próximo Según el sentido de circulación.

R/: (F) O ☒

10) La Norma que Reglamenta el Transporte en Colombia es:

- a) Decreto 1609 de 2002
- b) Decreto 1220 de 2005
- c) Resolución 4100 de 2004
- ☒ Ley 769 de 2002

11) El Número de Nacional de emergencias:

- a) 119
- b) 125
- c) 123
- ☒ 132

Julian Cuesta

Firma del Evaluado

Firma del Capacitador/Evaluador

