

C: 31/32

	PRUEBA TEÓRICA PARA CONDUCTORES	Aprobó Gerente General 07/05/2025
		S-SIG-PESV-F-20 V.2

NOMBRE Y APELLIDO: ELIEN ALBAUDRO CRESPO PEREZ

FECHA: 03-09-25 EDAD: 44

Marque una sola respuesta.

1. Al conducir se presenta unos espacios los cuales no se pueden ver ni siquiera por los espejos a estos espacios se les conoce como puntos:

- ✓ a) Invisibles
- b) Ocultos
- c) Recónditos
- d) Ciegos ✓

2. Las personas bajo la influencia de alcohol, drogas alucinógenas, trastornos mentales, invidentes, sordomudos, menores de 6 años y los ancianos pertenecen a peatones:


- ✓ a) Imprudentes
- b) Especiales ✓
- c) Ignorantes
- d) Ciegos.

3. De acuerdo con el código nacional de tránsito donde se encuentra concentración de personas debe reducir la velocidad a:

- ✓ a) 20 km / h.
- b) 25 km / h.
- c) 30 km / h. ✓
- d) 35 km / h

4. En las vías urbanas donde está permitido el estacionamiento se hará lo más cercano posible al andén, a una distancia no superior a:

- ✓ a) (30) centímetros del andén. ✓
- b) (35) centímetros del andén.
- c) (40) centímetros del andén.
- d) (45) centímetros del andén.

	PRUEBA TEÓRICA PARA CONDUCTORES	Aprobó Gerente General 07/05/2025
		S-SIG-PESV-F-20 V.2

5. El manejo preventivo o defensivo es:

- ✓ a) Exigir a los otros conductores que respeten mis derechos en la vía.
- b) Maniobrar el vehículo a muy baja velocidad por el carril derecho.
- c) Operar el vehículo evitando cualquier tipo de riesgo y accidente. ✓
- d) Conducir el vehículo gastando combustible y piezas en menor porcentaje.

Marque una sola respuesta

6. Viajando de noche usted es encandilado por las luces de un vehículo que viene en sentido contrario, ¿Qué debería usted hacer?

- ✓ a) Bajar su visión de protección solar
- b) Poner luces delanteras atrás
- c) Poner sus manos sobre sus ojos
- d) Bajar la velocidad y eventualmente detenerse. ✓

7. En qué caso se reduce la velocidad a 30 Km / h


- ✓ a) Zonas escolares ✓
- b) En pasos peatonales
- c) Por la berma o por la derecha de un vehículo

8. Que ley dicta las disposiciones penales administrativas bajo el influjo de alcohol u otras sustancias.

- ✓ a) Ley 1811
- b) Ley 1005
- c) Ley 1696 ✓

9.Cuál es el Artículo que habla de las Multas de la Ley 1383 de 2010

- ✓ a) Artículo 80
- b) Artículo 131 ✓
- c) Artículo 90
- d) Artículo 60

	PRUEBA TEÓRICA PARA CONDUCTORES	Aprobó Gerente General 07/05/2025
		S-SIG-PESV-F-20 V.2

10. En que Artículo se habla de: Ningún vehículo podrá llevar un número de pasajeros superior a la capacidad señalada en la Tarjeta de Propiedad con excepción de los niños de brazos.

- 7
- a) Artículo 86 → HABLE SOBRE REVER AUXILIAR LAS LUCES DE 6:00 PM A 6:00 AM
 - b) Artículo 79 → HABLE SOBRE LA PROHIBICIÓN DE REPARACIONES EN VÍA PÚBLICA
 - c) Artículo 82 → HABLE SOBRE LA OBLIGATORIEDAD DEL CINTURÓN DE SEGURIDAD

11. Un bus está detenido en una parada delante suyo. El intermitente izquierdo del bus está parpadeando. ¿Qué hace usted?




- ✓
- a) Hace parpadear sus luces delanteras y disminuye la velocidad
 - b) Toca la bocina y continua
 - c) Disminuye la velocidad y luego toca la bocina
 - d) Disminuye la velocidad y cede el paso al bus, siempre que ello sea seguro. ✓

12. Esta imagen a que grupo de Señales de Transito pertenecen



- ✓
- a) Señales Informativas
 - b) Señales Reglamentarias ✓
 - c) Señales Preventivas
 - d) Señales de Piso.

	PRUEBA TEÓRICA PARA CONDUCTORES	Aprobó Gerente General 07/05/2025
		S-SIG-PESV-F-20 V.2

13. Que significa la doble línea Amarilla


- ✓ a) Es un puente invisible.
- b) Autorizado para adelantar
- c) Por ninguna razón no se puede adelantar otro vehículo ✓
- d) Es una línea que Indica detenerse

14. ¿De qué le advierte esta señal?




- a) Presencia de escolares ✓
- b) Cruce de peatones
- c) Presencia de niños jugando
- d) Parque o plaza

15. Explique qué significan Las señales Informativas de transito



NOS SIRVEN PARA INFORMARNOS SOBRE RESTAURANTES
MONUMENTOS AEROPUERTOS ETC Y ASÍ UBICARNOS MAS
FÁCIL

	PRUEBA TEÓRICA PARA CONDUCTORES	Aprobó Gerente General 07/05/2025
		S-SIG-PESV-F-20 V.2

16. Cuáles son las Señales de tránsito que están clasificadas en Señales Horizontales.

- ✓
- a) Señales Lineales, Oblicuas y Transversales ✓
 - b) Señales Reglamentarias, Preventivas
 - c) Señales Informativas y Preventivas

17. Cada cuanto se realiza los alistamientos del vehículo.

- ✓
- a) Mensual
 - b) Semanal
 - c) Diario ✓
 - d) Cada quince días

18. Que cubre la Póliza de Responsabilidad civil Extracontractual.

- ✓
- a) Daños materiales y lesiones personales causados a terceros. ✓
 - b) Accidentes de tránsito
 - c) Perjuicios materiales causados a los pasajeros

19. Un vehículo de transporte especial cada cuanto realiza las revisiones preventivas.

- ✓
- a) Bimensual ✓
 - b) Diario
 - c) Semanal
 - d) Mensual

20. Estas señales de tránsito son:



Banderillero




Hombre trabajando



Equipo pesado en la vía



Trabajos en la banquina

	PRUEBA TEÓRICA PARA CONDUCTORES	Aprobó Gerente General 07/05/2025
		S-SIG-PESV-F-20 V.2

- ✓ a) Señales Reglamentarias
- b) Señales Preventivas
- ✓ c) Señales Transitorias
- d) Señales Informativas

21. Mientras va conduciendo su vehículo suena el celular. Si su celular no cuenta con el sistema de manos libres ¿Qué hace para responder la llamada?

- ✓ ~~A~~
- a) Reduce su velocidad
 - b) Estacionar el vehículo en un sitio seguro para contestar la llamada ✓
 - c) Conduce con una mano en el volante y la otra contesta la llamada
 - d) Es especialmente cauteloso en las intersecciones

22. Al ir circulando en su vehículo usted enfrenta esta señal. ¿Qué significa?




- ✓
- a) Que usted puede conducir hasta el 10% más rápido. Porque la señal es solo una recomendación
 - b) Que, en días no hábiles, cuando hay poco tránsito, no rige tal restricción.
 - c) Que usted no debe exceder esta velocidad ✓
 - d) Que usted debe mantener una velocidad inferior a la indicada en la señal




23. ¿Qué significa esta señal de tránsito?




- ✓
- a) Gravilla suelta
 - b) Peligro de que se pinche los neumáticos
 - c) Pavimento resbaladizo ✓

24.Cuál de los siguientes tipos de señales le indican el prohibido.

	PRUEBA TEÓRICA PARA CONDUCTORES	Aprobó Gerente General 07/05/2025
		S-SIG-PESV-F-20 V.2

- ✓
- a.  b.  c. 
- a) __, b) __, c) X,

25. ¿Que esta indicando esta señal?




- a) Semáforo fuera de servicio
b) Proximidad de semáforo ✓
c) Semáforo activado por peatones
d) Semáforos sincronizados

26. Que es una Bifurcación y para qué sirve:



UNA BIFURCACION ES UNA SEÑAL QUE NOS INDICA
QUE UN CAMINO SE DIVIDE EN DOS O MAS

27. Explique cómo es la figura y el color de las señales reglamentarias de tránsito

	PRUEBA TEÓRICA PARA CONDUCTORES	Aprobó Gerente General 07/05/2025
		S-SIG-PESV-F-20 V.2

✓ LAS SEÑALES REGLAMENTARIAS POR LO GENERAL SON REDONDAS DE COLOR BLANCO CON BORDE ROJO Y LETRA NEGRA CON EXCEPCIONES COMO EL PARE, CEDA EL PASO

28. Como están Clasificadas las Señales de Tránsito.

- a) Verticales y Horizontales.
- b) Reglamentarias y Preventivas ✓
- c) Transversales y Oblicuas.

29. Que significa esta Señal de tránsito




- a) Doble vía
- b) Túnel ✓
- c) Ceda el paso

30. Esta imagen a que grupo de Señales de Tránsito pertenecen



- a) Señales Reglamentarias.
- b) Señales Preventivas. ✓

	PRUEBA TEÓRICA PARA CONDUCTORES	Aprobó Gerente General 07/05/2025
		S-SIG-PESV-F-20 V.2

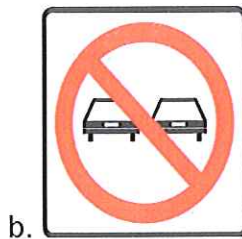

c) Señales Informativas.

31. Cuál de estas señales informan que hay una estación de servicio
Marque una respuesta:



a) __, b) X, c) __

32. ¿Cuál de estas señales reglamentarias es la señal de circulación con luces bajas?



a. ✓

b.

c.

DIRECCION DE TRANSITO Y TRANSPORTE PUBLICOS